

2019 年江苏宜兴市事业单位公开招聘人员《行政职
业能力测试》（精选）

公考通网校

www.chinaexam.org



公考通 APP



微信公众平台

2019年江苏宜兴市事业单位公开招聘人员《行政职业能力测试》（精选）

一、常识判断。每题所设选项中只有一个正确答案，多选、错选或不选均不得分。

1、习近平总书记关于宪法的重要论述为新时代依宪治国，加强宪法实施和监督，指明了前进方向、提供了根本遵循。下列符合我国宪法实施特点和经验的是（ ）。

- ①建立健全法律法规和制度体系，推动和保障宪法实施，是我国宪法实施的基本途径
- ②宪法规定是无法直接适用的，必须通过建立健全法律法规和制度体系体现宪法精神和要求
- ③宪法中的有关规定，必要时，需考虑兼容性，调适性和情势变迁，作出合宪性判断
- ④宪法没有明确规定的事项，不可以采取创制性办法处理实践中遇到的没有改变规定的问题

A、①②

B、③④

C、①③

D、②④

2、习近平总书记在纪念五四运动100周年大会的讲话中指出：我们要建设的社会主义现代化强国，不仅要在物质上强，更要在精神上强。精神上强才是更持久、更深沉、更有力量的。这体现的哲理是（ ）。

- A、精神是第一性的，物质是第二性的
- B、精神对物质具有强大的反作用
- C、精神的力量可以代替物质的力量
- D、先有精神，后有物质

3、十九大报告指出，我国社会主要矛盾的变化，是关系全局的历史性变化，但没有改变我们对我国社会主义所处历史阶段的判断，我国仍处于并将长期处于社会主义初级阶段的基本国情没有变，我国是世界上最大发展中国家的国际地位没有变，

根据这个判断，下列表述不正确的是（ ）。

- A、任何量变都会引起质变
- B、质变的发生以量变为基础
- C、量变会引起事物的部分质变
- D、事物的发展是量变和质变的统一

4、问题是时代的声音，每个时代总有属于它自己的问题，创新驱动发展战略、乡村振兴战略、区域协调发展战路……这些都是坚持问题导向部署经济发展新战略，坚持问题导向部署经济发展新战略的哲学依据是（ ）。

- A、矛盾的斗争性是绝对的
- B、矛盾的存在与发展具有特殊性

C、事物内部的主要矛盾决定事物的发展

D、承认矛盾的普遍性是正确解决矛盾的关键

5、2019年3月15日，我国通过了《中华人民共和国外商投资法》，对投资促进、投资保护、投资管理、法律责任等作了明确规定。下列不符合该项法律要求的是（ ）。

A、对外商投资企业实施准入后国民待遇

B、对外商投资企业大幅度放宽市场准入

C、对外商投资企业放宽了资金流动的监管

D、对外商投资企业实行负面清单管理制度

6、目前，我国外交部新闻发言人办公室正式开通了“抖音”账号，以便加强与各界的沟通，这种沟通方式属于（ ）。

A、非正式语言沟通

B、正式的非语言沟通

C、低度的正式沟通

D、高度的非正式沟通

7、小王为某服务窗口工作人员。某日，有市民来找同事老张办理相关业务，老张因临时要参加会议而不在岗，该市民随即向小王求助。你认为小王正确的做法应该是（ ）。

A、小王也有自己的岗位职责，对不属于职责范围的工作可置之不理

B、小王应在力所能及的情况下主动帮助市民办理相关业务

C、小王向市民说明情况，告知其需要耐心等待老张来办理

D、小王应告知老张有市民前来办理业务

8、近期，国务院办公厅印发《关于促进家政服务业提质扩容的意见》中明确要建立国家和省级的家政服务业信用信息平台。政府建立家政服务业信用信息平台的做法履行的职能是（ ）。

A、经济发展职能

B、制度建设职能

C、社会管理职能

D、市场维护职能

9、某古城因被联合国教科文组织列入“世界遗产名录”而名声大噪，古城遗址公园，古城的管理部门采取了单日游客流量控制措施，将每天入园游客的数量限制为3000人。对此，下列说法中正确的是（ ）。

A、这种做法不利于古城遗址的商业开发和文化传播

B、只有严格限制入园人数才能更好的保护古城遗址

C、“饥饿营销”有助于提升古城遗址的商业价值

D、综合管理才能有效实现古城遗址保护

10、下列选项中不属于“放管服”改革对象的是（ ）。

- A、由不同的部门管理的职业技能培训事务
- B、环保部门制定的企业污染排放处罚标准
- C、地方政府各部门掌握的政务服务数据信息
- D、基层社区承担的上级政府部门交办的事务

11、2019年5月12日是我国第11个全国防灾减灾日。气象灾害预警信号根据气象灾害可能造成的危害程度、紧急程度和发展态势一般划分为四级，其中特别严重的等级用（ ）色表示。

- A、蓝
- B、黄
- C、橙
- D、红

12、下列属于我国已经举办过的运动会是（ ）。

- A、世界运动会
- B、世界军人运动会
- C、残奥会
- D、冬奥会

13、电影《流浪地球》中的魔性口号“道路千万条，安全第一条，行车不规范，亲人两行泪”已深入人心。近期，某市为大力推进垃圾分类制度，准备以此为范本编写一条宣传语。你认为下列选项中最恰当的是（ ）。

- A、垃圾千万种，环保第一条，分类不规范，子孙两行泪
- B、垃圾千万种，分类第一条，处置不规范，城市两行泪
- C、垃圾千万种，发展第一条，分类不规范，政府两行泪
- D、垃圾千万种，和谐第一条，处置不规范，他人两行泪

二、言语理解与表达。每题所设选项中只有一个正确答案，多选、错选或不选均不得分。

14、2019年4月1日，人力资源社会保障部、国家市场监督管理总局、国家统计局向社会发布了13个新职业信息。建立新职业信息发布制度是国际通行做法，也是职业分类动态调整机制的重要内容。进入新世纪后，随着我国经济社会的快速发展，产业结构调整、科学技术进步、大众创新创业、社会上涌现出许多新业态，亟待在国家层面上予以认可规范，新职业信息发布制度应运而生。

这段文字的主旨是（ ）。

- A、新职业信息发布制度是与国际接轨的产物

- B、新职业信息发布制度体现社会发展的要求
- C、新职业信息发布制度需要在国家层面认可
- D、新职业信息发布制度反映了社会的新业态

15、在中国古代，优伶是从事戏剧、歌舞、音乐、说唱乃至滑稽调谑等带有表演性质的艺人的统称。一般认为，以表演乐舞为主的称倡优，以戏谑调笑为主的称俳优。但优伶、倡优、俳优三种称呼的区分并不十分严格，古籍里常常混用。宋元以来，随着中国戏剧技术的成熟和发展，优伶多用在称呼戏曲演员上，在先秦，优与伶是有所区别的、优所从事的表演较广，而伶专管音乐，因为伶的得名就是来自皇帝是的乐宫伶论。

这段文字最恰当的标题是：（ ）

- A、“优伶”与中国戏剧发展
- B、“优伶”角色的内部分类
- C、“优伶”统称的古今差异
- D、“优伶”概念的历史变迁

16、文学、艺术的著作和自然科学不一样，自然科学往往是最新的东西才最有价值，但人文学科的新成果，要经得起时间的检验。这几年比较热门的，再过几年可能销声匿迹了。如果老是跟着潮流走，往往会流于肤浅，真正的文字修养也难以提高。在古代中国，如果有人夸你达到了古人的境界了，那是对你最高的表彰。

与这段文字的文意相符的是：（ ）

- A、名著要经历历史筛选和淘汰
- B、新潮作品往往都是肤浅的
- C、眼下热门的作品很快会过时
- D、人文学科的名著都是古代的

17、口服脊髓灰质炎疫苗自投入使用以来，使无数儿童免于瘫痪。但也有极小概率的健康人群服用这种疫苗后反而会瘫痪，1962年，这种情况就已经很明确了，然而口服脊髓灰质炎疫苗还是被继续使用了半个世纪。近年来，由于脊髓灰质炎的发病率在全世界范围内已降到极低水平，由口服疫苗引起的负面作用就超过了病毒本身的危害。_____改变了防疫方式的选择，比如美国在2000年取消了口服脊髓灰质炎疫苗，全部改用注射疫苗。

填入划横线处最合适的一项是：（ ）

- A、风险收益比例的变化
- B、药物风险意识的提高
- C、防疫技术水平的提升
- D、疫苗致瘫风险的累积

18、现行的全球能源治理机制，要么反映传统的能源生产国利益，要么反映主要发达国家的利益，难以平

衡新旧能源生产国和消费国的利益诉求和分歧。在此背景下，亟须构建新的全球能源的治理机制，维护包括能源生产国、消费国、过境国等在内的所有利益相关国的整体能源安全，并充分体现新兴能源大国的利益诉求。

这段文字的主旨是：（ ）

- A、新兴能源大国利益诉求必须体现
- B、现行全国能源治理机制存在弊端
- C、维护所有利益相关国的能源安全
- D、新的全球能源治理机制亟须构建

19、部分运河城市由于大运河的开通而直接完成了自身“城市化”的进程，从默默无闻的农村或普通市镇发展为具有相当规模或中心意义的大城市，有些城市更因交通枢纽地位产生的集聚效应促进了经济的繁荣和城市规模的快速扩张，例如临清，随着运河的开通从一个叫“鳌头矶”的水州迅速崛起为重要的运输与物流中心，其城市功能、政治地位、社会结构和经济发展模式都发生了巨大转变。

这段文字旨在说明：（ ）

- A、大运河促进了沿岸城市的规模扩张，经济繁荣
- B、部分沿岸农村因大运河开通而加速“城市化”
- C、大运河的开通大大促进了部分沿岸地区的发展
- D、大运河使部分沿岸城市变得更开放、更多元化

20、去年，北方大范围遭遇严重冻害，导致全国苹果减产左右，库存减少，苹果涨价。与此同时，聪明人“抓住机会”入场投机，今年苹果价格走高既正常，又有不正常处。正常之处在于，去年苹果产量受自然灾害的影响下降，导致市面上供小于求，而不正常之处更为突出，除受供求关系影响，苹果价格连年走高存在资本的因素。近年，一些生鲜零售商哄抬价格、垄断市场的行为搅乱了苹果市场的正常运行。

这段文字意在强调：（ ）

- A、天气是苹果产量变化的决定因素
- B、苹果价格上涨背后有资本在操作
- C、苹果价格受到冲击
- D、零售商搅乱

21、“Z世代”是指1995年之后出生的一代人，今年起将陆续进入劳动力市场，其流行用语是“使用且谨慎的”。专家认为Z世代是头脑清醒的经济实用主义者。2008年经济危机期间，Z世代中许多的父母失去工作、储蓄，或两者兼而有之。Z世代无意冒险。2019年对佐治亚大学学生的调查中发现，学生心目中最理想的未来雇主特征是能提供有保障的就业。Z世代正在寻找更多的确定性和稳定性。他们很难看到金融的未来，而且厌恶风险。

这段文字最适合的标题是：（ ）

- A、无冒险精神的Z世代
- B、如何理解Z世代群体
- C、Z世代厌恶金融风险
- D、Z世代追求“铁饭碗”

22、2019年调查显示，75%的香港人希望吃到更健康的早餐，但因没时间（58%）、不方便（36%）及需要付出精力（35%）等因素阻碍行动。73%的人以“方便”为早餐选择主因，多于“健康好处”（34%）及“营养价值”（26%）。当被问及健康早餐的选择，多数香港人认为豆浆和杂粮麦片是较健康的饮食。对于早餐准备时间，70%的香港人表示最多只愿花20分钟，45%表示会用10至20分钟，25%则少于10分钟。

与这段文字的原意不符合的是：（ ）

- A、七成香港人对早餐选择缺少健康规划
- B、多数香港人不愿花更多的时间准备
- C、七成香港人早餐选择以利于健康为主
- D、豆浆是大多数香港人认可的早餐

23、利用孔雀羽毛及热带鱼因光反射呈现鲜艳色彩相同的原理，可开发出无须墨水染色的结构生色印刷技术，人工呈现各种颜色、能描绘高清图案，环保且不褪色，成本亦低廉。研究发现，分子结合形成的聚合物受压缩后结构会发生变化，可反射特定颜色从而显色。用光照射聚合物，人为使其结构发生变化，再用溶剂固定，便可显示红绿蓝等多种可见光的颜色。

与这段文字的原意相符的是：（ ）

- A、结构生色技术环保但成本较高
- B、结构生色印刷术无需墨水颜色
- C、结构生色印刷术无需人为介入
- D、无墨印刷术且持久成像

24、六部委下发地名整改文件，地方积极执行，初衷甚好，可以及时刹住“大、洋、重”浮夸风。但一些地方的地名整改却陷入主观化、扩大化的倾向。如酒店名并不在地名之列，更何况酒店名称多是合法注册的商标，受法律保护。地名整改的本质是为服务居民，给居民以便利。如不加分辨地将那些符合公序良俗与生活习惯的地名一改了之，不仅不会方便居民生活，还给居民添堵。

对这段文字概括最恰当的是：（ ）

- A、地名整改是为给居民提供便利的
- B、地名整改已陷入主观化的倾向
- C、酒店名本不应在地名整改之列
- D、地名要整改但不应该矫枉过正

25、夜间经济的火爆来得并不_____，而是有迹可循的。夜晚，被绚烂的灯光点亮的城市，拥有和白天截然不同的面貌，具备独特的吸引力。在生活节奏很快的当下，白天忙于工作的人们需要一个出口来放松自己，夜晚便_____地成为他们休闲和消费的重要时段。

依次填入划横线处最恰当的一项是：（ ）

- A、突兀 顺理成章
- B、奇特 自然而然
- C、奇怪 名正言顺
- D、唐突 不约而同

26、父母参与和投入对子女的学业发展以及行为习惯都非常重要，这意味着孩子的成长过程不能_____家长陪伴。然而，“陪伴”和“有效陪伴”是_____不同的两个概念，“陪伴”的时间长短甚至“陪伴”本身都不能用来衡量父母的爱。

依次填入划横线处最恰当的一项是：（ ）

- A、缺乏 断然
- B、缺少 截然
- C、缺失 决然
- D、缺席 迥然

27、由于监管缺失、市场混乱，许多资源在日趋_____的状态下呈持续增加态势，让共享经济市场逐渐“变味”，多余的产能和闲置资源不仅加重了社会负担，也偏离了共享经济的初衷。比如，共享单车的盈利模式并不是简单的经济盈利，已_____为通过押金租赁的方式获得社会资金，这种盈利模式存在很大的风险隐患。

依次填入划横线处最恰当的一项是：（ ）

- A、饱和 异化
- B、丰富 变异
- C、充足 转化
- D、富余 蜕化

28、“哭晕体”“跪求体”这些浮夸骄横的问题笔法，通过抬高自己、贬低别人来迎合一些读者傲娇自大的心态，_____了言论客观公允的价值底线，这种文风虽然可以激起一些廉价笑声，也很容易被人模仿，但以逞口舌之快的形式谋求“精神胜利”，只会制造浮夸风气、混淆是非黑白、_____公众认知。

依次填入划横线处最恰当的一项是：（ ）

- A、僭越 颠覆
- B、逾越 破坏

C、超越 扰乱

D、突破 颠倒

29、我国古代的战国时期，集权国家形成，开始以编户的方式管理民间，原来属于氏族群体的民间宗教，或在氏族解体过程中趋向_____，或因集权国家组织秩序的打压而_____。

依次填入划横线处最恰当的一项是：（ ）

A、卑微 沉寂

B、些微 沉落

C、式微 沉沦

D、衰微 沉滞

30、一些智能新闻客户端凭借强大的算法，_____分析并解读用户的阅读习惯，提供量身定制的新闻产品，顺应阅读个性化的时代潮流，可同时也制造难题，各种信息的内容野蛮生长，对于那些劣质信息，有网友总结为三类：真假难辨，_____；对错不分，价值导向错乱；缺乏深度，内容和观点过于肤浅。

依次填入划横线处最恰当的一项是：（ ）

A、精准 泥沙俱下

B、精辟 鱼龙混杂

C、精密 良莠不分

D、精确 黑白颠倒

31、像一根细小的针，蚂蚁以它自己的精神穿过我_____的外表，刺痛我的灵魂。比起蚂蚁，我们有什么理由言渺小、说_____，有什么脸面自暴自弃、玩世不恭。

依次填入划横线处最恰当的一项是：（ ）

A、软弱 卑俗

B、孱弱 卑微

C、虚弱 卑微

D、羸弱 卑怯

32、面临险境，自然不免有人_____、竟自遁世，却还是有一批有识之士积极入世，知难而进、_____、独步江湖，为苍生造福，颇有“众人皆醉我独醒”的狂者气概。

依次填入划横线处最恰当的一项是：（ ）

A、隐姓埋名 大智若愚

B、独辟蹊径 义正辞严

C、明哲保身 大显身手

D、独善其身 大义凛然

33、回首中国文学的曲线，可以看到，昔日有些文学作品一部接着一部出笼，也许曾红极一时，但是，终究因为其并非出自心灵，在生活的_____中，很快就_____。

依次填入划横线处最恰当的一项是：（ ）

- A、磨耗 黯然神伤
- B、磨炼 消失殆尽
- C、磨砺 黯然失色
- D、磨损 稍纵即逝

34、一座城，在那里，安安静静的，_____整个城市的繁华和衰落，这座城上演过数不清的悲欢离合，迎接过数不清的_____。

依次填入划横线处最恰当的一项是：（ ）

- A、包孕 风雨如晦
- B、包蕴 意气风发
- C、包罗 意犹未尽
- D、包容 风起云涌

35、_____的人类学者和游客不同，游客们看到斗牛已经兴奋了，而人类学家却要苦苦追寻其背后的意义和文化，结果得到的只是一个失落的传说。这种来自最深处的失望，是被现代文化击打出来的最_____的痛。

依次填入划横线处最恰当的一项是：（ ）

- A、寻索 痛彻心扉
- B、搜奇 深入骨髓
- C、猎奇 刻骨铭心
- D、探悉 伤心惨目

36、“诗意栖居”的境界离不开哲学思辨，它是_____人居理想和城市精神的统帅，“桃花源”模式之所以被长期追捧，主要原因是它_____着老庄哲学所谓“逍遥自在”、“物我两忘”、“追求宁静”的思想。

依次填入划横线处最恰当的一项是：（ ）

- A、引导 浸润
- B、引领 浸透
- C、统领 浸染
- D、指引 渗透

三、数量关系。每题所设选项中只有一个正确答案，多选、错选或不选均不得分。

37、-3, 0, 4, 12, 29, ()

下列选项中填入括号内最符合该数列排列规律的是:

- A、33
- B、44
- C、46
- D、62

38、-1, 2, -4, 4, 4, ()

下列选项中填入括号内最符合该数列排列规律的是:

- A、-4
- B、-8
- C、8
- D、16

39、某班有45名学生，其中22人参加化学小组，20人参加航模小组，12人两个小组都参加。则两个小组都不参加的人数是()。

- A、15人
- B、16人
- C、19人
- D、21人

40、50枚硬币由2分和5分组成，共值1元3角9分，2分硬币有()。

- A、30枚
- B、37枚
- C、40枚
- D、45枚

41、甲、乙两辆汽车从A地出发，同向而行，甲每小时走45千米，乙每小时走60千米。若甲车比乙车早出发2小时，则乙车追上甲车需要()。

- A、6小时
- B、7小时
- C、8小时
- D、9小时

42、善卷洞景区早上八点钟开始售票时已经有若干游客排队等待购票，假定每分钟来的游客一样多。从开始售票到等候的队伍消失，同时开5个窗口需30分钟，同时开6个窗口售票需20分钟。为节约游客等的时间，要

10分钟排队消失，至少需要开多少个窗口？（ ）

- A、7个
- B、8个
- C、9个
- D、10个

43、桃农采摘一批阳山水蜜桃装箱出售，第一天卖出 $\frac{1}{3}$ 得7200元，第二天卖出余下的 $\frac{4}{5}$ 得9600元，第三天将剩余的24箱全部卖出得1920元。问：这批水蜜桃共多少箱？平均每箱卖得多少元？（ ）

- A、144箱；130元/箱
- B、150箱；124.8元/箱
- C、180箱；104元/箱
- D、240箱；78元/箱

44、小王打印毕业论文，采用双面打印。装订时发现中间丢掉了一张，其剩余页码数之和恰好等于1000，问：小王的论文共多少页？丢掉的一张页码分别是多少？（ ）

- A、共45页；第16页和第17页
- B、共45页；第17页和第18页
- C、共46页；第40页和第41页
- D、共46页；第33页和第34页

45、加工一批零件，原计划每天加工100个。正好按期完成任务。由于改进了生产技术和工艺，实际每天加工了120个，这样，不仅提前3天完成加工任务，而且还多加工了40个。他们原计划加工（ ）零件。

- A、1600个
- B、1800个
- C、2000个
- D、2200个

46、在浓度为50%的盐水中加入2千克水，浓度变为30%。在此基础上若将浓度变为60%需再加入多少千克盐？（ ）

- A、3.75千克
- B、3.85千克
- C、3.95千克
- D、4.05千克

四、判断推理。每题所设选项中只有一个正确答案，多选、错选或不选均不得分。

47、笔：墨：笔墨

下列词或词组关系与上述词或词组关系最为相似的一项是：（ ）

- A、江：山：江山
- B、裁：缝：裁缝
- C、云：海：云海
- D、睡：觉：睡觉

48、国家：瑞士

下列词或词组关系与上述词或词组关系最为相似的一项是：（ ）

- A、无锡：宜兴
- B、电脑：键盘
- C、戏剧：话剧
- D、河流：长江

49、植物：食材：野草

下列词或词组关系与上述词或词组关系最为相似的一项是：（ ）

- A、江苏人：男人：青年
- B、矿泉水：热水：饮料
- C、教师：作家：女教师
- D、物质：意识：暗物质

50、水：善

下列词或词组关系与上述词或词组关系最为相似的一项是：（ ）

- A、糖：甜
- B、山：壮
- C、牛：笨
- D、石：硬

51、音乐之于（ ），相当于（ ）之于思想

下列词或词组依次填入括号内，能够最大限度满足题干所表达的类比关系的是：

- A、旋律—形象
- B、情感—言语
- C、符号—意识
- D、演奏—行为

52、毛笔之于（ ），相当于（ ）之于判断

下列词或词组依次填入括号内，能够最大限度满足题干所表达的类比关系的是：

- A、文字—心境
- B、墨汁—大脑
- C、竹管—推理
- D、文具—情感

53、镜架之于（ ），相当于（ ）之于枕芯

下列词或词组依次填入括号内，能够最大限度满足题干所表达的类比关系的是：

- A、眼睛—睡眠
- B、眼镜—枕木
- C、塔架—绣花
- D、镜片—枕套

54、泥土之于（ ），相当于皮革之于（ ）

下列词或词组依次填入括号内，能够最大限度满足题干所表达的类比关系的是：

- A、砖头—皮鞋
- B、蚯蚓—皮匠
- C、泥沙—皮筋
- D、小草—动物

55、观众之于（ ），相当于学生之于（ ）

下列词或词组依次填入括号内，能够最大限度满足题干所表达的类比关系的是：

- A、影院—网络
- B、影片—课本
- C、欣赏—考试
- D、零食—作业

56、这个问题张同学的回答我十分赞同。

从内在的词语组合关系上看，下列结构体与题干最为相似的一项是：（ ）

- A、这个姑娘眼睛大的让人羡慕
- B、这个花瓶小赵送给他姐姐了
- C、这个角色小李扮演没有问题
- D、这个影片他的评论同行有异议

- 57、①老陈让侄子网购几个挂架
 ②老陈在新家门口收到了网购挂架
 ③老陈前妻让快递改送老陈家

- ④快递按老陈新家地址再次投送
⑤快递按所写地址把挂架送至老陈家

- A、①-④-⑤-③-②
B、①-⑤-③-④-②
C、①-④-⑤-②-③
D、①-⑤-③-②-④

58、①老王奶奶说“不，我们北京有暖气”

- ②老王请奶奶到自己家过冬
③老王坐上了北上的动车
④老王坐上了南下的动车
⑤老王接到奶奶百岁喜宴邀请

- A、⑤-③-②-①-④
B、⑤-④-②-①-③
C、⑤-③-②-④-①
D、⑤-③-④-②-①

59、①南山大学文学学院的网页上出现了李主任的座谈发言视频

- ②李主任等5人根据陈校长所介绍的经验细化了具体考察内容
③张副院长等6人按计划听取南山大学陈校长的经验介绍
④李主任等5人参与了南山大学文学院组织的对口交流座谈会
⑤北海学院的张副院长带该院中文系的李主任等5人去南山大学考察

- A、⑤-③-①-④-②
B、⑤-②-④-①-③
C、⑤-②-③-④-①
D、⑤-③-②-④-①

60、①“又想离家出走”女的边拽边训斥

- ②小雯在路人的帮助下脱离危险
③小雯匆匆走在通往学校的路上
④小雯大哭说“我不认识你们”
⑤小雯突然被两中年男女拽往面包车

- A、⑤-③-②-①-④
B、⑤-④-③-①-②

C、③-⑤-①-④-②

D、③-⑤-④-②-①

61、①交警甲把原定罚款数减掉一半

②货车司机反复恳求少罚一点

③交警甲拦住货车开出高额罚款单

④交警甲被民警带走接受调查

⑤货车司机发现本次罚款异常

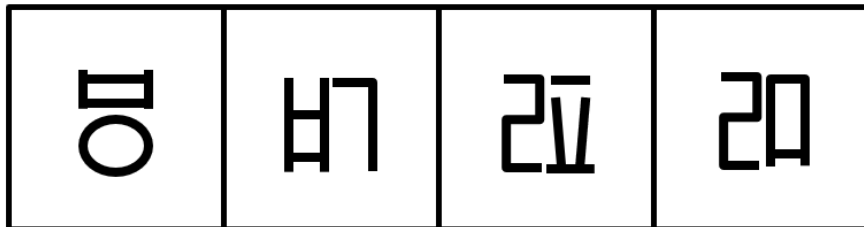
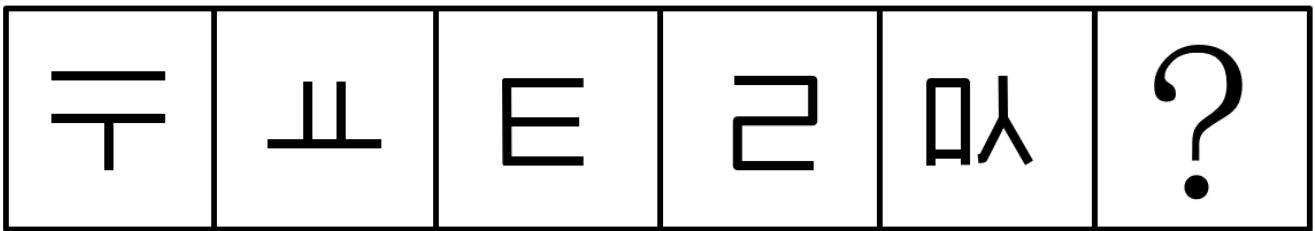
A、③-②-①-⑤-④

B、②-①-⑤-④-③

C、③-②-⑤-④-①

D、②-①-⑤-③-④

62、从所给的四个选项中，选择最合适的一个，使之呈现一定的规律性。



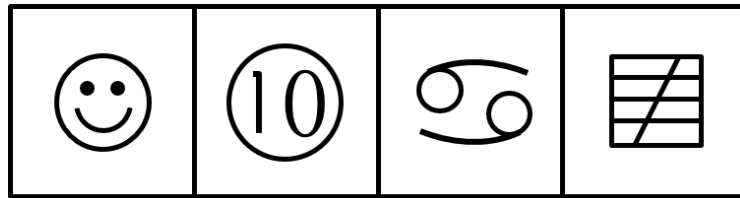
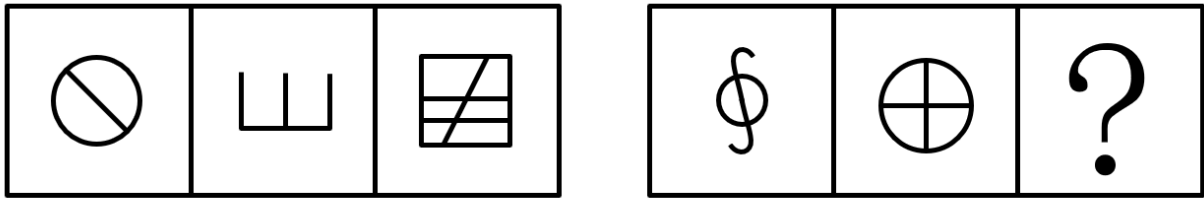
A

B

C

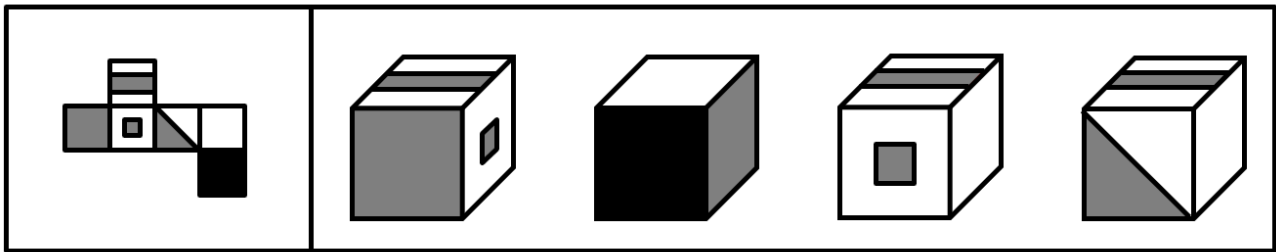
D

63、从所给的四个选项中，选择最合适的一个，使之呈现一定的规律性。



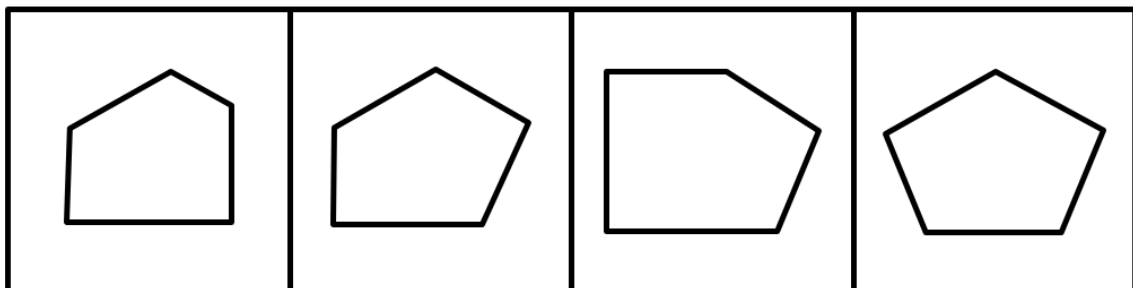
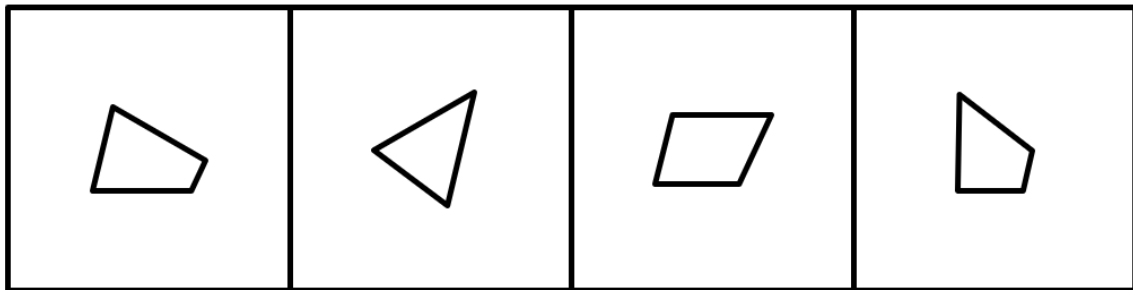
A B C D

64、左边给定的是正方体的外表面展开图，右边哪一项能由它折叠而成？



A B C D

65、从所给的四个选项中，选择最合适的一个，使之呈现一定的规律性。



A B C D

66、智能手机惠及千家万户，极大地方便了人们的购物消费。但最近一位英国女士非常烦恼。起因是，她养的一只非洲鹦鹉学着她的话，帮助她在网上买了一大堆物品，使她蒙受很大的经济损失。对此，有新闻评论员

认为，要杜绝此类事件再次发生，就得关掉手机的语音购物功能，或者不养非洲鹦鹉。

以下哪项描述的事实，最能质疑该评论员的观点？（ ）

- A、小龙养了许多八哥，也没关手机的语音购物功能，但没出现此类事件
- B、小丽养了中国鹦鹉，也没关手机的语音购物功能，但没出现此类事件
- C、小红养了非洲鹦鹉，也没关手机的语音购物功能，但没出现此类事件
- D、小明没养非洲鹦鹉，也没关手机的语音购物功能，却出现了此类事件

67、如果不起雾，飞机将按时起飞，飞机没有按时起飞一定是起雾了。

下列哪个选项与题干的推理最为相似？（ ）

- A、如果不用功，就学不好逻辑，没有学好逻辑，一定是没用功
- B、假如物体摩擦，那么一定会生热，物体不摩擦，一定不会生热
- C、若是不讲诚信，就无法立足社会，奸商不讲诚信，所以不能立足社会
- D、只要两个角是对顶角，那么它们就会相等。两个角不相等，肯定不是对顶角

68、甲、乙、丙三位教师就钱飞、程伟两位同学能否考上双一流大学发表了自己的猜测。

甲：如果钱飞考不上，那么程伟也考不上

乙：或者钱飞考不上，或者程伟考上

丙：如果钱飞考上，那么程伟考不上

如果三位老师的猜测都没有错，那么这两位同学的考试结果应该是：（ ）

- A、仅钱飞考上
- B、仅程伟考上
- C、钱飞和程伟都考上
- D、钱飞和程伟都没有考上

69、有些桥牌爱好者加入桥牌协会；所有诗词爱好者都加入了诗词协会；所有加入桥牌协会的人都不爱好诗词；所有加入诗词协会的人都参加了诗词创作大赛。

如果上述断定都是真的，那么以下各项除了哪项都可以确认是真的？（ ）

- A、所有诗词爱好者都参加了诗词创作大赛
- B、有些桥牌爱好者不爱好诗词
- C、有些加入桥牌协会的人没有加入诗词协会
- D、加入桥牌协会的人可能参加了诗词创作大赛

70、某贫困县11个贫困乡，经过三年的努力，其脱贫情况有如下说法：

- (1) 该县金沙乡脱贫了
- (2) 该县所有的乡都脱贫了

- (3) 该县有的乡脱贫了
- (4) 该县有的乡没有脱贫

经过详细调查，发现上述说法只有两个是正确的，可见：（ ）

- A、该县有的乡脱贫了，但也有的乡没有脱贫
- B、该县金沙乡脱贫了
- C、该县所有的乡都脱贫了
- D、该县所有的乡都没有脱贫

五、资料分析。每题所设选项中只有一个正确答案，多选、错选或不选均不得分。

(一)

2018年G省，粮食作物播种面积3226.56万亩，比上年下降0.9%；糖蔗种植面积223.79万亩，增长2.0%；油料种植面积509.90万亩，增长2.4%；蔬菜种植面积1906.32万亩，增长3.6%；中草药种植面积61.75万亩，增长18.0%。

2018年G省，粮食产量1193.49万吨，比上年下降1.3%；糖蔗产量1197.24万吨，增长4.6%；油料产量105.50万吨，增长4.2%；蔬菜产量3330.00万吨，增长4.8%；水果产量1540.99万吨，增长8.4%；茶叶产量9.87万吨，增长5.3%。

2018年G省，猪牛羊禽肉产量440.81万吨，比上年增长1.2%。其中，猪肉产量28152万吨，增长1.3%；禽肉产量153.25万吨，增长1.0%。全年全省水产品产量848.25万吨，增长1.5%。其中，海水产品447.40万吨，下降1.0%；淡水产品400.85万吨，增长5.0%。

71、2017年G省，粮食作物播种面积比糖蔗、油料、蔬菜、中草药种植面积之和：（ ）

- A、少了不到600万亩
- B、少了600万亩以上
- C、多了不到600万亩
- D、多了600万亩以上

72、2018年G省粮食作物每亩产量同比：（ ）

- A、下降了不到5%
- B、下降了5%以上
- C、上升了不到5%
- D、上升了5%以上

73、2017年G省，海水产品产量约为淡水产品产量的：（ ）

- A、1.8倍
- B、1.5倍

C、1.2倍

D、0.9倍

74、以下4项关于G省的信息中，能够直接从资料中推出的有几项：

①2018年G省各种农作物播种（或种植）面积中，中草药种植面积增量最大

②2018年G省，糖蔗每亩产量>蔬菜每亩产量>粮食每亩产量>油料每亩产量

2018年6月全国主要城市外卖数据

城市	饿了么			美团			外卖倒闭率 (%)
	店铺量 (家)	总单量 (万单)	人均单量 (单)	店铺量 (家)	总单量 (万单)	人均单量 (单)	
上海	93301	3475	1.44	79469	2916	1.21	5.18
深圳	63962	1146	0.92	58642	1764	1.41	0.87
广州	47393	969	0.67	51469	1547	1.07	8.09
苏州	44793	776	0.73	41858	1178	1.1	2.89
重庆	42899	509	0.17	43593	1104	0.36	8.78
北京	42514	1763	0.81	49253	3399	1.57	2.58
杭州	42360	1421	1.5	37316	1166	1.23	6.01
成都	40969	720	0.45	41257	1581	0.99	7.09
天津	35629	604	0.39	17807	466	0.3	1.87
南京	34717	963	1.16	30739	1367	1.64	4.92

③2018年G省茶叶产量增长的增量约为0.09吨

④2018年G省水产品产量中，淡水产品所占比重同比提高

A、1

B、2

C、3

D、4

(二)

75、表中所列城市中，2018年6月美团外卖店铺数最多相差：（ ）

A、2.6倍

B、2.7倍

C、3.5倍

D、4.5倍

76、表中所列城市中，2018年6月在饿了么，美团外卖点餐人次平均在1000万以上的城市有：（ ）

A、9个

- B、8个
- C、7个
- D、6个

77、表中所列城市中，2018年6月饿了么外卖店均单量从高到低依次是：（ ）

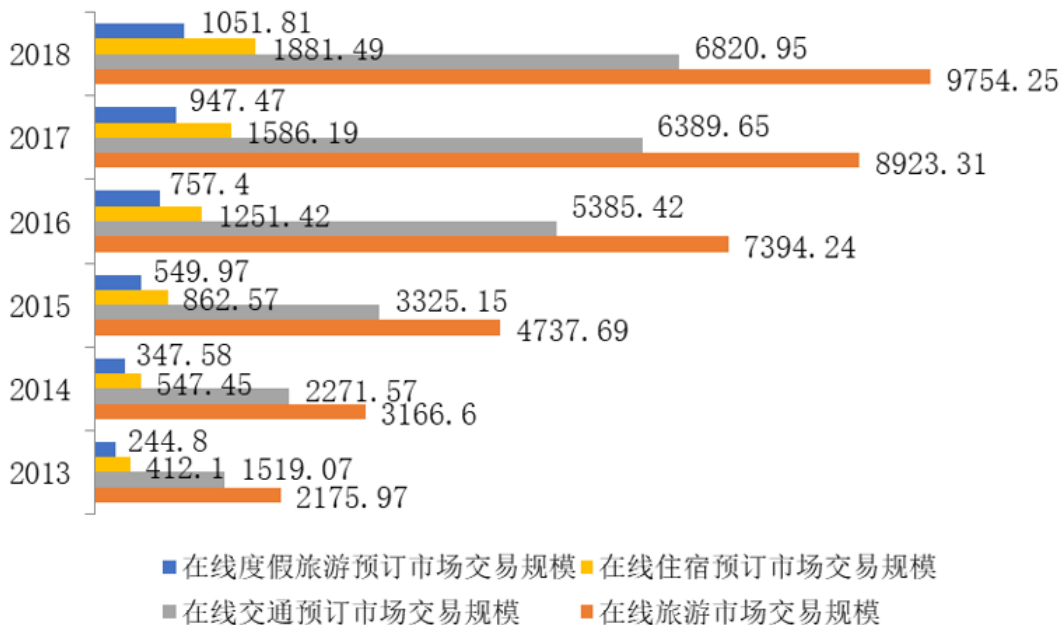
- A、北京、上海、南京、深圳
- B、北京、上海、广州、南京
- C、上海、北京、广州、深圳
- D、北京、上海、深圳、广州

78、2018年6月美团外卖总单量排名前三的三个城市，其总单量之和占表中所列城市总单量合计的比重最接近的是：（ ）

- A、30%
- B、40%
- C、50%
- D、60%

(三)

2013-2018中国在线旅游市场交易规模 单位：亿元



79、2013~2018年，在线度假旅游预订市场交易规模占在线旅游交易规模的比重最高的是：（ ）

- A、2015年
- B、2016年

C、2017年

D、2018年

80、下列折线图中，能准确反映2016~2018年在线交通预订市场交易规模同比增速变化趋势的是：（ ）

81、2014~2018年，在线住宿预订市场交易规模同比增速超过的年份有：（ ）

A、1年

B、2年

C、3年

D、4年

82、设2014~2018年在线交通预订市场交易规模，在线住宿预订交易规模，在线度假旅游预订市场交易规模年平均增速分别为 I_1 ， I_2 ， I_3 ，则下列表示正确的是：（ ）

A、 $I_1 > I_2 > I_3$

B、 $I_1 > I_3 > I_2$

C、 $I_2 > I_1 > I_3$

D、 $I_2 > I_3 > I_1$

83、能够从上述资料中推出的是：（ ）

A、2014~2018年中国在线旅游市场交易规模增速逐年加快

B、2013~2018年在线住宿预订市场交易规模与在线度假旅游预订市场交易规模的差额最高的年份其差额，约为最低年份的4倍

C、2018年，在线旅游市场交易规模比2014年翻了两番多

D、2016~2018年，在线交通预订市场交易规模占在线旅游市场交易规模的比重逐年下降

参考答案

1、C

本题考查政治。

宪法作为国家的根本法，在党和国家事业中发挥着极为重要的、独特的作用。我国宪法实施的特点是多渠道、多方式、多主体、多层次，是一个持续的发展进程。

①正确，加强立法工作，提高立法质量，形成完备的法律规范体系，是全面依法治国、建设社会主义法治国家的必然要求，也是宪法实施的必然要求。通过建立健全法律法规和制度体系，推动和保障宪法实施，是我国宪法实施的基本途径。

②错误，宪法中有一些规定具有直接适用的性质，不必通过其他途径和方式，这是宪法规定的直接适用。

③正确，宪法中的有关规定，必要时，需考虑兼容性、调适性和情势变迁，作出合宪性判断和安排，以更好实现宪法的稳定性和适应性的统一。

④错误，对于宪法法律没有明确规定的事项，必要时，根据宪法精神，可以采取创制性办法，及时妥善处理实践中遇到的没有规定、没有先例的新情况新问题。

故正确答案为 C。

2、B

本题考查政治。

辩证唯物主义唯物论认为，物质是第一性的，精神是第二性的，物质决定精神，精神对物质具有能动作用。

A 项错误，物质是第一性的，精神是第二性的。

B 项正确，精神对物质具有强大的反作用，正确的精神力量促进事物的发展，错误的精神力量阻碍事物的发展。

C 项错误，物质决定精神，精神的力量不可以代替物质的力量。

D 项错误，物质是第一性的，精神是第二性的，先有物质，后有精神。

故正确答案为 B。

3、A

本题考查政治。

唯物辩证法认为，世界上的事物发展的过程都经过质变和量变两种状态，量变是质变的必要准备，质变是量变的必然结果，质变又为新的量变开辟道路，事物在新质的基础上开始量变。

A 项错误，事物的发展是从量变开始的，量变达到一定程度，超出一定界限，就会引起质变，但是不是任何量变都会引起质变，必须超出一定的界限，才会出现质的变化。

B 项正确，事物的发展是从量变开始的，没有量变的准备，就不会有质变，因此质变的发生以量变为基础。

C 项正确，量变达到一定程度，超出一定界限，就会引起质变或部分质变（事物发展过程中的局部性的质变）。

D 项正确，量变和质变是相互渗透的，量变是质变的必要准备，质变是量变的必然结果，量变中包含质变，质变中有量的扩张，事物的发展是量变和质变的统一。

本题为选非题，故正确答案为 A。

4、B

本题考查政治。

A 项错误，唯物辩证法认为，矛盾就是对立统一，矛盾的斗争性和同一性相反相成。矛盾的斗争性是绝对的，矛盾着的对立双方相互排斥、相互斗争。题干描述的是坚持问题导向，没有提到矛盾的对立双方相互排斥、相互斗争，与矛盾的斗争性没有直接关联。

B 项正确，矛盾具有特殊性，矛盾着的事物及其每一个方面各有其特点，不同事物的矛盾有不同的特点，同一事物的矛盾在不同发展阶段有不同的特点，矛盾的双方各有其特点。坚持问题导向部署经济发展战略，就是在分析矛盾存在与发展的不同特点的基础上，通过分析问题、解决问题的方法，部署经济发展战略。

C 项错误，事物的主要矛盾和次要矛盾相互区别，相互联系，在一定条件下相互转化。主要矛盾是指在同一事物存在的许多矛盾中，有一对矛盾处于支配地位，起着主导作用，决定事物的性质和发展。题干描述的是坚持问题导向，寻找解决问题的方法，与事物的主要矛盾没有直接关联。

D 项错误，选项表述本身错误，矛盾的特殊性是指具体事物的矛盾以及每一矛盾的各个方面都有其特点。因此，分析矛盾的特殊性，就是要坚持具体问题具体分析，承认矛盾的特殊性是正确解决矛盾的关键。

故正确答案为 B。

5、A

本题考查法律常识。

A 项错误、D 项正确，根据《外商投资法》第四条第一款规定：“国家对外商投资实行准入前国民待遇加负面清单管理制度。”

B 项正确，根据《外商投资法》第二十四条规定：“各级人民政府及其有关部门制定涉及外商投资的规范性文件，应当符合法律法规的规定；没有法律、行政法规依据的，不得减损外商投资企业的合法权益或者增加其义务，不得设置市场准入和退出条件，不得干预外商投资企业的正常生产经营活动。”

C 项正确，根据《外商投资法》第二十一条规定：“外国投资者在中国境内的出资、利润、资本收益、资产处置所得、知识产权许可使用费、依法获得的补偿或者赔偿、清算所得等，可以依法以人民币或者外汇自由汇入、汇出。”

本题为选非题，故正确答案为 A。

6、D

本题考查管理学。

沟通可以分为正式沟通与非正式沟通。正式沟通是指组织中依据规章制度明文规定的原则和渠道进行的沟通，如公函来往、文件传达、发布指示、指示汇报、会议制度、书面报告、一对一的正式会见等。非正式沟通是指在组织正式信息渠道之外进行的信息交流。当正式沟通渠道不畅通时，非正式沟通就会起到十分关键的作用。与正式沟通相比，非正式沟通的信息传递速度更快、范围更广，但准确性比较低。

“抖音”是一款可以拍短视频的音乐创意短视频社交软件，我国外交部新闻发言人办公室正式开通“抖音”账号，属于使用高度的非正式沟通方式，传达有关信息，加强与各界的沟通。“抖音”拍摄短视频不属于直接的对话交流（语言交流），故而不属于非正式语言沟通。

故正确答案为 D。

7、B

本题考查管理学。

A 项错误，小王有自己的岗位职责，如果不熟悉其他业务，对求助的市民不应置之不理，而是应该耐心解释说明，热情接待。

B 项正确，小王应该在自己力所能及的情况下，通过请示领导、请教其他同事的方式，帮助市民办理相关业务，让市民少跑路。

C 项错误，小王向市民说明情况，让其耐心等待的做法有违强化作风建设、服务群众的改革精神，应该在力所能及的情况下，帮助市民办理相关业务。

D 项错误，老张在开会，不可使用通讯工具，小王不应该在老张开会期间告知其有市民前来办理业务，可以等老张回到工作岗位上，告知老张有市民前来办理业务，完成工作流程。

故正确答案为 B。

8、C

本题考查管理学。

政府职能也叫行政职能，是指行政主体作为国家管理的执法机关，在依法对国家政治、经济和社会公共事务进行管理时应承担的职责和所具有的功能，主要包括政治职能、经济职能、文化职能和社会职能。

A 项错误，经济发展职能是指政府为国家经济的发展，对社会经济进行管理的职能。我国政府主要有四大经济职能：宏观调控职能、提供公共产品和服务职能、市场监管职能、提供社会管理的职能。

B 项错误，没有制度建设职能的说法。

C 项正确，社会职能是指除政治、经济、文化职能以外的政府必须承担的其他职能。这类事务一般具有社会公共性，无法完全由市场解决，应当由政府从全社会的角度加以引导、调节和管理。目前，政府的社会职能主要有：①调节社会分配和组织社会保障的职能；②保护生态环境和自然资源的职能；③促进社会化服务体系建立的职能；④提高人口质量，实行计划生育的职能。政府建立家政服务信用平台的做法属于存进社会化服务体系的建立职能。

D 项错误，没有市场维护职能的说法。

故正确答案为 C。

9、D

本题考查管理学。

A 项错误，古城的管理部门限制每日入园的游客，是为了保护古城遗址，让古城不至于承受太大的压力，便于进行维护、清洁、运营等管理，有利于古城遗址进行持续的商业开发和文化传播。

B 项错误，严格限制入园人数可以更好地保护古城遗址，但是这不是唯一的方法，还可以通过强化管理、保护开发、虚拟游园、文化研究等方式保护古城遗址。

C 项错误，限制入园不是“饥饿营销”，不是进行供求关系的调节，而是出于对古城遗址的保护目的。

D 项正确，只有综合运用各种管理手段，从文化研究、商业开发、管理维护等各个方面入手，才能更好地保护古城遗址。

故正确答案为 D。

10、B

本题考查管理学。

放管服，就是简政放权、放管结合、优化服务的简称。“放”即简政放权，降低准入门槛；“管”即创新监管，促进公平竞争；“服”即高效服务，营造便利环境。

A 项正确，不同部门管理的职业技能培训事务可以通过优化服务的方式，由一个部门牵头，各个部门配合，综合进行职业技能培训，为群众营造便利环境。

B项错误，企业污染排放处罚标准由法律法规、部门规章（生态环境部规章）、地方法规等制定，基层环保部门必须遵照法律、部门规章等执行，而无权制定企业污染排放处罚标准，故不属于“放管服”改革对象。

C项正确，地方政府各部门掌握的政务服务数据信息可以依据政府信息公开相关要求，主动公开或依申请公开，属于“放管服”改革对象。

D项正确，基层社区承担的上级政府部门交办的事务，属于简政放权，是政府权力下放的内容，属于“放管服”改革对象。

本题为选非题，故正确答案为B。

11、D

本题考查科技常识。

根据《气象灾害预警信号发布与传播办法》第三条规定：“预警信号的级别依据气象灾害可能造成的危害程度、紧急程度和发展态势一般划分为四级：IV级（一般）、III级（较重）、II级（严重）、I级（特别严重），依次用蓝色、黄色、橙色和红色表示，同时以中英文标识。”

故正确答案为D。

12、C

本题考查人文常识。

A项错误，世界运动会是一个国际性的体育竞赛盛会，于1981年首次举办，每四年举行一次，竞赛项目以非奥运会项目为主，于每次奥运一年后举行。2019年5月9日在澳大利亚黄金海岸举行的国际世界运动会协会2019年全会上，成都获得2025年世界运动会举办权，成为中国大陆首个举办这项赛事的城市。

B项错误，世界军人运动会是国际军事体育理事会主办的全球军人最高规格的大型综合性运动会，每四年举办一届，规模仅次于奥运会，是和平时期各国军队展示实力形象、增进友好交流、扩大国际影响的重要平台，被誉为“军人奥运会”。第七届世界军人运动会将于2019年10月18日至27日在中国武汉举行，是我国首次举办世界军人运动会。

C项正确，残疾人奥林匹克运动会始办于1960年，是由国际奥委会和国际残疾人奥林匹克委员会主办的、专为残疾人举行的世界大型综合性运动会，每四年于夏季奥运会后举办一届。2008年9月，第十三届残奥会在我国举行，除马术比赛在香港举行、帆船比赛在青岛举行外，其余项目均在北京举行。

D项错误，冬季奥林匹克运动会简称冬奥会，是世界规模最大的冬季综合性运动会，每四年举办一届，1994年起与夏季奥林匹克运动会相间举行。第二十四届冬奥会将于2022年02月04日至2022年02月20日在中国北京和张家口举行，是我国首次举办冬奥会。

故正确答案为C。

13、A

本题考查人文常识。

A项正确，首先强调环保是推行垃圾分类的目的，然后强调要进行规范的垃圾分类，否则子孙会非常伤心。子孙后代涉及到所有人的切身利益，会引起大家的关注，最为恰当。

B项错误，推行垃圾分类的目的不是分类，而是保护环境，节约资源。对垃圾进行处置也不是市民能够最终完成的工作，不与大家直接相关。城市是大家共同生活的地方，但是并不是所有人都会关注城市的发展，不如子孙流泪更让人关注。

C项错误，发展不是推行垃圾分类的目的，政府也不是环保、垃圾分类的决定因素，相比而言不是最恰当的。

D项错误，和谐不是推行垃圾分类的目的，处置垃圾的最终环节也不是市民，他人流泪会让人觉得与自己无关，不太恰当。

故正确答案为A。

14、D

文段开头通过政府发布了新的职位信息，表明建立新职业信息发布制度的重要性，紧接着指出在经济发展产业调整的背景下，正是因为许多新业态的出现，才让新职业信息发布制度得以产生，因此文段重在强调发布制度产生的原因正是由于众多新业态的出现，对应D项。

A项，与国际接轨对应“国际通行做法”，后文还提到“也是调整机制的重要内容”，表述片面，排除；

B项，“社会发展”对应“随着我国经济社会的快速发展”，属于背景，非重点，且之后还有“产业结构调整”的因素，排除；

C项，需要认可的不是制度，而是“新业态”，偷换概念，排除。

故正确答案为D。

【文段出处】《人社部、市场监管总局、统计局联合发布新职业》

15、B

首句对“优伶”概念下了个定义，紧接着引用了别人的观点“一般认为，以表演乐舞为主的称倡优，以戏谑调笑为主的称俳优”，他人观点并不重要，关键是找到作者的观点，后文转折词“但是”引出作者真正的观点“优伶、倡优、俳优三种称呼的区分并不十分严格，古籍里常常混用”，之后又举了“宋元”“先秦”的例

子。重点分析观点句，作者认为“优伶”为统称，其下包括“倡优、俳优”等概念，不过它们和“优伶”还是稍有差异，所以重点在讨论“优伶”和“倡优、俳优”的关系，对应B项，“优伶”角色的内部分类。

A项，“与中国戏剧发展”无中生有；

C项，“统称的古今差异”，文中主要讲了古代，今天的“优伶”并未提及；

D项，“概念的历史变迁”非重点，没有讲到每个朝代到底有什么样的变迁。

故正确答案为B。

【文段出处】《中国优伶史纲》

16、A

观察提问方式，选择相符的选项。A项，“名著要经历历史筛选和淘汰”，对应文中，“人文学科的新成果，要经得起时间的检验”，说明能够被称为成果，是需要经得起时间的检验，“名著”一定也是“成果”的体现，所以，“要经历历史筛选和淘汰”，A项符合文意。

B项，“新潮作品往往都是肤浅的”，过于绝对，文中是“如果老是跟着潮流走，往往会流于肤浅”，只是说不能一味追逐新潮，而非“往往都肤浅”；

C项，“眼下热门的作品很快会过时”，偷换语气，文中是“可能销声匿迹”；

D项，“名著都是古代的”无中生有，原文没有提到。

故正确答案为A。

【文段出处】《北大中文系杨铸教授：文学何为》

17、A

横线划在尾句，所填内容往往起到总结概括的作用，到前文寻找，是什么“改变了防疫方式的选择”，文段前面先讲了，口服脊髓灰质炎疫苗虽然也存在着少量风险，但是能使无数儿童免于瘫痪，毕竟利大于弊，因此依然被长期使用；后面又讲到，现在该病发病率已经极低，由口服疫苗引起的负面作用就超过了病毒本身的危害，此时弊大于利，所以需要改变了。对应选项，A符合文意，“风险收益比例”相当于利弊的对比。

B项，“药物风险意识的提高”，其实以前就有风险意识，只是迫于无奈，需要救助更多的人，排除；

C项，“防疫技术水平的提升”，主要是发病率极低，与文意不符；

D项，“疫苗致瘫风险的累积”，属于无中生有，排除。

故正确答案为A。

【文段出处】《危害少数人，拯救全人类，疫苗的利弊该如何权衡？》

18、D

文段首句指出现行的全球能源治理机制存在的问题，即难以平衡新旧国家的诉求和分歧。接下来讲述在此背景下的解决对策，即构建新的全球能源的治理机制，接着用“维护能源安全，充分体现大国诉求”的意义描述进一步论证了对策的必要性。故文段重点为对策，对应D项。

A、C项，均围绕尾句对策的意义，起解释说明作用，非重点，排除；

B项，“存在弊端”为问题描述，非重点，排除。

故正确答案为D。

【文段出处】《共建“一带一路”将成为能源合作新亮点》

19、C

文段首句提出观点，部分运河城市由于大运河的开通完成了城市化进程，也有部分城市因大运河促进了经济的繁荣和城市规模的快速扩张。接下来以临清为例，对此进行解释说明。故文段行文脉络为“提出观点+解释说明”，重点为观点，即大运河促进了部分城市的发展，对应C项。

A、B项，均表述片面，排除；

D项，“更开放、更多元化”无中生有，排除。

故正确答案为C。

【文段出处】《大运河文化模式初探》

20、B

文段首先交代由于北方遭受自然灾害，苹果价格上涨，并且分析了其中正常的原因。而后，通过“不正常处更为突出”起强调作用，重点指出，苹果价格上涨是由于资本因素，对应B项，当选。

A项，“天气”为首句内容，非文段重点，排除；

C项“苹果价格受到冲击”表述不明确，文段明确指出价格上涨，且没有提到“资本因素”，排除；

D项，缺少核心话题“苹果价格”，排除。

故正确答案为B。

【文段出处】《总理关注的苹果价格上涨除了天气还有资本在操作》

21、D

文段首先对“Z世代”进行介绍，指出他们的特点为“使用且谨慎的”，而后论述专家对其的观点为“经济实用主义”，且后文进行解释说明。文段后半部分通过一项调查指出“Z世代”的特征是能提供有保障的就业，从而引出作者的观点，强调“Z世代”正在寻找更多的确定性和稳定性。D项“铁饭碗”恰好是对有保障的就业的同义替换，当选。

A项“无冒险精神”过于消极，感情色彩不符，排除；

B项“如何理解”表述不明确，文段明确指出“Z世代”的特点为“使用且谨慎的”，排除；

C项“厌恶金融风险”为文段尾句补充说明的内容，非重点，排除。

故正确答案为D。

22、C

文段通过一系列调查数据反映出香港人的早餐观念。

A项，根据“73%的人以‘方便’为早餐选择主因，多于‘健康好处’（34%）及‘营养价值’（26%）”可知，选项表述与文意相符，排除；

B项，根据“70%的香港人表示最多只愿花20分钟”可知，选项表述与文意相符，排除；

C项，根据“73%的人以‘方便’为早餐选择主因，多于‘健康好处’（34%）及‘营养价值’（26%）”可知，多数人早餐选择以方便为主，选项偷换概念，当选；

D项，根据“多数香港人认为豆浆和杂粮麦片是较健康的饮食”可知，多数人认可豆浆，选项表述正确，排除。

本题为选非题，故正确答案为C。

【文段出处】《调查：4成受访港人因生活繁忙、不方便不吃早餐》

23、B

A项“成本较高”与文段“成本亦低廉”相悖，排除。

B项“结构生色印刷术无需墨水颜色”与文段“无须墨水染色的结构生色印刷技术”意思相符，当选。

C项“无需人为介入”与文段“人为使其结构发生变化”相悖，排除。

D项“持久成像”无中生有，排除。

故正确答案为B。

【文段出处】《日本京都大学团队研究出无墨水显色技术》

24、D

文段首先引出“地名整改”的积极意义，接着通过“但”形成转折引出“地方的地名整改却陷入主观化、扩大化的倾向”的问题，接着通过举例和反面论证分析，地方的地名整改却陷入主观化、扩大化的危害，文段整体为提出问题——分析问题的结构，所以，地方的地名整改不应该主观化、扩大化对应D项。

A项，“为给居民提供便利的”为目标，非重点，排除。

B项，“地名整改已陷入主观化的倾向”问题表述，非重点，排除。

C项，“酒店”例子表述，非重点，排除。

故正确答案为D。

【文段出处】《地名要整改，矫枉过正的老毛病也要改》

25、A

第一空，通过“并不……而是”可知，空处和“有迹可循”构成反义并列，“有迹可循”指的是可以从有些方面看出来，因此第一空应该表达没有任何征兆，即很突然之意，A项“突兀”有突然发生，出乎意料之意，保留。B项“奇特”和C项“奇怪”侧重于强调不寻常，非常罕见，反义词应该是普通，而非“有迹可循”，不符合文意，排除。D项“唐突”指的是冒犯、亵渎，一般搭配人，与“夜间经济”搭配不当，排除。

第二空带入验证，“顺理成章”比喻随着某种情况的发展而自然产生的结果，符合文意。

故正确答案为A。

【文段出处】《夜间经济赋予城市更多精彩》

26、B

根据文意，家长对孩子的成长很重要，因此第一空应体现出孩子的成长过程不能缺少家长陪伴之意，B项“缺少”，C项“缺失”都有缺少失去之意，填入符合文意，保留。A项“缺乏”多搭配抽象事物，比如“缺乏经验”“缺乏信心”，而文段中的“家长陪伴”是具体的行为，故排除。D项“缺席”指的是未出席，一般搭配的主语是人，与“家长陪伴”搭配不当，排除。

第二空，根据文意，“陪伴”和“有效陪伴”是两个不同的概念，要体现概念的不同，B项“截然不同”意思是事物之间界限分明，全然不一样。符合文意。C项“决然”侧重于强调坚决果断，文段并无此意，排除。

故正确答案为B。

【文段出处】《孩子“非认知能力”培养应成为家庭教育重心》

27、A

第一空，横线修饰“资源”的某种状态，根据“呈持续增加态势”、“多余的产能和闲置资源不仅加重了社会负担”可知，资源在某一状态下，再增加就会“剩余”。A项“饱和”指事物达到的最高限度，C项“充足”指饱足、饱满，均符合文意。B项“丰富”含充裕富厚、盛大广博之意，只能体现“多”未必会“剩余”，排除。D项“富余”指足够而有剩余，但多含褒义色彩，与“监管缺失、市场混乱”、“加重了社会负担”感情色彩不符。

第二空，根据“让共享经济市场逐渐‘变味’”、“存在很大的风险隐患”可知，“共享单车的盈利模式”应发生不好的变化，A项“异化”指事物逐渐变得不相似或不相同，可体现共享经济的偏离了初衷，盈利模式逐渐“变味”，符合文意。C项“转化”可指变易，改变，属于中性词，与文段感情色彩不符，排除。

故正确答案为A。

【文段出处】《共享经济亟需破解盈利“痛点”》

28、A

本题可从第二空入手，横线处搭配“认知”，且第二空所在分句与前两个分句是由相同句式构成的三并列，故第二空所填词语应与“制造”、“混淆”构成三个不同角度的并列，且从逻辑先后顺序来看，所填词语应在“制造”、“混淆”之后发生。A项“颠覆”指从根本上倾覆推翻，与“认知”搭配得当，且与“制造”、“混淆”构成三个不同角度的并列，并满足逻辑先后顺序，当选。C项“扰乱”即使混乱，与“混淆”语义重复，排除；B项“破坏”指使事物受到损害，D项“颠倒”是指上下易位，本末倒置，两项均与“认知”搭配不当，排除。

第一空代入验证，横线处搭配“价值底线”，A项“僭越”指超越本分，与“价值底线”搭配得当，当选。

故正确答案为A。

【文段出处】《“哭晕体”“跪求体”蔓延 浮夸文风会误国害民》

29、C

第一空，搭配“民间宗教”，且由“氏族解体”可知，文段意在表明民间宗教走下坡路的状态，C项“式微”、D项“衰微”均可搭配“民间宗教”，且能体现事物衰落之意，均可保留。A项“卑微”是指地位低下而渺小，文段与地位无关，排除；B项“些微”是指极少量，多形容数量，与“民间宗教”搭配不当，排除。

第二空，由“因集权国家组织秩序的打压”可知，横线处依然需体现民间宗教走下坡路之意，C项“沉沦”即指陷入不良的境地，符合文意，当选。D项“沉滞”指凝滞、不够流畅，仅能指出民间宗教停止发展，而无法体现民间宗教衰落之意，排除。

故正确答案为C。

【文段出处】《〈国风〉与春秋时期的北方地域文化》

30、A

第一空，所填词语搭配“分析”，结合后文“提供量身定制的新闻产品”可知，分析的“正确、准确”，A项“精准”D项“精确”均符合文意，保留。B项“精辟”指精深透彻，主语是人，与“算法”搭配不当，排除；C项“精密”指精确周密，侧重“细密、严密”，文段仅体现该算法算的对，并无“细致”之意，排除。

第二空，依据文段“真假难辨”可知，信息好坏不一，好坏掺杂。对应A项“泥沙俱下”比喻好的和坏的混杂在一起，符合文意，当选。D项“黑白颠倒”指故意违背事实，颠倒是非，文段并无“故意”之意，排除。

故正确答案为A。

【文段出处】《人民网一评算法推荐：不能让算法决定内容》

31、B

从第二空切入，依据前文“我们有什么理由言渺小”，所填词语应体现“渺小”之意，B、C两项“卑微”指地位低下而渺小，符合文意。A项“卑俗”低劣庸俗；D项“卑怯”卑下怯懦均与文意无关，排除。

第一空，所填词语修饰“我的外表”，结合后文“我们有什么理由言渺小”可知，作者认为自己很渺小，B项“孱弱”指瘦小、虚弱，符合文意，C项“虚弱”并无“渺小”之意，排除。

故正确答案为B。

【文段出处】《敬重卑微》

32、A

第一空，横线上所填内容和“竟自遁世”构成同义并列。“竟自遁世”含义为“独自隐居，避开俗世”，B项“独辟蹊径”强调比喻独创出新风格或新方法；C项明哲保身含义为“做不上官，就搞好自身的修养”；D项独善其身强调“怕有损自己，回避斗争的处世态度”，与“竟自遁世”构不成同义并列，排除这三项。

第二空带入验证，“大智若愚”含义为“某些才智出众的人不露锋芒，看来好像愚笨”与“知难而进”、“独步江湖”构成三方面并列。

故正确答案为A。

33、C

第一空，搭配“生活”，A项“磨耗”、D项“磨损”强调“因摩擦而受损”，与生活搭配不当，排除。

第二空，文段中含义为这些作品并非出自心灵就没有长久的价值了，故对应C项。B项“消失殆尽”含义为“逐渐消失至没有”，与文意不符，作品不会因为不出自心灵就消失了，故排除。

故正确答案为C。

【文段出处】《圆者自转》

34、B

本题从第二空入手。根据前文“这座城上演过数不清的……，迎接过数不清的……”可知，所填词语应与“悲欢离合”并列，“悲欢离合”泛指人生所经历的一切遭遇，故所填词语亦应体现出城市中人们的生活状态。B项，“意气风发”形容人精神振奋、气概豪迈的样子，可以体现出“这座城市”中部分人们的生活状态，符合文意。

A项，“风雨如晦”比喻局势动荡，社会黑暗，与文意无关，排除；

C项，“意犹未尽”通常指旅行、读书、吃饭等结束之后还没有尽兴，与文意无关，排除；

D项，“风起云涌”比喻事物迅速发展，声势浩大，无法与“悲欢离合”形成并列，体现不出城市中人们的生活状态，故排除。

第一空，验证B项，“包蕴”指包含，与“城市的繁华和衰落”搭配恰当，当选。

故正确答案为B。

【文段出处】《一座城的期待》

35、C

第一空，根据后文“人类学家却要苦苦追寻其背后的意义和文化”可知，“人类学者”需要探索搜寻“斗牛”背后的内容。A项，“寻索”指寻找搜索；B项“搜奇”指寻求奇特语句或杰出人才、奇异事物；C项“猎奇”指刻意搜寻奇异特殊的事物，三项均符合文意，保留。D项“探悉”意为由探索得悉，后常接宾语，不单独作为定语使用，用法错误，故排除。

第二空，“击打”意为用某物重重敲打，与“现代文化”搭配使用属于形象化表达，故所填词语应与之对应。C项，“刻骨铭心”指镂刻在骨头上或心里，形容记忆深刻、难以忘却，可以“击打”相对应，符合文意，当选。A项，“痛彻心扉”与“痛”语义重复，故排除A项；B项，“深入骨髓”形容达到极深极重的程度，虽与“痛”搭配恰当，但与C项对比可知，C项中的“刻”“铭”更能与文段“击打”相对应，故择优选择C项。

故正确答案为C。

【文段出处】《在想象的异乡》

36、B

本题从第二空入手，根据文意可知，所填词语应体现出“桃花源”模式可以体现出“老庄哲学思想”。B项，“浸透”比喻包含，置于文段可以体现出“桃花源”模式中蕴含着“老庄哲学思想”，符合文意。A项，“浸润”指沾濡滋润，而“桃花源”模式对“老庄哲学”并非滋润的作用，故排除；C项，“浸染”指逐渐沾染，往往搭配表意消极的词语，与“老庄哲学”搭配不当，排除；D项，“浸透”比喻某种事物或势力逐渐进入其他方面，而“桃花源”模式并非进入“老庄哲学”，成为其中的一部分，不符合文意，排除。

第一空，验证B项，“引领”可以体现出“统帅”的作用，符合文意，当选。

故正确答案为B。

【文段出处】《诗意栖居中国传统人居思想及其现代启示》

37、D

数列无明显特征，优先考虑做差。做差得到新数列：3，4，8，17，（ ），依然没有明显特征，考虑二次做差。再次做差得到新数列：1，4，9，（ ），即 1^2 ， 2^2 ， 3^2 ，故二次差的下一项为 $4^2 = 16$ ，则一次差的下一项为 $17 + 16 = 33$ ，所以原数列的下一项是 $29 + 33 = 62$ 。

故正确答案为D。

38、D

数列倍数关系明显，考虑作商。后一项除以前一项后得到数列为 -2 ， -2 ， -1 ， 1 ，（ ）；新数列没有明显特征，考虑作差得0，1，2，（ ），则下一项为3；则作商后的数列中（ ）为 $3 + 1 = 4$ ，故原数列所求为 $4 \times 4 = 16$ 。

故正确答案为D。

39、A

根据两集合容斥原理公式“ $A + B - A \cap B = \text{总数} - \text{都不}$ ”，可得： $22 + 20 - 12 = 45 - \text{都不}$ ，解得“都不”的人数为 15 人。

故正确答案为 A。

40、B

1 元 3 角 9 分总计为 139 分。设 2 分、5 分的硬币各有 x 、 y 枚，则可得：

$$x + y = 50 \dots\dots ①, \quad 2x + 5y = 139 \dots\dots ②$$

由 $① \times 5 - ②$ 得： $3x = 111$ ，解得 $x = 37$ ，即 2 分硬币有 37 枚。

故正确答案为 B。

41、A

根据题意，本题考查行程问题中的追及问题。由题干“甲车比乙车早出发 2 小时”，可知甲车出发两小时后乙车开始追，则两车的路程差为 $2 \times 45 = 90$ 千米。由追及公式“ $\text{路程差} = \text{速度差} \times \text{追及时间}$ ”，可得追及时间 $= 90 \div (60 - 45) = 6$ 小时。

故正确答案为 A。

42、C

根据题意，每分钟来的游客是生长，游客检票进场是消耗，并且有明显的排比句式，本题属于牛吃草问题。设检票前游客量为 y ，每分钟检票进场游客为 x ，则有 $y = (5 - x) \times 30 = (6 - x) \times 20$ ，解得 $x = 3$ ， $y = 60$ 。现要 10 分钟队伍消失，设需要开的窗口数为 n ，则 $60 = (n - 3) \times 10$ ，解得需要开的窗口数为 $60 \div 10 + 3 = 9$ 个。

故正确答案为 C。

43、C

根据题意，第一天卖出 $\frac{1}{3}$ ，第二天卖出余下的 $\frac{4}{5}$ 可知水蜜桃的总箱数是 3 和 5 的公倍数。设总箱数为 $15x$ ，则第一天卖出 $5x$ 箱，第二天卖出 $(15x - 5x) \times \frac{4}{5} = 8x$ 箱，则第三天卖出 $15x - 5x - 8x = 2x$ 箱。 $2x$ 为 24 箱，故 $x = 12$ 箱，共有 $15 \times 12 = 180$ 箱。总收入为： $7200 + 9600 + 1920 = 18720$ 元，则平均每箱卖得 $18720 \div 180 = 104$ 元。

故正确答案为 C。

【备注】本题解出总箱数即能结合选项确定答案。

44、B

根据题意可知页码为连续自然数，故本题考查等差数列问题。根据“采用双面打印，装订时发现中间丢掉了一张”可知丢掉的这两页的号码必须相连，且是奇数页在前，偶数页在后的组合，因此排除A、C选项。在剩下的B、D选项中，代入B，若总页数是45，利用等差数列求和公式 $S_n = \text{中间项} \times \text{项数} n = 23 \times 45 = 1035$ 。装订时发现中间丢掉了一张，其剩余页码数之和恰好等于1000，则丢掉的一张两个页码加和 $= 1035 - 1000 = 35$ ，刚好为第17页和第18页加和，满足题意。

故正确答案为B。

45、C

方法一：根据题意，本题考查工程问题。设原计划每天加工100个零件需要 x 天，可建立方程为： $100 \times x = 120 \times (x - 3) - 40$ ，解得 $x = 20$ ，则原计划加工零件 $100 \times 20 = 2000$ 个。

方法二：根据题意，本题考查工程问题。原计划每天加工100个，正好按期完成任务，说明零件总数是100的倍数，ABCD均满足条件。又由于改进了生产技术和工艺，实际每天加工了120个，提前3天完成加工任务，而且还多加工了40个。说明零件总数加40能被120整除，结合倍数特性进行代入排除。A项： $1600 + 40 = 1640$ 不是120的倍数，排除；B项： $1800 + 40 = 1840$ 不是120的倍数，排除；C项： $2000 + 40 = 2040$ $2040 \div 120 = 17$ ，是120的倍数；D项： $2200 + 40 = 2240$ 不能被120整除，排除。因此只有C项2000满足条件。

故正确答案为C。

46、A

方法一：根据题意，本题考查浓度问题。

设浓度为50%的盐水 x 千克，根据 $\text{浓度} = \frac{\text{溶质}}{\text{溶液}}$ ，可列出方程： $\frac{x \times 50\% + 2 \times 0\%}{x + 2} = 30\%$ ，解得 $x = 3$ ，可知浓度为30%的盐水有 $3 + 2 = 5$ 千克。设在此基础上若将浓度变为60%，需再加入 y 千克盐，可列出方程： $\frac{5 \times 30\% + y \times 100\%}{5 + y} = 60\%$ ，解得 $y = 3.75$ 千克。

方法二：根据题意，本题考查浓度问题。涉及到浓度混合，可使用线段法。

设浓度为50%的盐水 x 千克，根据线段法的口诀画线段：

50%	30%	0%			
距离:	20%	:	30%	=	2:3
量:	X	:	2	=	3:2

解得 $x = 3$ 千克，则浓度为 30% 的盐水有 $3 + 2 = 5$ 千克。设在此基础上若将浓度变为 60%，需再加入 y 千克盐，根据线段法的口诀画线段：

30%	60%	100%			
距离:	30%	:	40%	=	3:4
量:	5	:	Y	=	4:3

解得 $y = 3.75$ 千克。

故正确答案为 A。

47、A

第一步：判断题干词语间逻辑关系。

笔和墨均为文书工具，二者为并列关系，笔墨一般比喻文字、文章等。且三者均为名词。

第二步：判断选项词语间逻辑关系。

A 项：江和山为并列关系，江山一般比喻国家或国家的政权，且三者均为名词，与题干逻辑关系一致，当选；

B 项：裁和缝为并列关系，裁缝是指代以制作或拆改衣服为职业的人。裁和缝为动词，裁缝为名词，与题干逻辑关系不完全一致，排除；

C项：云是在空中悬浮的由水滴、冰晶聚集形成的物体。海，又称为“大海”，是指与“大洋”相连接的大面积咸水区域，即大洋的边缘部分。云和海并非同一层级的概念，因此二者并列关系。云海，是指在一定的天气条件下形成的云层，并且云顶高度低于山顶高度。与题干逻辑关系不一致，排除；

D项：睡、觉、睡觉三者为近义关系，都是指睡眠（从睡着到睡醒）。与题干逻辑关系不一致，排除。

故正确答案为A。

48、D

第一步：判断题干词语间逻辑关系。

瑞士是一个国家，二者为种属关系。

第二步：判断选项词语间逻辑关系。

A项：无锡和宜兴都是一个城市，但无锡是地级市，宜兴是县级市，无锡包括了宜兴，宜兴是无锡的一部分，二者为组成关系，与题干逻辑关系不一致，排除；

B项：键盘是电脑的一部分，二者为组成关系，与题干逻辑关系不一致，排除；

C项：话剧是一种戏剧，二者为种属关系，与题干逻辑关系一致，保留；

D项：长江是一条河流，二者为种属关系，与题干逻辑关系一致，保留。

比较C、D项，题干瑞士是一个特指的国家，D项长江也是一个特指的河流，而C项话剧是一类戏剧，因此D项更优。

故正确答案为D。

49、C

第一步：判断题干词语间逻辑关系。

有的植物是食材，有的植物不是食材，有的食材是植物，有的食材不是植物，植物和食材是交叉关系；同理食材和野草也是交叉关系；植物和野草是种属关系，野草是植物。

第二步：判断选项词语间逻辑关系。

A项：江苏人和男人为交叉关系；男人和青年是交叉关系；江苏人和青年也是交叉关系。与题干逻辑关系不一致，排除；

B项：矿泉水一般是冷水，和热水之间无明显关系。矿泉水和饮料、热水和饮料之间均为种属关系。与题干逻辑关系不一致，排除；

C项：教师和作家为交叉关系；同理作家和女教师也是交叉关系。女教师是教师，二者为种属关系。与题干逻辑关系一致，当选；

D项：物质和意识为并列关系，物质和暗物质是种属关系。与题干逻辑关系不一致，排除。

故正确答案为C。

50、D

第一步：判断题干词语间逻辑关系。

水是至善至柔（源于道家学说，上善若水）。故善是水的属性。

第二步：判断选项词语间逻辑关系。

A项：甜是糖的属性，与题干逻辑关系一致，保留；

B项：壮一般形容人或动物，不是山的属性，与题干逻辑关系不一致，排除；

C项：笨不是牛的属性，与题干逻辑关系不一致，排除；

D项：硬是石的属性，与题干逻辑关系一致，保留。

比较A、D选项，由于均是必然属性，考虑同一范畴二级辨析。水和石均为天然物，而糖是人工物，故D项更优。

故正确答案为D。

51、B

逐一代入选项。

A项：旋律是音乐的一部分，二者为组成关系；形象和思想无明显逻辑关系。前后逻辑关系不一致，排除；

B项：音乐可以表达情感，言语可以表达思想，前后逻辑关系一致，当选；

C项：音乐中可以包含符号（如五线谱等），二者为组成关系；思想和意识是近义词。前后逻辑关系不一致，排除；

D项：演奏音乐是动宾结构，而行为和思想是并列关系。前后逻辑关系不一致，排除。

故正确答案为B。

52、C

逐一代入选项。

A项：毛笔可以用来写文字，二者为功能的对应关系；判断和心境没有必然联系，前后逻辑关系不一致，排除；

B项：毛笔和墨汁是配套使用的对应关系，利用大脑进行判断，前后逻辑关系不一致，排除；

C项：竹管可以用来制作毛笔，判断可以用来推理，前后逻辑关系一致，当选；

D项：毛笔是文具，二者为种属关系，感情和判断没有必然联系，前后逻辑关系不一致，排除。

故正确答案为C。

53、D

逐一代入选项。

A项：眼睛可能用到眼镜，镜架是眼镜的组成部分；睡眠会用到枕头，枕芯是枕头的组成部分，但顺序相反，前后逻辑关系不一致，排除；

B项：镜架是眼镜的组成部分，二者为组成关系；枕木是用于铁路等设备材料，与枕芯没有必然联系，前后逻辑关系不一致，排除；

C项：塔架属于高耸钢结构，可以用于大型建筑物支撑、监控工程和通讯工程等，与镜架没有必然联系；绣花和枕芯没有必然联系，前后逻辑关系不一致，排除；

D项：镜架和镜片是配套使用的对应关系，枕套和枕芯是配套使用的对应关系，前后逻辑关系一致，当选。

故正确答案为D。

54、A

逐一代入选项。

A项：泥土是砖头的原材料，皮革是皮鞋的原材料，二者均为材料的对应关系，前后逻辑关系一致，当选；

B项：泥土中可能有蚯蚓，皮匠的作用对象是皮革，前后逻辑关系不一致，排除；

C项：泥沙指泥土和砂石的混合物，皮革和皮筋没有必然联系，前后逻辑关系不一致，排除；

D项：泥土中生长着小草，皮革是经物理和化学加工所得到的已经变性不易腐烂的动物皮，前后逻辑关系不一致，排除。

故正确答案为 A。

55、B

逐一代入选项。

A 项：观众在影院观看电影，学生和网课没有必然联系，前后逻辑关系不一致，排除；

B 项：观众观看影片，学生学习课本，都是人物和主要作用对象的对应关系，前后逻辑关系一致，当选；

C 项：观众欣赏，二者为主谓结构；如果考试作为名词，学生参加考试，则二者为主宾关系，考试作为动宾结构，学生考试则二者为主谓宾完整的结构，前后逻辑关系不一致，排除；

D 项：观众吃零食，学生做作业，但作业是学生必须做的事情之一，但零食并不是观众必须要做的事情，前后逻辑关系不一致，排除。

故正确答案为 B。

56、D

第一步：分析题干。

题干结构可以拆为：“这个问题”、“张同学的回答”、“我”、“十分满意”。

第二步：逐一分析选项。

A 项：选项结构可以拆为：“这个姑娘眼睛”、“大的”、“让人羡慕”，与题干结构不一致，排除；

B 项：选项结构可以拆为：“这个花瓶”、“小赵”、“送给”、“他姐姐了”，与题干结构不一致，排除；

C 项：选项结构可以拆为：“这个角色”、“小李扮演”、“没有问题”，与题干结构不一致，排除；

D 项：选项结构可以拆为：“这个影片”、“他的评论”、“同行”、“有异议”，与题干结构一致，当选。

故正确答案为 D。

57、B

观察题干，五个事件主要围绕“快递送挂架”的过程。事件①明显是整个事件的开始，作为首句，剩下逻辑关系的先后顺序比较明显的是事件②、事件③和事件④，先“老陈前妻让快递改送老陈家”，再“快递按老陈新家地址再次投送”，然后“老陈在新家门口收到了网购挂架”，即应该是③-④-②，排除 A、C、D 项。

故正确答案为 B。

58、D

观察题干，五个事件主要围绕“老王坐动车”的过程。事件⑤明显是整个事件的开始，作为首句，结合③、④可知，老王是去奶奶家和离开奶奶家，一北上、一南下。结合①老王奶奶说“不，我们北京有暖气”，可知奶奶家在北京，应先北上后南下，故③在④前，排除B项。剩下逻辑关系的先后顺序比较明显的是事件①和事件②，先“老王请奶奶到自己家过冬”，再“老王奶奶说‘不，我们北京有暖气’”，同时事件①和事件②应捆绑，故应该是②-①，排除C项。

A项和D项都符合逻辑顺序，但④是坐车，和③的联系更密切，而①是奶奶的一个最终结论，更像整个事件的结尾，因此排除A。

故正确答案为D。

59、D

观察题干，五个事件主要围绕“李主任座谈发言”的过程。事件⑤明显是整个事件的开始，作为首句。事件①中，网页上出现视频是整个事件的结尾，作为尾句，排除A、B项。剩下逻辑关系的先后顺序比较明显的是事件②和事件③，先“张副院长等6人按计划听取南山大学陈校长的经验介绍”，再“李主任等5人根据陈校长所介绍的经验细化了具体考察内容”，即应该是③-②，排除C项。

故正确答案为D。

60、C

观察题干，五个事件主要围绕“小雯路上遇险”的过程。事件③明显是整个事件的开始，作为首句，排除A、B项。事件②中明显是整个事件的结尾，作为尾句，排除D项。

故正确答案为C。

61、A

观察题干，五个事件主要围绕“交警开罚单”的过程。事件③明显是整个事件的开始，作为首句，排除B、D项。事件④，交警被带走明显是整个事件的结尾，作为尾句，排除C项。

故正确答案为A。

62、C

图形元素组成不同，属性明显无规律，考虑数量规律。观察发现题干线条交叉明显，考虑数交点。题干图形交点数依次为1、2、3、4、5，故？处选择一个交点数为6的选项，只有C项符合。

故正确答案为C。

63、B

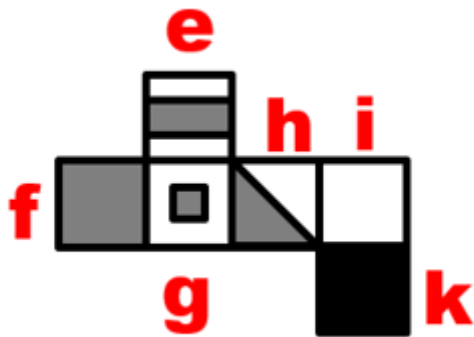
图形元素组成不同，属性明显无规律，考虑数量规律。观察发现题干出现了日字以及田字变形图，考虑数笔画。第一组图每幅图笔画数依次为 1、2、3，第二组图每幅图笔画数依次为 1、2，故？处选择一个笔画数为 3 的选项，只有 B 项符合。

注：本题第一组图 3 上下两个直角梯形大小并不相同，并不是一个中心对称图形，所以本题看对称性是没有规律的。

故正确答案为 B。

64、B

本题为空间重构，将题干展开图标记序号如下，逐一分析选项。



A 项：该项由面 e、g、f 组成，题干展开图中，面 e 和面 g 的公共边没有挨着面 e 内部的灰色区域，选项中面 e 和面 g 的公共边挨着面 e 内部的灰色区域，选项与展开图不一致，排除；

B 项：该项由面 f、i、k 组成，选项与展开图一致，保留；

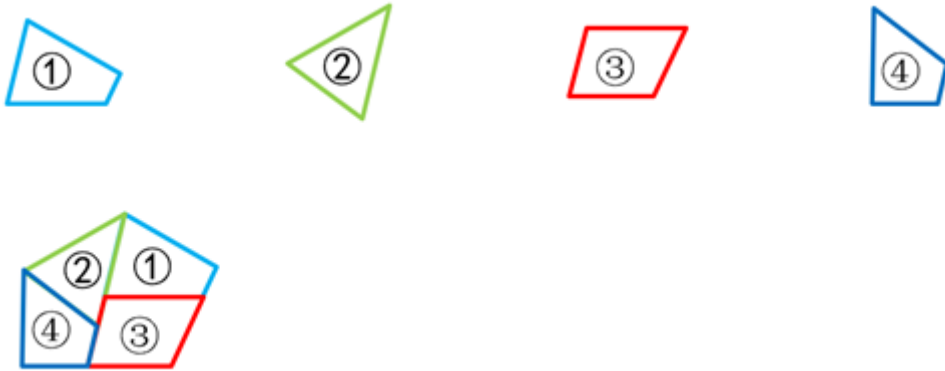
C 项：该项由面 e、g、i 组成，面 g 和面 i 是相对面，不能同时出现，排除；

D 项：该项由面 e、h、i 组成，题干展开图中，面 e 和面 h 的公共边挨着面 e 内部的灰色区域，选项中面 e 和面 h 的公共边没有挨着面 e 内部的灰色区域，选项与展开图不一致，排除。

故正确答案为 B。

65、B

本题考查平面拼合，可采用平行等长相消的方式解题。消去平行且等长的线段后进行组合可得到轮廓图，即为 B 项。平行等长相消的方式如下图所示：



故正确答案为 B。

66、C

第一步：找出论点和论据。

论点：要杜绝此类事件再次发生，就得关掉手机的语音购物功能，或者不养非洲鹦鹉。

论据：一位英国女士养的一只非洲鹦鹉学着她的话，帮助她在网上买了一大堆物品，使她蒙受很大的经济损失。

论点中出现逻辑关联词“就”，可以翻译为： \neg 此类事件发生 \rightarrow 关掉手机的语音购物功能或不养非洲鹦鹉。当论点可以被翻译时，削弱题可以优先考虑论点的矛盾命题， $A\rightarrow B$ 的矛盾命题为 A 且 $\neg B$ ，即 \neg 此类事件发生且 \neg （关掉手机的语音购物功能或不养非洲鹦鹉）= \neg 此类事件发生且 \neg 关掉手机的语音购物功能且养非洲鹦鹉。

第二步：逐一分析选项。

A 项：小龙养了许多八哥，但论点讨论的是养非洲鹦鹉，主体不一致，无法削弱，排除；

B 项：小丽养了中国鹦鹉，但论点讨论的是养非洲鹦鹉，主体不一致，无法削弱，排除；

C 项：小红养了非洲鹦鹉，也没关手机的语音购物功能，但没出现此类事件，是论点的矛盾命题，直接否定论点，可以削弱，当选；

D 项：小明没养非洲鹦鹉，也没关手机的语音购物功能，却出现了此类事件，论点讨论的是要杜绝此类事件需怎么做，话题不一致，无法削弱，排除。

故正确答案为 C。

67、D

第一步：分析题干的推理形式。

题干的推理形式为：不起雾 \rightarrow 按时起飞，飞机没有按时起飞，所以一定是起雾了，即否后推出否前的推理形式。

第二步：逐一分析选项。

A项：不用功 \rightarrow 学不好逻辑，没有学好逻辑，所以一定是没用功，即肯后推出肯前的推理形式，与题干推理形式不同，排除；

B项：物体摩擦 \rightarrow 生热，物体不摩擦，所以一定不会生热，即否前推出否后的推理形式，与题干推理形式不同，排除；

C项：不讲诚信 \rightarrow 无法立足社会，奸商不讲诚信，所以不能立足社会，即肯前推出肯后的推理形式，与题干推理形式不同，排除；

D项：两个角是对顶角 \rightarrow 相等，两个角不相等，所以不是对顶角，即否后推出否前的推理形式，与题干推理形式相同，当选。

故正确答案为D。

68、D

第一步：翻译题干。

① \neg 钱飞考上 \rightarrow \neg 程伟考上

② \neg 钱飞考上 或 程伟考上

③ 钱飞考上 \rightarrow \neg 程伟考上

第二步：结合题干条件进行推理。

根据①和③可知，无论钱飞是否考上，程伟都考不上，再根据②“或关系否一推一”可知，程伟考不上，那么钱飞也考不上，D项可以推出。

故正确答案为D。

69、C

第一步：翻译题干。

① 有些桥牌爱好者 \rightarrow 加入桥牌协会

② 诗词爱好者 \rightarrow 加入诗词协会

③ 加入桥牌协会 \rightarrow \neg 爱好诗词

④ 加入诗词协会 \rightarrow 参加了诗词创作大赛

①③可以递推得到：⑤有些桥牌爱好者 \rightarrow 加入桥牌协会 \rightarrow \neg 爱好诗词

②④可以递推得到：⑥诗词爱好者 \rightarrow 加入诗词协会 \rightarrow 参加了诗词创作大赛

第二步：逐一分析选项。

A项：翻译为：诗词爱好者 \rightarrow 参加了诗词创作大赛，是对条件⑥的肯前，肯前必肯后，可以得出参加了诗词创作大赛，可以推出，排除；

B项：翻译为：有些桥牌爱好者 \rightarrow \neg 爱好诗词，是对条件⑤的肯前，肯前必肯后，可以得出 \neg 爱好诗词，可以推出，排除；

C项：翻译为：有些加入桥牌协会 \rightarrow \neg 加入诗词协会，是对条件⑤的肯前，肯前必肯后，可以得出 \neg 爱好诗词， \neg 爱好诗词是对条件②的否前，否前得不出必然结论，无法推出，当选；

D项：翻译为：加入桥牌协会 \rightarrow 可能参加了诗词创作大赛，是对条件③的肯前，肯前必肯后，可以得出 \neg 爱好诗词， \neg 爱好诗词是对条件②的否前，否前只能推出可能性结论，故可以推出可能参加了诗词创作大赛，排除。

本题为选非题，故正确答案为C。

70、A

本题属于真假推理题。

第一步：找出题干矛盾命题。

条件（2）“该县所有的乡都脱贫了”和条件（4）“该县有的乡没有脱贫”，是矛盾关系，必有一真必有一假。已知只有两个是正确的，说明条件（1）和条件（3）一定也是一真一假。

第二步：看其余。

若条件（1）为真，可知该县金沙乡脱贫了，故该县有的乡脱贫了也为真，此时条件（1）和条件（3）都为真，与上述结论矛盾，故只能条件（1）为假，条件（3）为真，即该县金沙乡没有脱贫了，该县有的乡脱贫了；由此可知条件（2）“该县所有的乡都脱贫了”为假，因为条件（2）和条件（4）是矛盾关系，必有一真必有一假，故条件（4）为真，即该县有的乡没有脱贫，对应A项。

故正确答案为A。

71、D

根据题干“2017年，…比…之和多/少多少万亩”，结合材料时间为2018年，可判定本题为基期和差问题。定位文字材料第一段，2018年G省，粮食作物播种面积3226.56万亩，比上年下降0.9%；糖蔗种植面积223.79万亩，增长2.0%；油料种植面积509.90万亩，增长2.4%；蔬菜种植面积1906.32万亩，增长3.6%；中

草药种植面积61.75万亩，增长18.0%。根据“ $\text{基期} = \frac{\text{现期}}{1+r}$ ”可得：

$$\frac{3226.56}{1-0.9\%} - \left(\frac{223.79}{1+2\%} + \frac{509.9}{1+2.4\%} + \frac{1906.32}{1+3.6\%} + \frac{61.75}{1+18\%} \right) \approx 3200 \times (1+1\%) - 220 \times (1-2\%)$$

$$-510 \times (1-2.5\%) - 1900 \times (1-3.6\%) - \frac{60}{1.2} \approx 3232 - 216 - 497 - 1830 - 50 = 630^+$$

，即前者比后者总和多了600万亩以上，D项满足。

故正确答案为D。

72、A

根据题干“2018年…每亩产量同比…”，结合选项下降/上升+%，可判定本题为平均数的增长率问题。定位文字材料第一段与第二段，2018年G省，粮食作物播种面积3226.56万亩，比上年下降0.9%；粮食产量

1193.49万吨，比上年下降1.3%。每亩产量 = $\frac{\text{产量}}{\text{面积}}$ ，代入平均数的增长率计算公式“ $\frac{a-b}{1+b}$ ”可得：

$$\frac{-1.3\% - (-0.9\%)}{1-0.9\%} = \frac{-0.4\%}{1-0.9\%} \approx -0.4\%$$

，即下降不到5%，A项满足。

故正确答案为A。

73、C

根据题干“2017年…是…的多少倍”，结合材料时间为2018年，可判定本题为基期倍数问题。定位文字材料第3段，2018年G省，海水产品产量447.40万吨，下降1.0%；淡水产品产量400.85万吨，增长5.0%。

代入基期倍数公式“ $\frac{A}{B} \times \frac{1+b}{1+a}$ ”可得： $\frac{447.4}{400.85} \times \frac{1+5\%}{1-1\%} \approx 1.1 \times 1^+$ ，所得值略大于1.1，C项满足。

故正确答案为C。

74、B

①：定位材料第一段，2018年G省，中草药种植面积61.75万亩，增长18%，则同比增量

$$= \frac{\text{现期}}{1+r} \times r = \frac{61.75}{1+18\%} \times 18\% \approx \frac{61.75}{1+\frac{1}{5}} \times \frac{1}{5} = \frac{61.75}{7} \approx 9 \text{ 万亩}$$

；蔬菜种植面积1906.32万亩，增长3.6%，则同比增量 = $\frac{1906.32}{1+3.6\%} \times 3.6\% \approx \frac{1906.32}{1+\frac{1}{30}} \times \frac{1}{30} = \frac{1906.32}{31} \approx 60 \text{ 万亩}$ 。蔬菜增量高于中草药，中草药并非最大，排除；

②：定位材料第一段与第二段，糖蔗、蔬菜、粮食、油料平均每亩的产量分别为： $\frac{1197.24}{223.79} = 5^+$ ，

$$\frac{3330}{1906.32} = 1^+ , \frac{1193.49}{3226.56} = 0.3^+ , \frac{105.5}{509.9} = 0.2^+ , \text{ 满足糖蔗} > \text{蔬菜} > \text{粮食} > \text{油料} , \text{ 正确；}$$

③：定位材料第二段，2018年G省茶叶产量9.87万吨，若增长1%，则增长 $\frac{9.87}{1+1\%} \times 1\% = \frac{9.87}{1+\frac{1}{100}} \times \frac{1}{100} = \frac{9.87}{101} \approx 0.098$ 万吨，与0.09吨不符，排除；

④：定位材料第三段，2018年G省水产品产量增长率 $b = 1.5\%$ 。其中，淡水产品增长率 $a = 5.0\%$ 。
 $5.0\% > 1.5\%$ ，满足 $a > b$ ，比重同比上升，正确；

可以从资料中推出的有两项。

故正确答案为B。

75、C

根据题干及选项“2018年6月……几倍”，结合材料所给时间为2018年6月，判定题型为现期倍数。

“最多相差几倍”即最大值与最小值相差的倍数。定位表格，美团外卖店铺数最多的为79469家，最少的为17807家，因此相差倍数 $= \frac{79469}{17807} - 1 \approx \frac{79469}{17800} - 1 \approx 3.5$ 。

故正确答案为C。

76、C

根据题干“2018年6月……平均”，结合材料所给时间，可判定本题为现期平均数问题。

点餐人次 $= \frac{\text{饿了么总单量} + \text{美团总单量}}{2} > 1000$ 万，即两者总单量相加大于2000万即可。定位表格，饿了么与美团总单量相加大于2000万的城市有上海、深圳、广州、北京、杭州、成都、南京7个。

故正确答案为C。

77、A

根据题干“2018年6月……店均单量”，结合材料所给时间可判定本题为现期平均数问题。“店均单量”即为 $\frac{\text{总单量}}{\text{店铺数}}$ 。结合选项，北京、上海、广州、深圳、南京五个城市的饿了么外卖店均单量分别为：

$$\frac{1763}{42514} = 0.04^+, \quad \frac{3475}{93301} = 0.03^+, \quad \frac{969}{47393} \approx 0.02, \quad \frac{1146}{63962} = 0.01^+, \quad \frac{963}{34717} = 0.02^+,$$

由此可知北京 > 上海 > 南京 > 广州 > 深圳，符合此顺序的只有A选项。

故正确答案为A。

78、C

根据题干“2018年6月……占……比重”，结合材料时间可判定本题为现期比重问题。美团外卖总单量前三的三个城市总单量占所列城市总单量合计的比重

$$= \frac{3399 + 2916 + 1764}{2916 + 1764 + 1547 + 1178 + 1104 + 3399 + 1166 + 1581 + 466 + 1367}$$

$$\approx \frac{3400 + 2900 + 1800}{2900 + 1800 + 1600 + 1200 + 1100 + 3400 + 1200 + 1600 + 500 + 1400} = \frac{8100}{16700} \approx 48.5\%$$

故正确答案为 C。

79、A

根据题干“2013~2018年...比重最高”，可判定本题为现期比重问题。定位图形材料可知，2015-2018年在线度假旅游预订市场交易规模分别为549.97、757.4、947.47、1051.81亿元，在线旅游交易规模分别为4737.69、7394.24、8923.31、9754.25亿元。根据“ $\text{比重} = \frac{\text{部分}}{\text{整体}}$ ”，2015-2018所求比重分别为：

$$2015\text{年: } \frac{549.97}{4737.69} \approx \frac{549.97}{4740} = 11\%^+$$

$$2016\text{年: } \frac{757.4}{7394.24} \approx \frac{757.4}{7390} = 10\%^+$$

$$2017\text{年: } \frac{947.47}{8923.31} \approx \frac{947.47}{8920} = 10\%^+$$

$$2018\text{年: } \frac{1051.81}{9754.25} \approx \frac{1051.81}{9750} = 10\%^+$$

，故比重最高的为2015年。

故正确答案为 A。

80、B

根据题干“2016~2018年...同比增速变化趋势”，可判定本题为一般增长率问题。定位图形材料可得：2015~2018年在线交通预订市场交易规模分别为3325.15、5385.42、6389.65、6820.95亿元。根据

$$\text{增长率} = \frac{\text{现期} - \text{基期}}{\text{基期}}$$

，可得2016、2017、2018年的同比增速分别为 $\frac{5385.42 - 3325.15}{3325.15} \approx \frac{2060}{3330} \approx 60\%^+$ 、 $\frac{6389.65 - 5385.42}{5385.42} \approx \frac{1004}{5390} \approx 10\%^+$ 、 $\frac{6820.95 - 6389.65}{6389.65} \approx \frac{430}{6390} \approx 10\%^-$ 。故同比增长率

2016年 > 2017年 > 2018年，体现在折线图上为逐渐下降。

故正确答案为 B。

81、C

根据题干“...增速超过30%...”，可判定本题为一般增长率问题。定位图形材料可知2013-2018年在线住宿预订市场交易规模具体数值，根据“ $\text{增长率} = \frac{\text{现期} - \text{基期}}{\text{基期}}$ ”可得，2014-2018年增长率分别为：

$$2014\text{年, } \frac{547.45 - 412.1}{412.1} \approx \frac{135}{412} > 30\%$$

$$2015 \text{ 年, } \frac{862.57 - 547.45}{547.45} \approx \frac{315}{547} > 30\%;$$

$$2016 \text{ 年, } \frac{1251.42 - 862.57}{862.57} \approx \frac{389}{863} > 30\%;$$

$$2017 \text{ 年, } \frac{1586.19 - 1251.42}{1251.42} \approx \frac{335}{1250} < 30\%;$$

$$2018 \text{ 年, } \frac{1881.49 - 1586.19}{1586.19} \approx \frac{295}{1590} < 30\%; \text{ 故增长率超过 } 30\% \text{ 的年份有 } 2014、2015、2016 \text{ 年共 } 3 \text{ 年。}$$

故正确答案为 C。

82、D

根据题干“2014~2018 年...年平均增速...”，结合选项排序，可判定本题为年均增长率比较问题。根据

公式 $(1 + \text{年均增长率})^n = \frac{\text{现期}}{\text{基期}}$ ，因为本题年份差 n 相同，故比较年均增长率大小直接比较 $\frac{\text{现期}}{\text{基期}}$ 即可。定位

图形材料，基期分别为：在线交通预订市场交易规模 (I_1) $\frac{6820.95}{2271.57} \approx \frac{6820.95}{2270} \approx 3.00$ 、在线住宿预订交易规模 (I_2) $\frac{1881.49}{547.45} \approx \frac{1881.49}{547} \approx 3.4$ 、在线度假旅游预订市场交易规模 (I_3) $\frac{1051.81}{347.58} \approx \frac{1051.81}{348} \approx 3.02$ ，故 $I_2 > I_3 > I_1$ 。

故正确答案为 D。

83、D

A 项，定位图形材料，根据 $\text{增长率} = \frac{\text{现期} - \text{基期}}{\text{基期}}$ 可得，2017 年在线旅游市场交易规模增速为 $\frac{8923.31 - 7394.24}{7394.24} \approx \frac{1529}{7390} \approx 21\%$ ，2018 年在线旅游市场交易规模增速为 $\frac{9754.25 - 8923.31}{8923.31} \approx \frac{831}{8920} < 10\%$ ，故 2018 年增速 < 2017 年增速，增长率并非从 2014~2018 年逐年加快，错误；

B 项，定位图形材料，2013~2018 年在线住宿预订市场交易规模与在线度假旅游预订市场交易规模的差额分别为，2013 年： $412.1 - 244.8 \approx 167$ ，2014 年： $547.45 - 347.58 \approx 200$ ，2015 年： $862.57 - 549.97 \approx 313$ ，2016 年： $1251.42 - 757.4 \approx 494$ ，2017 年： $1586.19 - 947.47 \approx 639$ ，2018 年： $1881.49 - 1051.81 \approx 830$ ，因此最大的为 2018 年 830，最小的为 2013 年 167，前者是后者的倍数为 $\frac{830}{167} \approx 5 \text{ 倍}$ ，并非 4 倍，错误；

C 项，翻两番多即为原来的 4 倍多。定位图形材料，2014、2018 年在线旅游市场交易规模分别为 3166.6、9754.25，则 2018 年是 2014 年的 $\frac{9754.25}{3166.6} \approx \frac{9754.25}{3170} \approx 3 < 4 \text{ 倍}$ ，错误；

D 项，定位图形材料，2016~2018 年，在线交通预订市场交易规模占在线旅游市场交易规模的比重分别为，

$$2016 \text{ 年: } \frac{5385.42}{7394.24} \approx \frac{5385.42}{7390} \approx 73\%, \quad 2017 \text{ 年: } \frac{6389.65}{8923.31} \approx \frac{6389.65}{8920} \approx 72\%, \quad 2018 \text{ 年:}$$

$$\frac{6820.95}{9754.25} \approx \frac{6820.95}{9750} \approx 70\%, \quad 2016\sim 2018 \text{ 年逐年下降, 正确。}$$

故正确答案为 D。



美好的事情即将发生...

something wonderful is about to happen



公考通