

2021年9月25日广东省事业单位招聘高校
应届生《基本能力测试》试题

公考通网校

www.chinaexam.org



公考通 APP



微信公众平台

2021年9月25日广东省事业单位招聘高校应届生《基本能力测试》试题

一、常识应用。该部分含三类题型，分别为判断题，单项选择题，多项选择题。请根据题目要求，选出合适的选项。

- 1、组织路线是我们党的生命线和根本工作路线，是我们党永葆青春活力和战斗力的重要传家宝。（ ）
- 2、全面建成小康社会，全面深化改革，全面依法治国，全面从严治党，“四个全面”战略布局，既有战略目标，又有战略举措。（ ）
- 3、产业兴旺，生态宜居，乡风文明，治理有效，生活富裕是乡村振兴战略的总要求。（ ）
- 4、党的十九大报告指出，要强化自上而下的民主监督，改进自下而上的组织监督，发挥同级相互监督作用，加强对党员领导干部的日常管理监督。（ ）
- 5、为人民而生，因人民而兴，始终同人民一起，为人民利益而奋斗，是我们党兴党强党的根本出发点和落脚点。（ ）
- 6、经过全党全国各族人民持续奋斗，我国实现了第一个百年奋斗目标，在中华大地上全面建成小康社会，历史性地解决了相对贫困问题。（ ）
- 7、劳模精神、劳动精神、工匠精神是以爱国主义为核心的民族精神的生动体现。（ ）
- 8、农民阶级是我国的领导阶级，是先进生产力和生产关系的代表，是保持和发展中国特色社会主义的主力军。（ ）
- 9、1942年延安整风运动的方针是“长期共存，互相监督”。（ ）
- 10、体育是提高人民健康水平的重要途径，是满足人民群众对美好生活向往、促进人的全面发展的重要手段。（ ）
- 11、进一步优化生育政策，实现三孩的政策及配套支持措施，是落实积极应对人口老龄化国家战略的重要措施。（ ）
- 12、历史唯物主义是中国共产党人的世界观和方法论。（ ）
- 13、根据《中华人民共和国宪法》，公民有进行科学研究、文化艺术创作和其他文化活动的自由。（ ）
- 14、根据中华人民共和国选举法，代替他人填写选票的行为无效，要依法给予行政处分或刑事处罚。（ ）
- 15、张某、李某、王某合作投资了一家有限责任公司。一年后，因经营不善，公司申请破产后，债权人要求三人按投资比例对债务当场承担偿还责任。（ ）
- 16、李某乘坐飞机时将电脑遗失，电脑被邻座乘客王某捡到。王某主动归还李某电脑，但要求李某支付50元快递费。王某的行为不符合法律规定。（ ）
- 17、举重比赛中，运动员上场之前在手上抹些白色粉末，其作用是增大手与被握住物体的摩擦力，减少失误。（ ）
- 18、大明律是唐代行政法典，也是我国现存的最早的行政法典。（ ）

19、一般认为，甲骨文是目前可考证的中国最早的汉字。（ ）

20、根据国家有关规定，免征车辆购置税的新能源汽车是指纯电动汽车、插电式混合动力（含增程式）汽车、燃料电池汽车。（ ）

21、在中国共产党的历史上，遵义会议是一次具有伟大转折意义的重要会议。下面关于遵义会议说法正确的有（ ）。

- A、在红军第五次围剿失败和长征初期严重受挫的历史关头召开
- B、开启了中国共产党独立自主解决中国革命实际问题的新阶段
- C、确立了以毛泽东为主要代表的马克思主义正确路线，在党中央的领导地位
- D、标志着中国共产党创建人民军队和武装夺取政权的开端

22、十三五时期，广东省实施一系列重大发展战略和举措，加快形成全面开放新格局。这一时期，广东在加快形成全面开放新格局方面取得的成就有（ ）。

- A、数字政府改革走在全国前列
- B、广东自贸试验区累计形成 500 余项制度创新成果
- C、跨境电商出口实现快速增长
- D、对一带一路沿线国家进出口总额累计达 7.9 万亿元

23、党的 19 届四中全会着重研究坚持和完善中国特色社会主义制度，推进国家治理体系和治理能力现代化的重大问题。会议确定了坚持和完善中国特色社会主义制度，推进国家治理体系和治理能力现代化的总体目标。这一总体目标是（ ）。

- A、到我们党成立一百年时，在各方面制度更加成熟更加定型上取得明显成效
- B、到 2055 年，中国特色社会主义制度更加巩固、优越性充分展现
- C、到新中国成立 100 年时全面实现国家治理体系和治理能力现代化
- D、到 2035 年，各方面制度更加完善，基本实现国家治理体系和治理能力现代化

24、习近平总书记在党的十九大报告中提出“实施健康中国战略”，要完善国民健康政策，为人民群众提供全方位全周期健康服务。下列与之有关的措施和做法，正确的有（ ）。

- A、全面取消以药养医
- B、坚持中西医并重
- C、推进医养结合
- D、支持社会办医

25、根据《中华人民共和国宪法》，下列说法正确的有（ ）。

- A、国家军事委员会决定战争和和平的问题
- B、城市、农村和城市郊区的土地均属于国家所有

- C、县级以上的地方各级人民代表大会设立常务委员会
- D、国家鼓励社会力量依照法律规定举办各种教育事业

26、国债，又称国家公债，是国家以其信用为基础，按照债券的一般原则，通过向社会筹集资金所形成的债权债务关系。下面关于国债的描述正确的有（ ）。

- A、发行主体是国家
- B、债务人一般只能是国家
- C、债权人只能是本国公民
- D、具有最高的信用度，被公认为是最安全的投资工具

27、贸易差额可以表明国家对外贸易的收支状况，影响一国贸易差额的因素包括（ ）。

- A、汇率
- B、商品价格
- C、贸易协定
- D、贸易壁垒

28、借代是古诗词中常用的修辞手法之一，下列诗句中借代解释正确的有（ ）。

- A、“丧车黔首葬，吊客青蝇至”中的“黔首”指的是部族首领
- B、“欲寄彩笺兼尺素，山长水阔知何处”中的“尺素”指的是书信
- C、“朱门酒肉臭，路有冻死骨”中的“朱门”指的是显贵之家
- D、“主人下马客在船，举酒欲饮无管弦”中的“管弦”指的是音乐

29、下列关于中国传统戏曲的说法正确的有（ ）。

- A、豫剧属于我国五大戏曲剧种之一
- B、《霸王别姬》是一出经典的昆曲剧目
- C、京剧中银色的脸谱多表现的是一些鬼怪或者神仙
- D、粤剧充分体现了广府民系群落的地域文化传统

30、下列关于自然天气的说法，错误的有（ ）。

- A、我国沿海地区每年冬春之交常出现台风天气
- B、龙卷风常发生在寒带和亚热带地区
- C、要形成冰雹雨，云内必须含水量丰富
- D、冻雨是雨滴和温度低于零度的物体碰撞立即冻结的降水

31、习近平总书记在庆祝中国共产党成立 100 周年大会上强调，必须坚持和发展中国特色社会主义。下列有关中国特色社会主义的说法，正确的有（ ）。

- ①中国特色社会主义是党和人民历经千辛万苦、付出巨大代价取得的根本成就

- ②中国特色社会主义是实现中华民族伟大复兴的正确道路
- ③中国特色社会主义为什么好，归根到底是因为马克思主义行
- ④新时代坚持和发展中国特色社会主义要始终确保党的坚强领导核心

- A、①④
- B、①②④
- C、②③④
- D、①②③④

32、习近平总书记曾说过：“缺氧不缺精神、艰苦不怕吃苦、海拔高境界更高。”这句话中提到的“精神”具体指的是（ ）。

- A、长征精神
- B、老西藏精神
- C、井冈山精神
- D、西柏坡精神

33、党的十九大报告指出，中国特色社会主义进入新时代，我国社会主要矛盾已经从人民日益增长的物质文化需要同落后的社会生产力之间的矛盾，转化为人民日益增长的美好生活需要和不平衡不充分的发展之间的矛盾。这表明（ ）。

- A、社会主要矛盾的存在和发展，影响着社会非主要矛盾的存在和发展
- B、社会主要矛盾和非主要矛盾相互作用，在一定条件下相互转化
- C、社会主要矛盾不是一成不变的，在一定条件下会发生变化
- D、社会主要矛盾是其他一切社会矛盾的根源

34、广大政协委员、政协各参加单位和各专门委员会，围绕党和国家中心任务和人民群众普遍关心的民生问题，特别是围绕贯彻新发展理念问题，提出一系列建议。这体现的人民政协的主要职能是（ ）。

- A、发扬社会主义民主
- B、管理国家事务
- C、民主监督
- D、参政议政

35、毛泽东思想是马克思列宁主义基本原理和中国革命具体实际相结合的产物。是中国共产党人集体智慧的结晶，将其确立为中国共产党的指导思想的会议是（ ）。

- A、古田会议
- B、党的七大
- C、党的六届七中全会

D、党的十一届六中全会

36、下列选项体现了绿色发展理念的是（ ）。

- ①万物各得其和以生
- ②子钓而不纲，弋不射宿
- ③甘瓜抱苦蒂，美枣生荆棘
- ④太山之高，背而弗见
- ⑤草木荣华滋硕之时，则斧斤不入山林

- A、②③
- B、①②⑤
- C、②③④
- D、①②④⑤

37、为推动对外贸易高质量发展，广东省大力实施粤港澳大湾区国际消费枢纽工程：加快推进国际消费中心城市城市建设，下列做法中，有利于促进该工程取得成效的是（ ）。

- ①大力发展首店经济、品牌经济
- ②建设全国一体化大数据中心体系
- ③建设一批口岸免税店和市内免税店
- ④打造一批具有国际影响力的新型消费商圈

- A、①②③
- B、①②④
- C、①③④
- D、①②③④

38、人身安全保护令是一种民事强制措施，是人民法院为了保护家庭暴力受害人及其子女和特定亲属的人身安全、确保婚姻案件诉讼程序的正常进行而作出的民事裁定。下列情形中，可向法院申请人身安全保护令的是（ ）。

- A、小学生小明与徐某是母女，因小明的家庭作业错误较多，徐某打了小明巴掌，为此小明到派出所报警
- B、曾某和谢某是同事，因工作上的纠纷，曾某常在同事面前诋毁谢某
- C、陈某和李某是邻居，因不满李某经常将垃圾堆放在门口，陈某经常谩骂李某
- D、王某和李某是夫妻，因王某向法院提起离婚诉讼，李某经常恐吓威胁王某

39、我国古代很多写广东风物的是文学作品描写了广东地区的风土人情。以下诗句不属于描写广东风物的是（ ）。

- A、海对羊城阔，山连象郡高

- B、日啖荔枝三百颗，不辞长作岭南人
- C、连天浪静长鲸息，映日帆多宝舶来
- D、孤帆远影碧空尽，唯见长江天际流

40、以下关于我国传统建筑的描述与建筑名称对应不正确的是（ ）。

- A、一种开敞的小型建筑，平面一般有圆形、方形、六角形等，常设在园林或风景名胜等处——亭
- B、高而平的建筑物——台
- C、两层以上的房屋或建筑物的上层部分或有上层结构的——楼
- D、底部架空的高层建筑，通常四周设隔扇或栏杆回廊，供远眺、游憩、藏书和供佛之用——榭

二、言语理解与表达。根据题干，在下列四个选项中，选出一个最恰当的答案。

41、深圳的 40 年是中国经济特区建设的缩影，也是无数党员与人民群众努力的成果，（ ）。每个人的小小步都是建设成功的关键。

- A、厚积薄发
- B、积羽沉舟
- C、万众一心
- D、聚沙成塔

42、一些技术能力不强、人才储备不足、管理水平不高的制造企业，不注重强根基，反而头脑一热，扎进智能科技的大潮中，投资不小却（ ），这类走偏的发展倾向须警惕。

- A、事倍功半
- B、收效甚微
- C、得不偿失
- D、于事无补

43、中国古代寓言是一座丰富的文学宝库，（ ）了中国人的智慧和思考，短小精悍，却（ ），让人百读不厌。

- A、包含 耐人寻味
- B、彰显 微言大义
- C、承载 意味深长
- D、囊括 言简意赅

44、实体书店最红火的年代，恰恰也是信息相对（ ）的年代，人们接收的信息大多都来自书本。而在信息爆炸的今天，人们阅读和接收信息的方式发生了（ ）的改变。所以，我们不能要求书店也必须保持“传统”的味道，还停留在记忆中的样子。

- A、封闭 翻天覆地

- B、单调 参差不齐
- C、阻塞 猝不及防
- D、匮乏 前所未有

45、在网络空间中，消费信息（ ），成为新的“信息污染”，流量造假、夸大宣传等大量存在，（ ）商业规则，（ ）电商平台的良性发展。

- A、林林总总 冲击 约束
- B、纷繁芜杂 挑战 制约
- C、琳琅满目 动摇 掣肘
- D、五花八门 打破 限制

46、马克思、恩格斯把无产阶级组织成为独立政党作为无产阶级革命的首要条件，强调无产阶级政党必须成为一个统一的整体，必须由最彻底、最坚定的先进分子组成。列宁说：“无产阶级在争取政权的斗争中，除了组织，没有别的武器。”毛泽东同志指出：“一个政党要引导革命到胜利，必须依靠自己政治路线的正确和组织上的巩固。”邓小平同志强调，实现四个现代化，“要有正确的组织路线来保证”。

这段文字意在强调组织建设（ ）。

- A、需要经历长期探索
- B、是革命胜利的关键
- C、是党的建设的重要基础
- D、要以人才队伍建设为中心

47、从神经心理学和神经语言学的研究成果看，拼音文字是偏向大脑左半球的“单脑文字”，而汉字是大脑左、右两半球并用的“复脑文字”；拼音文字认知中“语音编码”方式起主要作用，而汉字认知中则是利用“多重编码”方式，语音、字形和语义编码兼用。由此可见，学习汉字可以开发大脑左、右半球的潜力。

这段文字意在说明（ ）。

- A、汉字学习与大脑半球机能的关系
- B、汉字学习有利于大脑的发展
- C、拼音和汉字认知中的不同编码方式
- D、拼音和汉字在大脑中的存储位置不同

48、①但这种普遍现象，却往往成为人们在工作中的一大难题，这是由于错误共识效应在起作用。

②错误共识效应使人们陷入过度的自我保护与精神亢奋之中，当别人提出不同观点时，不进行客观思考，而是用神态语言等各种表现证明对方是错的。

③由此看来，意见不合是一种十分普通而广泛的现象。

④“横看成岭侧成峰，远近高低各不同”，没有人会拥有 360 度的广角视角，而不同的视角会造就不同的

观点，分歧产生在所难免。

⑤所谓错误共识效应，就是指人们通常倾向于将自己的观点投射给他人，认为所有人都应当和自己以同一方式思考得出同样结论。

将以上 5 个句子重新排列，语序正确的是（ ）。

- A、④③①②⑤
- B、④③①⑤②
- C、⑤②③④①
- D、③①⑤④②

49、我国要坚决贯彻预防为主的健康工作方针，坚持常备不懈，将预防关口前移，避免小病酿成大疫。要强化风险意识，完善公共卫生重大风险研判、评估、决策、防控、协同机制。

作者最可能同意的是（ ）。

- A、我国应改革完善疾病预防控制体系
- B、我国应强化公共卫生法制保障
- C、我国应健全统一的应急物资保障体系
- D、我国公共卫生存在的短板

50、民法典是我国法律体系中条文最多、体量最大、编章结构最复杂的一部法律。民法典要实施好，就必须让民法典走到群众身边、走进群众心里。要广泛开展民法典普法工作，将其作为“十四五”时期普法工作的重点来抓，引导群众认识到民法典既是保护自身权益的法典，也是全体社会成员都必须遵循的规范，养成自觉守法的意识，形成遇事找法的习惯，培养解决问题靠法的意识和能力。要把民法典纳入国民教育体系，加强对青少年的民法典教育。

最适合做这段文字标题的是（ ）。

- A、民法典普法教育亟需加强
- B、法律意识人人有
- C、民法典实施再深入
- D、民法典“进”校园

三、**数字推理**。每道题给出一个数列，但其中缺少一项，要求你仔细观察这个数列中数字之间的关系，找出其中的规律，然后从 4 个备选项中选出最合理的 1 项来填补空缺。

51、10、11、13、16、20、（ ）。

- A、25
- B、26
- C、27

D、28

52、155、123、107、99、95、()。

A、91

B、92

C、93

D、94

53、3、1、8、8、17、19、()。

A、26

B、28

C、30

D、32

54、3.5、7、3、9、5、20、()、()、21、126。

A、15、75

B、4、16

C、2、12

D、6、18

55、2、6、12、20、30、()。

A、42

B、45

C、47

D、49

56、1、1、2、8、64、()。

A、1024

B、960

C、720

D、360

57、6、7、15、13、22、28、35、50、()。

A、56

B、63

C、78

D、89

58、2、9、16、23、30、（ ）。

- A、32
- B、37
- C、41
- D、46

59、0、5、15、35、75、（ ）。

- A、125
- B、135
- C、145
- D、155

60、1、2、2、4、8、（ ）。

- A、8
- B、10
- C、12
- D、32

四、数学运算。利用所给条件及基本的数学知识解答以下问题，从4个备选项中选出最符合题干要求的1项。

61、某部门有4名男性员工，2名女性员工。因工作分工需要将6名员工平均分为3组，且2名女性员工不在同一组，则分组方法共有（ ）种。

- A、3
- B、6
- C、9
- D、12

62、某商场正在举行促销活动。顾客消费金额达到一定数量后。可以在5种不同的赠品中随机选取2种。那么，任意两位顾客在选取赠品时，恰有1种赠品相同的概率是（ ）。

- A、10%
- B、30%
- C、40%
- D、60%

63、某部门共有小郑、小卢、小潘3名工作人员。部门中的一类工作文件要2人签字确认后才能存档。上周整理这类文件时发现（已知上周有文件入档），其中有14份文件小郑未签字，有15份文件小卢未签字，有

17 份文件小潘未签字，那么上周小郑签字的这类工作文件数量不可能是（ ）。

- A、6
- B、8
- C、9
- D、10

64、用甲、乙、丙三杯不同浓度的盐水调制浓度为 20% 的盐水，已知甲乙丙杯盐水的质量比例为 1:2:1，丙杯盐水浓度为 40%，乙杯盐水浓度是甲杯的一半，则甲杯盐水的浓度是（ ）。

- A、10%
- B、15%
- C、20%
- D、25%

65、A 公司第一季度营业收入比 B 公司低 20%。第二季度营业收入比第一季度增长了 5%；B 公司第二季度营业收入比第一季度减少了 10%。那么 A、B 两家公司第二季度营业收入之比是（ ）。

- A、10:11
- B、14:15
- C、35:36
- D、17:18

66、某工厂甲乙两个车间共同生产 240 台实验仪器，甲车间每天生产 12 台，乙车间每天比甲车间多生产 8 台。如果先由甲车间生产 10 天，剩下的由乙车间单独完成，则乙车间完成全部任务还需（ ）天。

- A、2
- B、4
- C、5
- D、6

67、某水果店批发了若干个哈密瓜。第一天卖出总数的一半，第二天卖出余下的一半后还剩 6 个。则该水果店共批发了（ ）个哈密瓜。

- A、42
- B、36
- C、30
- D、24

68、某度假村计划修建一座池底为正方形的水池。如果水池底每平方米的造价为 280 元，池壁每平方米的造价为 250 元，在不考虑其他成本的情况下。要建一个深 1.8 米、容积为 45 立方米的水池需花费（ ）元。

- A、15400
- B、15800
- C、16000
- D、17200

69、已知某年的4月有5个星期二和4个星期三，那么可以推出，当年的劳动节是（ ）。

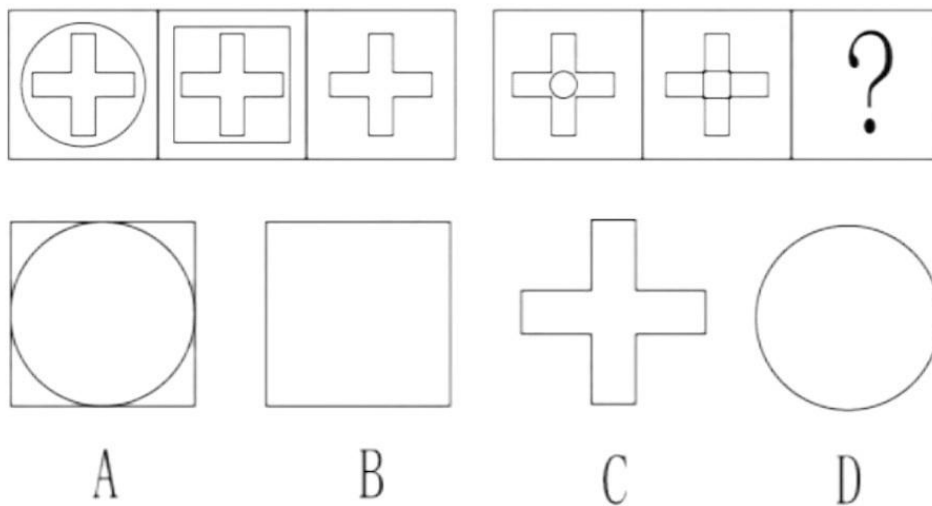
- A、星期三
- B、星期四
- C、星期五
- D、星期六

70、某中学计划在操场开展心理健康知识宣讲，刚开始在操场上摆放的若干座位成正方形方阵，后因部分学生临时无法参加，于是撤下了三行三列的座位，最终减少了81个座位，则最开始摆放了（ ）个座位。

- A、225
- B、196
- C、169
- D、144

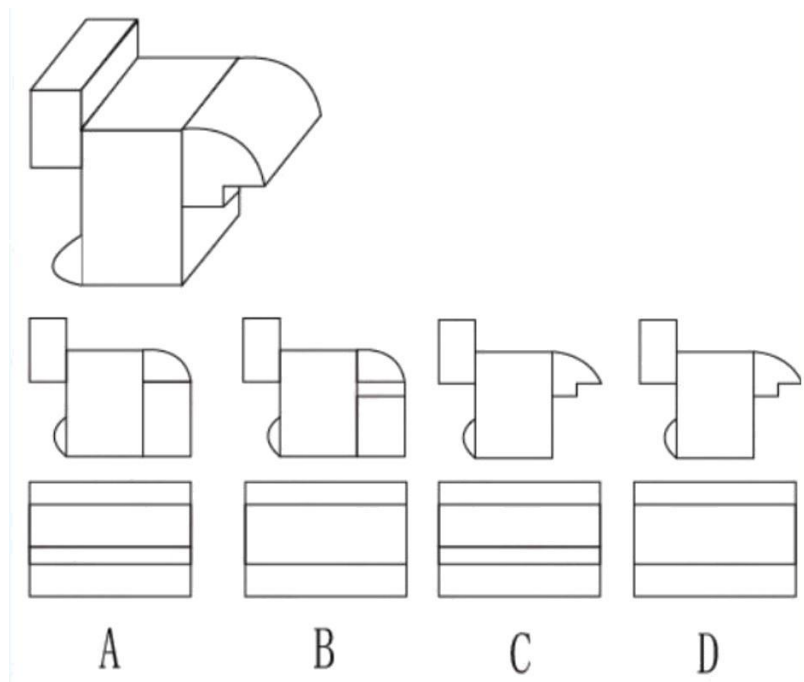
五、判断推理。本部分包括图形推理、定义判断、类比推理和逻辑判断四种类型的试题，在四个选项中选出一个最恰当的答案。

71、

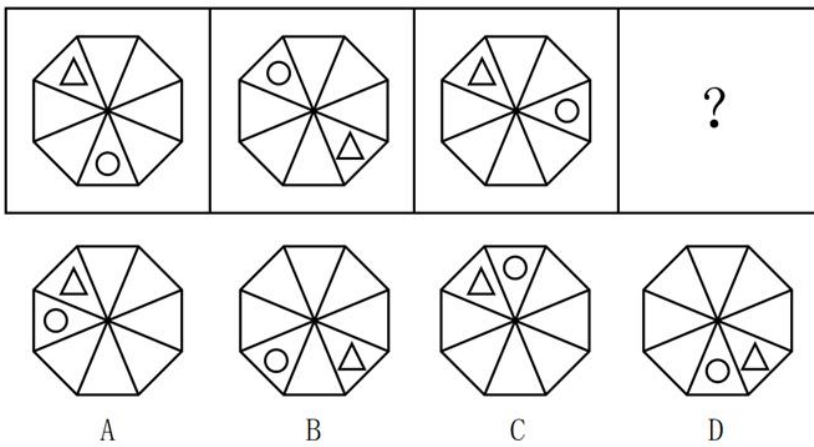


- A、A
- B、B
- C、C
- D、D

72、如图所示，所给立体图形的正视图和右视图是（ ）。

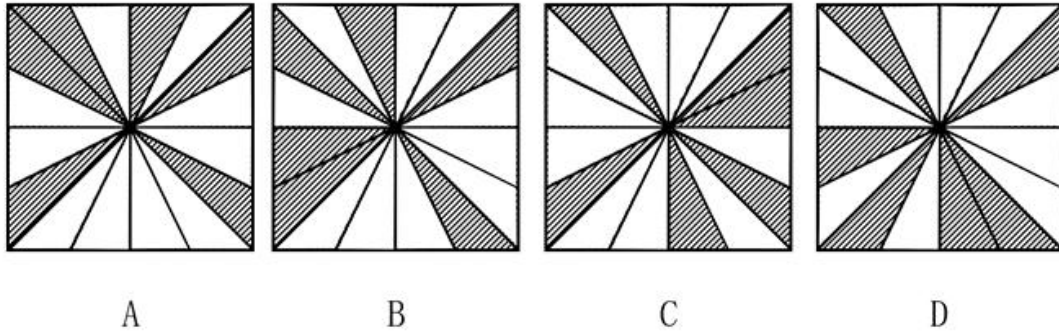


- A、A
 - B、B
 - C、C
 - D、D
- 73、




- A、A
- B、B
- C、C
- D、D

74、下列选项中，与其他三个选项不同的是（ ）。



- A、A
- B、B
- C、C
- D、D

75、下列选项中最符合所给图形规律的是（ ）。



- A、A
- B、B
- C、C
- D、D

76、仁：义（ ）

- A、春：夏
- B、恭：让
- C、明：暗
- D、淡：浓

77、汽车：驾驶（ ）

- A、聆听：音乐
- B、喝茶：饮水
- C、啤酒：聚会
- D、戏剧：观赏

78、沟通：书面（ ）。

- A、出行：走路
- B、轮船：飞机
- C、做饭：烹饪
- D、通讯：信号

79、面粉：馒头：蒸锅（ ）。

- A、颜料：纸张：画笔
- B、棉花：布：织布机
- C、铁：菜刀：刀刃
- D、高粱：酒精：发酵

80、字典：汉字（ ）。

- A、鼠标：键盘
- B、手机：聊天
- C、乐谱：音符
- D、写字：阅读

81、某单位计划选派若干人员参加党史知识竞赛。经过两轮选拔后，单位计划从小陈、小姜、小曾、小丁4人送出参赛人员。4人对参赛人员进行了猜测。小陈说：“我不会入选。”小姜说：“如果我入选，则小曾会入选。”小曾说：“除非小丁入选，否则小姜不入选。”小丁说：“小姜会入选但小曾不会入选。”

如果4人中只有1人猜对了，则下列判断中必然为真的是（ ）。

- A、小陈、小姜会入选
- B、小陈、小丁会入选
- C、小姜、小曾会入选
- D、小姜、小丁会入选

82、为了让老年人享受到更加便捷，优质的养老服务，某地政府大力推广“住在家中，服务在社区”的养老模式。然而，与预想不一样，这一模式并没有得到广大居民的积极响应。

下列最不能解释上述现象的是（ ）。

- A、该地历来就有敬老爱老的传统
- B、该养老模式的宣传推广不到位
- C、社区养老服务价格高昂
- D、社区养老服务存在低质化倾向

83、甲、乙、丙三人都是运动员，其运动项目是乒乓球、游泳、举重中的一种，已知：（1）甲不会游泳（2）

游泳运动员得过两块金牌（3）丙不是举重运动员，且从未拿过第一。

根据以上表述，下列说法正确的是（ ）。

- A、甲是游泳运动员，乙是举重运动员，丙是乒乓球运动员
- B、甲是乒乓球运动员，乙是举重运动员，丙是游泳运动员
- C、甲是举重运动员，乙是乒乓球运动员，丙是游泳运动员
- D、甲是举重运动员，乙是游泳运动员，丙是乒乓球运动员

84、某单位召开工作总结会议，7位员工从左到右依次坐在一排上。其中，小张、小唐、小赵和小宋来自同一个部门；小林、小贾和小康来自另一个部门，同时还满足以下条件：

- （1）所有座位朝向相同。
- （2）小张所在部门所有员工的座位都不相邻。
- （3）小赵在这排椅子的位置中紧挨着第四个员工的右边坐。
- （4）小贾坐在小赵的右边。
- （5）小张和小林相邻。
- （6）小张和小赵中间间隔了不止一人。

根据以上表述，下列选项可能为真的是（ ）。

- A、小康坐在小张的左边
- B、小林坐在小张的左边
- C、小唐坐在小张的左边
- D、小宋坐在小赵的左边

85、太阳系处于银河系中，地球是太阳系中的行星，所以地球处于银河系中。以下与上述推理在逻辑结构上最为相似的是（ ）。

- A、某医疗小组中，所有护士都是女性，甲是男性，所以甲不是该医疗小组的护士
- B、糖尿病人每天的糖摄入量不应超过50克，乙每天的糖摄入量控制在25克以下，所以乙是糖尿病人
- C、期末考试成绩在90分以上的学生被记为优秀，丙的成绩是96分，所以丙被记为优秀
- D、所有跳水运动员都会游泳，丁不会游泳，所以丁不是跳水运动员

86、某公司新推出一款耳机，其降低噪音的效果比市面上所有同类产品都要好，因此，该公司管理者认为，这款耳机的销量会远远超过市面上所有其它同类产品的销量。

以下选项如果为真，最能质疑该公司管理者判断的是（ ）。

- A、这款耳机的耗电量高于其它同类产品
- B、降低噪音功能并不是大部分消费者在选购耳机时的主要关注点
- C、这款耳机的价格略高于其它同类产品

D、该公司对于产品的宣传力度不如其它同类企业

87、某企业举办青年职工职业技能大赛，对参赛者的要求是年龄在 40 周岁以下。结果发现，有些参赛职工不会说英语。

根据以上信息，下列选项必然为真的是（ ）。

- A、有些 40 周岁以下的职工会说英语
- B、有些 40 周岁以下的职工不会说英语
- C、有些会说英语的人年龄超过了 40 周岁
- D、有些会说英语的人不参赛

88、维生素 C 具有抗病毒的作用，因此有专家团队进行了大剂量维生素 C 治疗某种流感的临床试验。对此，有人认为，大量的服用维生素 C 可以预防该流感，因此，在该流感高发期，药店和电商平台上的维生素 C 一度脱销。

以下选项如果为真，最能质疑上述观点的是（ ）。

- A、维生素 C 即使不能治疗这种流感，也能增强人体免疫力
- B、临床试验用的维生素 C 试剂与市面上购买的维生素 C 不同
- C、食物中的维生素 C 来源丰富，食用新鲜的水果和蔬菜，即可满足一天的需要
- D、临床试验中用来治疗这种流感患者的维生素 C，对普通人预防感染并不一定有效

89、为激发员工的工作积极性、主动性，某企业人力资源部门计划定期发放各种福利，包括超市代金券、生活日用品等，但是一段时间后，发现该企业员工的工作积极性和主动性并没有明显的提升。

以下选项最能解释这一现象的是（ ）。

- A、该企业每季度发放一次福利
- B、近期该企业所在的行业整体不景气
- C、该企业向所有的员工都发放了福利
- D、有员工反映该企业发放的日用品质量不好

90、有研究表明，当人们查看完手机再放下之后，肾上腺会分泌皮质醇。少量皮质醇对人体有益，但随着皮质醇升高，人们会变得愈加焦虑。因此，为了缓解焦虑情绪，人们一定会不由自主地想要查看手机，这就解释了现在人们普遍存在的“无手机恐惧症”。

以下最能总结上述论断缺陷的是（ ）。

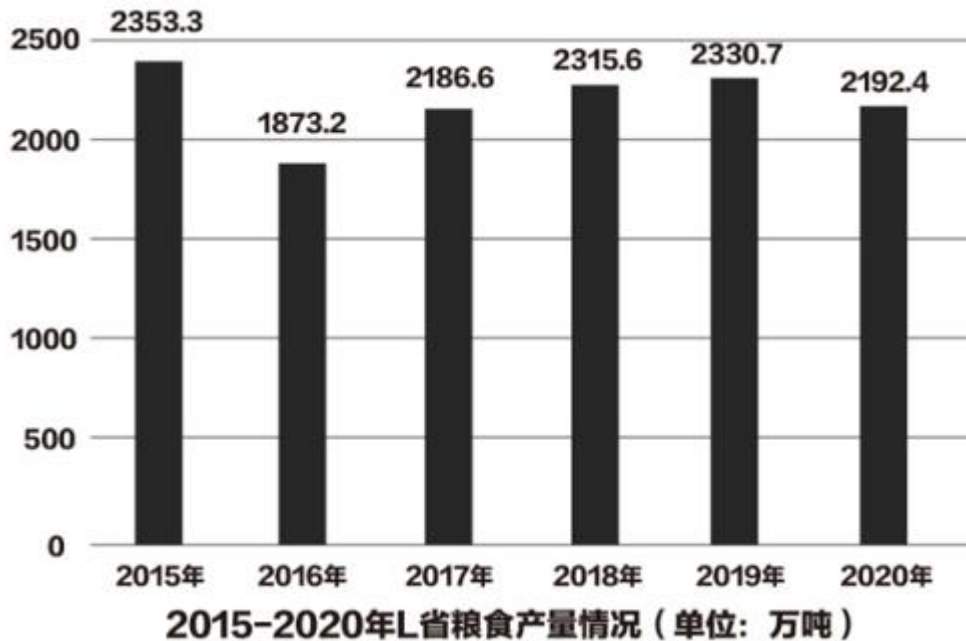
- A、假设了查看手机是人们缓解焦虑的唯一方法
- B、忽视了“无手机恐惧症”的其他影响因素
- C、暗含了现在的人们手机使用频率相当高
- D、忽视了人们使用手机处理工作的具体情况

六、资料分析。针对一段材料有 5 个问题，你需要根据材料所提供的信息进行分析、比较、计算，从 4 个备选选项中选出符合题意的 1 项。

(一)

根据材料回答 91-95 题。

据统计，2020 年 L 省全年粮食总产量 2192.4 万吨，同比下降 5.3%；甜菜产量 11.8 万吨，增长 10.4%；油料产量 78.13 万吨，下降 4.09%；蔬菜产量 1852.3 万吨，增长 3.03%；烟叶产量 1.77 万吨，下降 32.74%。L 省全年水产品产量 450.7 万吨，同比下降 6.11%。其中，海洋捕捞 80.6 万吨，下降 3.7%；海水养殖 286.3 万吨，下降 7.08%；淡水捕捞 3.9 万吨，下降 15.22%；淡水养殖 79.9 万吨，下降 3.73%。



91、2020 年 L 省蔬菜产量比甜菜产量高约 () 万吨。

- A、1800
- B、1840
- C、1900
- D、2100

92、2016-2020 年，L 省粮食年均产量约为 () 万吨。

- A、1980
- B、2080
- C、2180
- D、2280

93、2019 年，L 省海水养殖产业产量占全年水产品产量的比重约为 ()。

- A、54%

B、60%

C、64%

D、70%

94、2017-2020年，L省粮食年产量增速最快的一年是（ ）年。

A、2017

B、2018

C、2019

D、2020

95、根据上述资料，下列选项正确的是（ ）。

A、2015-2020年，L省粮食产量最高的年份是2019年

B、2019年，L省全年淡水产品产量超过100万吨

C、2020年，L省甜菜及油料产量合计约90万吨

D、2016-2020年，L省粮食产量同比下降的年份有3个

（二）

2020年，对全国6万家规模以上文化及相关产业企业调查结果显示，全年上述企业实现营业收入98514亿元，比上年增长2.2%，其中，前三季度实现营业收入66119亿元，同比下降0.6%。分领域看，文化核心领域营业收入60295亿元，比上年增长3.8%，增速较前三季度提高2.3个百分点；文化相关领域38220亿元，下降0.1%，降幅收窄3.7个百分点。

2020年全国规模以上文化及相关产业企业营业收入情况

	营业收入 (亿元)		同比增速 (%)	
	全年	前三季度	全年	前三季度
按行业类别分				
新闻信息服务	9382	6434	18	17
内容创作生产	23275	15855	4.7	4.1
创意设计服务	15645	10276	11.1	9
文化传播渠道	10428	6878	-11.8	-16.5
文化投资运营	451	298	2.8	0.2
文化娱乐休闲服务	1115	683	-30.2	-39.9
文化辅助生产和中介服务	13519	9171	-6.9	-9.5
文化装备生产	5893	3975	1.1	-3.4
文化消费终端生产	18808	12549	5.1	0.8
按区域分				
东部地区	73943	50305	2.3	-0.4
中部地区	14656	9385	1.4	-1.5
西部地区	9044	5865	4.1	0.9
东北地区	872	564	-8.6	-15.9

注:

(1) 表中部分数据存在四舍五入情况;

(2) “文化辅助生产和中介服务”、“文化装备生产”和“文化消费终端生产”为文化相关领域行业,其余为卫华核心领域行业。

96、2020年第四季度,全国规模以上文化及相关产业企业营业收入比2019年第四季度增加约()亿元。

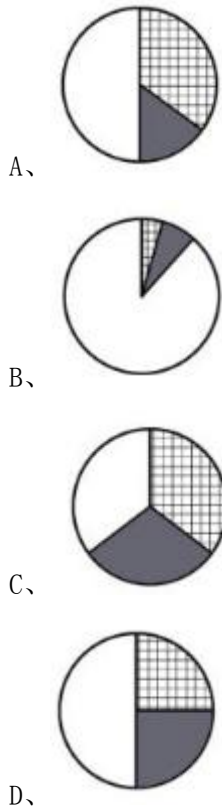
- A、2500
- B、3500
- C、4500
- D、5500

97、2020年,文化及相关产业营业收入同比上升的企业,营业收入占全国总营业收入的比重()。

- A、不到60%

- B、在 60%-70%之间
- C、在 70%-80%之间
- D、超过 80%

98、下列选项最能反映 2020 年文化辅助生产和中介服务、文化装备生产、文化消费终端生产营业收入占文化相关领域行业营业收入比重关系的是（ ）。



99、全国东部、中部、西部和东北 4 个地区中，2020 年第四季度规模以上文化企业营业收入超过本地区当年季度营业收入平均值的地区有（ ）个。

- A、1
- B、2
- C、3
- D、4

100、关于全国规模以上文化及相关产业企业营业收入，能够从上述资料推出的是（ ）。

- A、2020 年，内容创作生产行业收入占总收入的 25%以上
- B、2020 年第四季度，东部地区收入占全国总收入的 90%以上
- C、2020 年收入最低的两个行业，其平均收入低于 600 亿元
- D、2020 年前三季度，收入同比增长的行业数量超过行业总数的一半

参考答案

1、本题考查政治常识。

2013年12月26日，习近平总书记在纪念毛泽东同志诞辰120周年座谈会上的讲话中指出，群众路线是我们党的生命线和根本工作路线，是我们党永葆青春活力和战斗力的重要传家宝。不论过去、现在和将来，我们都要坚持一切为了群众，一切依靠群众，从群众中来，到群众中去，把党的正确主张变为群众的自觉行动，把群众路线贯彻到治国理政全部活动之中。

故表述错误。

2、本题考查政治常识。

2020年10月，党的十九届五中全会强调，“统筹推进经济建设、政治建设、文化建设、社会建设、生态文明建设的总体布局，协调推进全面建设社会主义现代化国家、全面深化改革、全面依法治国、全面从严治党的战略布局”。这表明“四个全面”战略布局的内涵，正式由“全面建成小康社会、全面深化改革、全面依法治国、全面从严治党”发展为“全面建设社会主义现代化国家、全面深化改革、全面依法治国、全面从严治党”。

故表述错误。

3、本题考查政治常识。

习近平总书记在党的十九大报告中指出，实施乡村振兴战略，要坚持农业农村优先发展，按照产业兴旺、生态宜居、乡风文明、治理有效、生活富裕的总要求，建立健全城乡融合发展体制机制和政策体系，加快推进农业农村现代化。

故表述正确。

4、本题考查政治常识。

党的十九大报告指出，健全党和国家监督体系。增强党自我净化能力，根本靠强化党的自我监督和群众监督。要加强对权力运行的制约和监督，让人民监督权力，让权力在阳光下运行，把权力关进制度的笼子。强化自上而下的组织监督，改进自下而上的民主监督，发挥同级相互监督作用，加强对党员领导干部的日常管理监督。

故表述错误。

5、本题考查政治常识。

党史学习教育动员大会于2021年2月20日上午在北京召开。中共中央总书记、国家主席、中央军委主席习近平出席会议并发表重要讲话。他指出：“我们党来自于人民，党的根基和血脉在人民。为人民而生，因人民而兴，始终同人民在一起，为人民利益而奋斗，是我们党立党兴党强党的根本出发点和落脚点。”

故表述正确。

6、本题考查政治常识。

2021年7月1日上午，中共中央总书记、国家主席、中央军委主席习近平代表党和人民庄严宣告，经过全

党全国各族人民持续奋斗，我们实现了第一个百年奋斗目标，在中华大地上全面建成了小康社会，历史性地解决了绝对贫困问题，正在意气风发向着全面建成社会主义现代化强国的第二个百年奋斗目标迈进。这是中华民族的伟大光荣！这是中国人民的伟大光荣！这是中国共产党的伟大光荣！

故表述错误。

7、本题考查政治常识。

习近平总书记多次在会议中指出：“劳模精神、劳动精神、工匠精神是以爱国主义为核心的民族精神和以改革创新为核心的时代精神的生动体现，是鼓舞全党全国各族人民风雨无阻、勇敢前进的强大精神动力。”

故表述错误。

8、本题考查政治常识。

工人阶级是我国的领导阶级，是先进生产力和生产关系的代表，是改革开放和社会主义现代化建设的主力军，是维护社会安定的强大而集中的社会力量。

故表述错误。

9、本题考查人文常识。

1942年2月，毛泽东同志在延安作了《整顿党的作风》和《反对党八股》的报告，明确提出了整风运动的方针是“惩前毖后，治病救人”。

故表述错误。

10、本题考查政治常识。

2020年9月22日，习近平总书记主持召开教育文化卫生体育领域专家代表座谈会并发表重要讲话。习近平强调：“体育是提高人民健康水平的重要途径，是满足人民群众对美好生活向往、促进人的全面发展的重要手段。‘十四五’时期，要科学研判体育发展面临的新形势，坚持问题导向，聚焦重点领域和关键环节，深化改革创新，不断开创体育事业发展新局面。”

故表述正确。

11、本题考查政治常识。

《中共中央 国务院关于优化生育政策促进人口长期均衡发展的决定》中指出：“进一步适应人口形势新变化和推动高质量发展新要求，实施三孩生育政策及配套支持措施，具有重大意义。有利于改善人口结构，落实积极应对人口老龄化国家战略。”

故表述正确。

12、本题考查政治常识。

2015年1月23日，十八届中央政治局就辩证唯物主义基本原理和方法论进行第二十次集体学习。习近平总书记在主持学习时强调：“辩证唯物主义是中国共产党人的世界观和方法论，我们党要团结带领人民协调推进全面建成小康社会、全面深化改革、全面依法治国、全面从严治党，实现‘两个一百年’奋斗目标、实现中

中华民族伟大复兴的中国梦，必须不断接受马克思主义哲学智慧的滋养，更加自觉地坚持和运用辩证唯物主义世界观和方法论，增强辩证思维、战略思维能力，努力提高解决我国改革发展基本问题的本领。”

故表述错误。

13、本题考查法律常识。

根据《宪法》第四十七条规定：“中华人民共和国公民有进行科学研究、文学艺术创作和其他文化活动的自由。国家对于从事教育、科学、技术、文学、艺术和其他文化事业的公民的有益于人民的创造性工作，给以鼓励和帮助。”

故表述正确。

14、本题考查法律常识。

根据《选举法》第五十五条规定：“为保障选民和代表自由行使选举权和被选举权，对有下列行为之一，破坏选举，违反治安管理规定的，依法给予治安管理处罚；构成犯罪的，依法追究刑事责任：（一）以金钱或者其他财物贿赂选民或者代表，妨害选民和代表自由行使选举权和被选举权的；（二）以暴力、威胁、欺骗或者其他非法手段妨害选民和代表自由行使选举权和被选举权的；（三）伪造选举文件、虚报选举票数或者有其他违法行为的；（四）对于控告、检举选举中违法行为的人，或者对于提出要求罢免代表的人进行压制、报复的。”第四十条规定：“全国和地方各级人民代表大会代表的选举，一律采用无记名投票的方法。选举时应当设有秘密写票处。选民如果是文盲或者因残疾不能写选票的，可以委托他信任的人代写。”参加选举的选举人因不识字或其他特殊情况，不能自己填写选票时，能够委托不是候选人的其他选举人或工作人员代写选票。因此，代替他人填写选票的行为不一定无效，不必然给予行政处分或刑事处罚。

故表述错误。

15、本题考查法律常识。

根据《公司法》第三条第二款规定：“有限责任公司，股东以其出资额为限对公司承担责任，公司以其全部资产对公司的债务承担责任。”综上所述，有限责任公司的股东并不直接对债权人负有清偿义务，而是对公司承担责任，而公司作为独立的法人对债权人负责。

故表述错误。

16、本题考查法律常识。

根据《民法典》第九百七十九条规定：“管理人没有法定的或者约定的义务，为避免他人利益受损失而管理他人事务的，可以请求受益人偿还因管理事务而支出的必要费用；管理人因管理事务受到损失的，可以请求受益人给予适当补偿。管理事务不符合受益人真实意思的，管理人不享有前款规定的权利；但是，受益人的真实意思违反法律或者违背公序良俗的除外。”本案中，王某拾得遗失物后主动邮递给失主李某，王某和李某之间不存在约定，王某也无法定义务给李某寄回遗失物，因此，王某的行为属于无因管理，管理人要求受益人支付相应的必要支出，属于合法行为。

故表述错误。

17、本题考查科技常识。

举重比赛中，运动员上场前都会手上抹些白色粉末，这种白色粉末叫“碳酸镁”，通称为“镁粉”。碳酸镁质量很轻，具有很强的吸湿作用。运动员在比赛时，手掌心常会冒汗，使得摩擦力减小，运动员握不住器械，不仅影响动作的质量，严重时还会导致运动员受伤。碳酸镁有助于吸去掌心汗水，同时还会增加掌心与器械之间的摩擦力，使运动员握紧器械，提高动作的质量，保证运动员的安全。

故表述正确。

18、本题考查人文常识。

我国现有的最早的一部行政法典是《唐六典》，全称《大唐六典》，在唐玄宗李隆基时官修。《唐六典》规定了唐朝中央和地方国家机关的机构、编制、职责、人员、品位、待遇，注中又叙述了官制历史沿革。根据依照唐玄宗的意图，此书本应按《周礼》分为理典、教典、礼典、政典、刑典、事典六个部分，故书名《唐六典》。

《大明律》是明朝的主要法令条例，由明太祖朱元璋总结历代法律施行的经验和教训而成，肯定了明初人身地位的变化，注重了经济立法，在体例上表现了各部门法的相对独立性，并扩大了民法的范围。《大明律》继承了明朝以前的中国古代法律制定的优良传统，开启了清代乃至近代中国立法活动的发展。

故表述错误。

19、本题考查人文常识。

甲骨文是迄今为止中国发现的年代最早的成熟文字系统，创造于商朝晚期，是汉字的源头和中华优秀传统文化的根脉，又称“契文”“甲骨卜辞”。2017年甲骨文被列入《世界记忆名录》。

故表述正确。

20、本题考查政治常识。

根据《关于新能源汽车免征车辆购置税有关政策的公告》（财政部 税务总局 工业和信息化部公告 2020年第21号）指出：自2021年1月1日至2022年12月31日，对购置的新能源汽车免征车辆购置税。免征车辆购置税的新能源汽车是指纯电动汽车、插电式混合动力（含增程式）汽车、燃料电池汽车。

故表述正确。

21、本题考查人文常识。

A项、B项、C项正确，1935年1月15日至17日，中共中央政治局在此召开遵义会议。遵义会议是一次具有伟大转折意义的重要会议。这次会议在红军第五次反“围剿”失败和长征初期严重受挫的历史关头召开，确立了毛泽东同志在党中央和红军的领导地位，开始确立了以毛泽东同志为主要代表的马克思主义正确路线在党中央的领导地位，开始形成以毛泽东同志为核心的党的第一代中央领导集体，开启了我们党独立自主解决中国革命实际问题的新阶段，在最危急关头挽救了党、挽救了红军、挽救了中国革命。

D 项错误，南昌起义标志着中国共产党创建人民军队和武装夺取政权的开端。

故正确答案为 ABC。

22、本题考查政治常识。

2021 年 4 月 25 日上午，广东省人民政府新闻办公室在广州举行的新闻发布会上宣布，《广东省国民经济和社会发展第十四个五年规划和 2035 年远景目标纲要》（以下简称《纲要》）正式出台。

A 项正确，《纲要》指出，数字政府改革建设走在全国前列，“粤省事”“粤商通”“粤政易”实名注册量分别超过 9500 万、600 万、170 万，网上政务服务能力稳居全国首位。

B 项正确，《纲要》指出，粤港澳大湾区建设上升为国家战略。广东自贸试验区累计形成 527 项制度创新成果，41 项全国首创，6 项成为全国最佳实践案例，133 项在全省相关范围复制推广。

C 项正确，《纲要》指出，贸易新业态新模式蓬勃发展，跨境电商进出口和市场采购出口实现快速增长。

D 项正确，《纲要》指出，参与“一带一路”建设成果丰硕，“十三五”时期，全省对“一带一路”沿线国家进出口总额累计达 7.9 万亿元，年均增长 7.5%，2020 年对沿线国家进出口总额占全省比重达 24.8%。

故正确答案为 ABCD。

23、本题考查政治常识。

2019 年 10 月 31 日，中国共产党第十九届中央委员会第四次全体会议通过的《中共中央关于坚持和完善中国特色社会主义制度、推进国家治理体系和治理能力现代化若干重大问题的决定》中提出：“坚持和完善中国特色社会主义制度、推进国家治理体系和治理能力现代化的总体目标是，到我们党成立一百年时，在各方面制度更加成熟更加定型上取得明显成效；到二〇三五年，各方面制度更加完善，基本实现国家治理体系和治理能力现代化；到新中国成立一百年时，全面实现国家治理体系和治理能力现代化，使中国特色社会主义制度更加巩固、优越性充分展现。”

故正确答案为 ACD。

24、本题考查政治常识。

党的十九大报告指出：“人民健康是民族昌盛和国家富强的重要标志。要完善国民健康政策，为人民群众提供全方位全周期健康服务。深化医药卫生体制改革，全面建立中国特色基本医疗卫生制度、医疗保障制度和优质高效的医疗卫生服务体系，健全现代医院管理制度。加强基层医疗卫生服务体系和全科医生队伍建设。全面取消以药养医，健全药品供应保障制度。坚持预防为主，深入开展爱国卫生运动，倡导健康文明生活方式，预防控制重大疾病。实施食品安全战略，让人民吃得放心。坚持中西医并重，传承发展中医药事业。支持社会办医，发展健康产业。促进生育政策和相关经济社会政策配套衔接，加强人口发展战略研究。积极应对人口老龄化，构建养老、孝老、敬老的政策体系和社会环境，推进医养结合，加快老龄事业和产业发展。”

故正确答案为 ABCD。

25、本题考查法律常识。

A项错误，根据《宪法》第六十二条规定：“全国人民代表大会行使下列职权：……（十五）决定战争和和平的问题；……”因此，国家军事委员会无权决定战争和和平的问题。

B项错误，根据《宪法》第十条第一、二款规定：“城市的土地属于国家所有。农村和城市郊区的土地，除由法律规定属于国家所有的以外，属于集体所有；宅基地和自留地、自留山，也属于集体所有。”

C项正确，根据《宪法》第九十六条规定：“县级以上的地方各级人民代表大会设立常务委员会。”

D项正确，根据《宪法》第十九条第四款规定：“国家鼓励集体经济组织、国家企业事业组织和其他社会力量依照法律规定举办各种教育事业。”

本题为多选题，故正确答案为CD。

26、本题考查经济常识。

A、D两项正确，国债是中央政府为筹集财政资金而发行的一种政府债券，由中央政府向投资者出具的、承诺在一定时期支付利息和到期偿还本金的债权债务凭证。由于国债的发行主体是国家，所以它具有最高的信用度，被公认为是最安全的投资工具。

B、项正确，国债的债务人只能是国家，即代表一国的中央政府。地方政府发行的叫做地方政府债券。

C项错误，国债的债权人既可以是国内外的公民、法人或其他组织，也可以是某一国家或地区的政府以及国际金融组织。

故正确答案为ABD。

27、本题考查经济常识。

贸易差额是指一定时期内一国出口总额与进口总额之间的差额，用以表明一国对外贸易的收支状况。影响一国贸易差额的因素有：（1）本国商品和外国商品的价格；（2）汇率；（3）贸易协定；（4）贸易壁垒；（5）本国和外国的景气循环（经济周期）。

故正确答案为ABCD。

28、本题考查人文常识。

A项错误，“丧车黔首葬，吊客青蝇至”出自唐代元稹《杂曲歌辞·出门行》，其中“黔首”是中国战国时期和秦代对百姓的称呼，秦始皇时期开始使用。“分天下以为三十六郡，郡置守、尉、监。更名民曰‘黔首’”（《史记·秦始皇本纪》），含义与当时常见的民、庶民同。

B项正确，“欲寄彩笺兼尺素，山长水阔知何处”出自宋代晏殊《蝶恋花·槛菊愁烟兰泣露》，其中“尺素”是书信的代称。古人写信用素绢，通常长约一尺，故称“尺素”。“尺素”语出《古诗十九首》“客从远方来，遗我双鲤鱼。呼儿烹鲤鱼，中有尺素书”。

C项正确，“朱门酒肉臭，路有冻死骨”出自唐代杜甫《自京赴奉先县咏怀五百字》，其中“朱门”旧时借指豪富人家，古代王公贵族的住宅大门漆成红色，表示尊贵。

D项正确，“主人下马客在船，举酒欲饮无管弦”出自唐代白居易《琵琶行》，其中的“管弦”管指管类

乐器，如笛子、箫之类；弦指弦类乐器，如古筝、琵琶。在这里“管弦”代指与其密切相关的“音乐”。

故正确答案为BCD。

29、本题考查人文常识。

A项正确，豫剧是我国最大的地方剧种，居全国各地戏曲之首。豫剧是在河南梆子的基础上不断继承、改革和创新发展起来的，与京剧、黄梅戏、评剧、越剧并称中国五大剧种。

B项错误，《霸王别姬》是京剧艺术大师梅兰芳表演的梅派经典名剧之一，主角是西楚霸王项羽的爱妃虞姬。清逸居士根据昆曲《千金记》和《史记·项羽本纪》编写而成，包括《九里山》《楚汉争》《亡乌江》《十面埋伏》。

C项正确，京剧中的银色脸谱代表各种神怪形象，主要代表人物有二郎神。

D项正确，粤剧又称“广东大戏”，发源于佛山，以粤方言演唱。粤剧广泛吸收广东音乐、广绣、牙雕、陶瓷、灰塑等地方艺术形式，充分体现了广府民系群落的地域文化传统，辐射范围遍及全球各地，在世界华人中具有极强的文化凝聚力。

故正确答案为ACD。

30、A项错误，夏秋季节热带太平洋地区水温高，气温高，台风易于形成并侵入我国沿海地区。冬春季节热带太平洋海域水温低，气温低，台风难以形成。

B项错误，龙卷风是发生于直展云系底部和下垫面之间的直立空管状旋转气流，是一类局地尺度的剧烈天气现象。龙卷风可见于热带和温带地区，包括美洲内陆、澳洲西部、印度半岛东北部等。

C项正确，冰雹雨形成条件是①大气中必须有相当厚的不稳定层存在；②积雨云必须发展到能使个别大水滴冻结的温度（一般认为温度达 $-12\sim-16^{\circ}\text{C}$ ）；③要有强的风切变；④云的垂直厚度不能小于6~8千米；⑤积雨云内含水量丰富。一般为3~8克每立方米，在最大上升速度的上方有一个液态过冷却水的累积带；⑥云内应有倾斜的、强烈而不均匀的上升气流，一般在10~20米/秒以上。

D项正确，冻雨是由过冷水滴组成，当它在降落过程中遇到温度低于摄氏零度的物体，迅速冻结成冰的降水现象。

本题为选非题，故正确答案为AB。

31、①表述正确，习近平总书记在《在庆祝中国共产党成立一百周年大会上的讲话》中指出：“中国特色社会主义是党和人民历经千辛万苦、付出巨大代价取得的根本成就，是实现中华民族伟大复兴的正确道路”。

②表述正确，习近平总书记在《在庆祝中国共产党成立一百周年大会上的讲话》中指出：“中国特色社会主义是党和人民历经千辛万苦、付出巨大代价取得的根本成就，是实现中华民族伟大复兴的正确道路”。

③表述正确，习近平总书记在《在庆祝中国共产党成立一百周年大会上的讲话》中指出：“中国共产党为什么能，中国特色社会主义为什么好，归根到底是因为马克思主义行！”

④表述正确，习近平总书记在《在庆祝中国共产党成立一百周年大会上的讲话》中指出：“新的征程上，

我们要牢记打铁必须自身硬的道理，增强全面从严治党永远在路上的政治自觉，以党的政治建设为统领，继续推进新时代党的建设新的伟大工程，不断严密党的组织体系，着力建设德才兼备的高素质干部队伍，坚定不移推进党风廉政建设和反腐败斗争，坚决清除一切损害党的先进性和纯洁性的因素，清除一切侵蚀党的健康肌体的病毒，确保党不变质、不变色、不变味，确保党在新时代坚持和发展中国特色社会主义的历史进程中始终成为坚强领导核心！”

故正确答案为D。

32、A项错误，长征精神是红色革命精神之一，是土地革命战争时期，中国工农红军在历时两年的战略转移中培育形成的革命精神。习近平提出了“不论我们的事业发展到哪一步，不论我们取得了多大成就，我们都要大力弘扬伟大长征精神，在新的长征路上继续奋勇前进”。

B项正确，2020年8月28日至29日，中央第七次西藏工作座谈会在北京召开。习近平总书记在讲话中强调：“广大干部特别是西藏干部要发扬‘老西藏精神’，缺氧不缺精神、艰苦不怕吃苦、海拔高境界更高，在工作中不断增强责任感、使命感，增强能力、锤炼作风。”

C项错误，井冈山精神是红色革命精神之一，是以毛泽东为代表的中国共产党人把马克思列宁主义基本原理与中国革命的具体实践相结合而培育的一种伟大革命精神。

D项错误，西柏坡精神由毛泽东在西柏坡召开的中国共产党七届二中全会上提出，是指以毛泽东为首的党中央在驻西柏坡期间，所体现和创立的一系列革命精神。它的实质是巩固和加强共产党的执政地位，不断地把社会主义事业推向前进。

故正确答案为B。

33、本题考查政治常识。

A项错误，社会主要矛盾是处于支配地位、在社会发展过程一定阶段上起主导作用的矛盾。社会主要矛盾的存在和发展，规定或影响着社会非主要矛盾的存在和发展。说法正确，但与题干无关。

B项错误，社会主要矛盾和非主要矛盾相互作用，在一定条件下相互转化。但是题干没有提到社会非主要矛盾，也没有提到社会主要矛盾与社会非主要矛盾的关系。说法正确，但与题干无关。

C项正确，社会主要矛盾不是一成不变的，在一定条件下会发生变化。中国特色社会主义进入新时代，我国社会主要矛盾已经转化为人民日益增长的美好生活需要和不平衡不充分的发展之间的矛盾，体现了社会主要矛盾的发展变化。

D项错误，一般来说，社会基本矛盾是其他一切社会矛盾的根源，规定和制约着社会主要矛盾的存在和发展，社会主要矛盾是社会基本矛盾的具体体现，表述错误。

故正确答案为C。

34、本题常考法律常识。

人民政协的主要职能是政治协商、民主监督、参政议政。政治协商是对国家大政方针和地方的重要举措以及经济建设、政治建设、文化建设、社会建设、生态文明建设中的重要问题，在决策之前和决策实施之中进行协商。民主监督是对国家宪法、法律和法规的实施，重大方针政策、重大改革举措、重要决策部署的贯彻执行情况，涉及人民群众切身利益的实际问题解决落实情况，国家机关及其工作人员的工作等，通过提出意见、批评、建议的方式进行的协商式监督。参政议政是对政治、经济、文化、社会生活和生态环境等方面的重要问题以及人民群众普遍关心的问题，开展调查研究，反映社情民意，进行协商讨论；通过调研报告、提案、建议案或其他形式，向中国共产党和国家机关提出意见和建议。

A 项错误，“发扬社会主义民主”不是人民政协的主要职能。

B 项错误，“管理国家事务”不是人民政协职能，人民政协主要以“参政议政”等方式参与国家事务，而不直接管理国家事务。

C 项错误，“民主监督”着重强调的监督这一职能，体现的是对法律法规、方针政策、举措、决策部署等的实施、贯彻执行、落实等情况提出意见和建议。

D 项正确，题干中，政协委员、政协各参加单位和各专门委员会围绕党和国家中心任务和人民群众普遍关心的民生问题，提出建议，这是政协参政议政的表现。

故正确答案为 D。

35、本题考查人文常识。

A 项错误，1929 年 12 月，中国共产党红军第四军第九次代表大会在福建古田召开。古田会议的中心思想是：用无产阶级思想进行军队和党的建设，确立了思想建党、政治建军的原则。古田会议第一次以决议的形式提出了我军官兵一致、军民一致、瓦解敌军的政治工作三大原则。

B 项正确，1945 年 4 月，党的七大在延安召开。毛泽东作《论联合政府》的政治报告，提出了三大优良作风：理论与实际相结合的作风、与人民群众紧密地联系在一起的作风以及批评与自我批评的作风；刘少奇作了《关于修改党的章程的报告》，将毛泽东思想写入党章，第一次全面地系统地科学地对毛泽东思想作了完整概括和论述，将毛泽东思想确立为中国共产党的指导思想。

C 项错误，1944 年 5 月，党的六届七中全会在延安召开。党的六届七中全会通过了《关于若干历史问题的决议》，总结了中国共产党成立以来的历史经验；对若干重大历史问题作出结论，特别是对土地革命战争时期以王明为代表的“左”倾错误进行了批判；高度评价毛泽东运用马克思列宁主义解决中国革命问题的一套理论、路线、方针、政策和杰出贡献，肯定了遵义会议的历史作用。《决议》指出了在全党确立毛泽东领导地位的重大意义。

D 项错误，1981 年 6 月，党的十一届六中全会在北京举行。全会一致通过《关于建国以来党的若干历史问题的决议》。《决议》肯定了毛泽东的历史地位和毛泽东思想，对新中国成立以来历史经验和教训作了科学的总结，对新中国成立以来一系列重大历史问题作出了正确的评价，彻底否定了“文化大革命”，标志着党在

指导思想上拨乱反正的胜利完成。

故正确答案为B。

36、本题考查政治常识。

①正确，“万物各得其和以生”出自《荀子·天论》，意思是天下万物，各自得到各自的和气而生成。说明人类要与自然和谐相处，合理利用、友好保护自然，体现了绿色发展理念。

②正确，“子钓而不纲，弋不射宿”出自《论语》，意思是不用大网打鱼，不射夜宿之鸟。说明人类要保护动植物，保护生态环境，推动形成绿色发展方式和生活方式，体现了绿色发展理念。

③错误，“甘瓜抱苦蒂，美枣生荆棘”出自《古诗源》，意思是甘甜的瓜同苦味的蒂相连，甜美的枣却生长于荆棘之中。说明看事物要全面，不能因为缺点而否认其优点，也不能因为优点而无视其缺点。

④错误，“太山之高，背而弗见”出自《淮南子·说林训》，意思是雄伟高耸如泰山，若是背对着必然也看不见它。说明人们要善于发现、善于观察，积极行动。

⑤正确，“草木荣华滋硕之时，则斧斤不入山林”出自《荀子·王制》，意思是草木开花生长之时，不能进山林砍伐，断绝它们的生长。说明人类要尊重自然、热爱自然，体现了绿色发展理念。

①②⑤体现了绿色发展理念。

故正确答案为B。

37、本题考查政治常识。

经广东省委常委会议、省政府常务会议审议通过，《关于推进贸易高质量发展的行动方案》（下称《行动方案》）已于4月13日正式印发实施。《行动方案》分两个时间节点，提出了广东省推进贸易高质量发展、建设贸易强省的奋斗目标。为实现上述目标，广东省将实施贸易高质量发展十大工程，分别是数字贸易工程、贸易新业态工程、“粤贸全球”品牌工程、展会提升工程、重大贸易平台工程、产业链招商工程、贸易龙头企业工程、粤港澳大湾区国际消费枢纽工程、通关便利化改革工程、贸易金融创新工程。

《行动方案》提出，推动企业提升贸易数字化和智能化管理能力，建设贸易数字化公共服务平台。创建国家数字贸易先行示范区，以广州、深圳为主引擎实施一批数字贸易先行先试举措。在消费环节，为大力促进消费扩容提质，广东省还将实施粤港澳大湾区国际消费枢纽工程，支持广州、深圳建设国际消费中心城市，打造一批具有较强国际影响力的步行街、新型消费商圈，吸引国内外知名品牌新品首发。同时，争取设立市内免税店，扩大国际教育、国际医疗服务供给。

①③④均属于行动方案的消费环节，②建设全国一体化大数据中心体系，属于加快构建全国一体化大数据中心协同创新体系，是贯彻落实《关于加快构建全国一体化大数据中心协同创新体系的指导意见》的具体举措。不符合《行动方案》举措，故①③④三项当选，②项排除。

故正确答案为C。

38、本题考查法律常识。

根据《中华人民共和国反家庭暴力法》第二条规定：“本法所称家庭暴力，是指家庭成员之间以殴打、捆绑、残害、限制人身自由以及经常性谩骂、恐吓等方式实施的身体、精神等侵害行为。”第二十三条第一款规定：“当事人因遭受家庭暴力或者面临家庭暴力的现实危险，向人民法院申请人身安全保护令的，人民法院应当受理。”

A 项错误，因小明的家庭作业错误较多，其母徐某打了小明巴掌，并非经常性殴打的侵害行为。

B 项错误，曾某和谢某是同事关系，并非家庭成员，不适用人身保护令。

C 项错误，陈某和林某是邻居，并非家庭成员，不适用人身保护令。

D 项正确，王某和李某是夫妻关系，且李某经常恐吓威胁王某，属于家庭成员之间以经常性恐吓方式实施的精神侵害行为，王某可以依法向法院申请人身安全保护令。

故正确答案为 D。

39、本题考查人文常识。

A 项正确，该句出自唐代高适的《送柴司户充刘卿判官之岭外》，其中“羊城”是广州的别称，该诗描绘了广东地区山海之风貌。

B 项正确，该句出自宋代苏轼的《惠州一绝》，意思是如果每天吃三百颗荔枝，我愿意永远都做岭南的人。岭南是惠州，岭南古代被称为南蛮之地，中原人士闻之生畏，不愿到广东来。现在提及到岭南一词，特指广东、广西、海南、香港、澳门三省二区，亦即是当今华南区域范围。此诗表达了诗人随遇而安的精神风貌和对岭南风物的喜爱之情。

C 项正确，该句出自唐代刘禹锡的《南海马大夫远示著述，兼酬拙诗，辄著微诚再》，作者用诗歌描绘了唐朝海上贸易的繁盛景象，“连天浪静长鲸息”描写的是南海的风景，属于广东风物。

D 项错误，该句出自唐代李白的《黄鹤楼送孟浩然之广陵》，意思是孤船帆影渐渐消失在碧空尽头，只看见滚滚长江向天际奔流。其中黄鹤楼为中国著名的名胜古迹，故址在今湖北武汉市武昌蛇山的黄鹤矶上，属于长江下游地带，不属于广东地区。

本题为选非题，故正确答案为 D。

40、本题考查人文常识。

A 项正确，亭（凉亭）是一种中国传统建筑，源于周代。多建于路旁，供行人休息、乘凉或观景用。亭一般为开敞性结构，没有围墙，顶部可分为六角、八角、圆形等多种形状。因为造型轻巧，选材不拘，布设灵活而被广泛应用在园林建筑之中。

B 项正确，台是用土筑成的方形的高而平的建筑物，它是最古老的园林建筑形式之一。早期的台是一种高耸的夯土建筑，古代的宫殿多建于台之上。古典园林中的台后来演变成厅堂前的露天平台，即月台。

C 项正确，楼本义是指两层以上的房屋、楼房，也用来指楼房的一层，后可泛指一切楼状物。

D 项错误，榭是一种借助于周围景色而见长的园林休憩建筑，也意为建在高土台或水面（或临水）上的木

屋。古代建筑中，高台上的木结构建筑称榭，其特点是只有楹柱和花窗，没有四周的墙壁。它的结构依照自然环境不同而有各种形式，如有花榭、水榭等之分。而阁是一种底部架空的高层建筑，通常四周设隔扇或栏杆回廊，供远眺、游憩、藏书和供佛之用。

本题为选非题，故正确答案为D。

41、根据空格前后“无数党员与人民群众努力的成果”、“每个人的一小步都是建设成功的关键”可知，横线处需体现个体力量也很强大，积少成多之意。D项“聚沙成塔”意思是将沙子堆成宝塔，比喻积少成多，符合文意，当选。A项“厚积薄发”意思是多多积蓄，慢慢放出，形容只有准备充分才能办好事情，不符合文意，排除；B项“积羽沉舟”意思是指小小的坏事积累起来就会造成严重的后果，感情色彩消极，与文段感情色彩不符，排除；C项“万众一心”意思是千万人一条心，形容团结一致，无法体现“个体”的力量，且文段并非强调团结，排除。

故正确答案为D。

42、横线前指出一些问题企业不注重根基，反而头脑一热投资很大，故横线处应体现如此做的后果，且根据转折词“却”前后语义相反可知，横线处需体现这些企业收益小。B项“收效甚微”指付出的努力基本没什么效果，符合文意，当选；A项“事倍功半”形容做事的方法费力大，收效小，根据后文“这类走偏的发展倾向须警惕”可知，横线处所需词语应程度更重，对比之下，排除；C项“得不偿失”意思是所得的利益抵偿不了所受的损失，文段并未提及损失，与前文“投资不小”无法构成转折，排除；D项“于事无补”意思是指对事情没有什么益处，不符合文意，排除。

故正确答案为B。

43、本题可从第二空入手，根据转折词“却”可知，横线处所填词语应与“短小精悍”意思相反，且体现出让人百读不厌之意，A项“耐人寻味”指其中的意味经得起人们反复地体会、琢磨，形容意味深长，B项“微言大义”意思是包含在精微语言里的深刻的道理，C项“意味深长”指意思含蓄深远，耐人寻味，均符合文意，保留。D项“言简意赅”形容说话写文章简明扼要，不符合文意，且无法构成转折，排除。

第一空，横线处搭配“寓言”与“智慧和思考”，C项“承载”指承受装载，搭配恰当，当选；A项“包含”指含有，寓言故事与人们的智慧和思考并非包含关系，排除；B项“彰显”指鲜明的显示，与后文寓言中蕴藏令人琢磨的道理语义相悖，排除。

故正确答案为C。

44、第一空，横线处搭配“信息”，根据“人们接收的信息大多来自于书本”可知，当时信息来源比较少，横线处需体现少、单一的语义。B项“单调”指简单重复而缺少变化，D项“匮乏”形容缺少或缺乏，且“信息匮乏”为常见搭配，均能体现信息较少的语境，保留。A项“封闭”指盖住或关闭，处于隔绝状态，C项“阻塞”指有阻碍而不能通过，文段表现信息接收较少，而非被完全隔绝，均程度过重，排除。

第二空，根据后文“所以，我们不能要求书店也必须保持‘传统’的味道”可知，设空处需体现阅读和接

收信息的方式发生了非常大的变化。D项“前所未有”指历史上从来没有过，可体现变化巨大，当选。B项“参差不齐”形容水平不一或很不整齐，不合文意，排除。

故正确答案为D。

45、第一空，根据“成为新的‘信息污染’”可知，横线处体现消费信息不好的一部分，感情色彩消极。B项“纷繁芜杂”指多而杂乱，没有条理，形容文章或者是事情杂乱无章，没有头绪，为贬义词，可以体现信息出现了问题，符合语境，当选。A项“林林总总”指繁多，D项“五花八门”比喻花样繁多或变幻多端，均为中性词，排除。C项“琳琅满目”比喻面前美好的东西很多，为褒义词，排除。

第二、三空代入验证，B项“挑战规则”、“制约发展”均为常见搭配，能够体现“信息污染”带来的负面影响，当选。

故正确答案为B。

46、文段开篇先指出无产阶级组织成为独立政党是无产阶级革命的首要条件，并强调“无产阶级政党必须成为一个统一的整体，必须由最彻底、最坚定的先进分子组成”。随后通过列宁、毛泽东、邓小平的话语论证政党要想发展与组织紧密相关。故文段为总分结构（对策+解释说明），旨在强调组织建设对于政党建设的必要性和重要性，对应C项。

A项，“经历长期探索”无中生有，文段未提及，排除；

B项，“革命胜利的关键”为解释说明部分，非重点，排除。

D项，缺少主题词“党”，且仅为部分内容，片面，排除。

故正确答案为C。

47、文段开篇分别介绍神经心理学和神经语言学的研究成果，汉字与拼音文字的不同区别。最后通过结论词“由此可见”总结全文，强调汉字对大脑开发有重要作用，对应B项。

A项，对应文段结论前其中一个分句的内容，片面且非重点，排除；

C项，缺少主题词“大脑”，排除；

D项，表述属于解释说明部分，结论词前，非重点，排除。

故正确答案为B。

48、对比选项，确定首句，③句中出现指代词，指代不明，不适宜作首句，排除D项。④句阐述观点“不同的人看问题角度不同”，⑤对“错位共识效应”下定义，两句均有首句特征，不好判断，寻找其他线索。

①句中出现转折词“但”，并介绍了一种现象，对比A、B、C三项，③句指出意见不合是一种广泛的现象，与①句话题一致，可捆绑；而④并未提到某种现象，排除C项。

对比A、B两项的差别，②句介绍错误公式效应带来的作用，⑤句介绍错误公式效应的定义，按照逻辑顺序，⑤句应在②句之前，对应B项。

故正确答案为B。

49、第一句强调要贯彻预防为主的健康工作方针，第二句强调要强化风险意识，文段呈现两个对策，为并列结构，应整体概括，旨在强调对于疾病风险应该预防，对应A项。

B项，“法制”文段未提及，无中生有，排除；

C项，“物资保障”文段未提及，无中生有，排除；

D项，“短板”为问题表述，而文段阐述的是对策，偏离文段核心，排除。

故正确答案为A。

50、文段开篇引出话题，介绍何为民法典，接着通过提出对策强调要想实施好民法典，必须走近群众，随后针对这一对策展开说明，强调要开展普法工作，要纳入教育体系，故整个文段都在围绕民法典的普及教育进行论述，对应A项。

B项，选项缺少主题词“民法典”，排除；

C项，“再深入”表述不明，如何实施，文段有明确的论述，排除；

D项，“‘进’校园”表述片面，文段中强调“普法教育”是让群众都接受的教育，而不仅仅只是“‘进’校园”，排除。

故正确答案为A。

51、数列无明显特征，变化趋势平缓，优先考虑作差。相邻两项作差，后项减前项，可得新数列：1，2，3，4，构成公差为1的等差数列，故新数列下一项为 $4+1=5$ 。则所求项为 $20+5=25$ 。

故正确答案为A。

52、数列无明显特征，变化趋势平缓，优先考虑作差。相邻两项作差，前项减后项，得到新数列：32，16，8，4，构成公比为 $\frac{1}{2}$ 的等比数列，故新数列下一项为 $4 \times \frac{1}{2} = 2$ 。则所求项为 $95-2=93$ 。

故正确答案为C。

53、数列无明显特征，作差无规律，考虑加和。原数列相邻两项加和得到新数列：4，9，16，25，36，（ ），新数列为幂次数，可转化为 2^2 ， 3^2 ， 4^2 ， 5^2 ， 6^2 ，则下一项为 $7^2=49$ ，因此原数列所求项为 $49-19=30$ 。

故正确答案为C。

54、数列项数较多，优先考虑多重数列，交叉后无规律，考虑分组。共10项，考虑两两分组，第一组：3.5，7；第二组：3，9；第三组：5，20；第四组：（ ），（ ）；第五组：21，126。观察发现，每一组后项除前项，得到新数列：2，3，4，？，6，构成公差为1的等差数列，故新数列中未知项为5，即所求项组成的第四组，后项除前项商5，只有A项符合。

故正确答案为A。

55、数列无明显特征，变化趋势比较平缓，优先考虑作差。相邻两项作差，后项减前项，可得新数列：4，6，8，10，构成公差为2的等差数列，故新数列下一项为 $10+2=12$ 。则所求项为 $30+12=42$ 。

故正确答案为 A。

56、数列相邻两项之间存在明显倍数关系，优先考虑作商。后项除前项得到新数列：1, 2, 4, 8, ()，构成公比为 2 的等比数列，则新数列下一项为 $8 \times 2 = 16$ 。因此，所求项为 $64 \times 16 = 1024$ 。

故正确答案为 A。

57、数列项数较多，尝试多重数列求解无规律；多级数列作差作和也均无规律。因此，考虑递推数列。观察发现： $6 + 7 = 13$ ， $7 + 15 = 22$ ， $15 + 13 = 28$ ， $13 + 22 = 35$ ， $22 + 28 = 50$ ，即 **第一项 + 第二项 = 第四项**。则所求项 = $28 + 35 = 63$

故正确答案为 B。

58、观察数列，发现相邻两项作差均为 7，故该数列是公差为 7 的等差数列，则所求项为 $30 + 7 = 37$ 。

故正确答案为 B。

59、数列无明显特征，变化趋势平缓，优先考虑作差。后项减前项，得到新数列：5, 10, 20, 40, ()，构成公比为 2 的等比数列，则新数列下一项为 $40 \times 2 = 80$ 。因此，所求项为 $75 + 80 = 155$ 。

故正确答案为 D。

60、观察数列，发现： $1 \times 2 = 2$ ， $2 \times 2 = 4$ ， $2 \times 4 = 8$ 即，为简单递推积数列，则 **所求项 = $4 \times 8 = 32$** 。

故正确答案为 D。

61、正难则反，“2 名女性员工不在同一组”的反面为“2 名女性员工在同一组”，则 **所求情况数 = 总情况数 - 反面情况数**。总的情况数：6 人平均分成 3 组，共有 $\frac{C_6^2 C_4^2 C_2^2}{A_3^3} = 15$ 种方法。2 名女性员工在同一组共有 3 种情况，则 **所求 = $15 - 3 = 12$** 种方法。

故正确答案为 D。

62、一位顾客从 5 种不同赠品中选两种，有 C_5^2 种情况，则两位顾客选取赠品共有 $C_5^2 \times C_5^2 = 10 \times 10 = 100$ 种情况。两位顾客选取的赠品恰有 1 种赠品相同：先从 5 种赠品中共同选取一种，有 5 种情况；再从剩下的 4 种赠品中选 2 种分配给 2 位顾客，共有 A_4^2 种情况，分步相乘，则恰有一种赠品相同的情况数为 $5 \times A_4^2 = 5 \times 4 \times 3 = 60$ 种。故所求概率 $P = \frac{\text{满足要求的情况数}}{\text{总的情况数}} = \frac{60}{100} = 60\%$ 故正确答案为 D。

63、设这类文件数量为 x ，则小郑、小卢、小潘签字的文件数分别为 $(x - 14)$ 、 $(x - 15)$ 、 $(x - 17)$ ，故存档的文件数 = $\frac{x - 14 + x - 15 + x - 17}{2} = \frac{3}{2}x - 23$ 。存档文件数必为整数， x 则一定是 2 的倍数，即为偶数。因此 $(x - 14)$ 也为偶数，即小郑签字的文件数量一定为偶数，只有 C 项不符合。

故正确答案为 C。

64、已知比例求比例，考虑赋值，赋值甲、乙、丙杯盐水的质量分别为 10、20、10。设甲杯盐水浓度为 x ，乙杯盐水浓度为 x ，根据混合前后溶质量不变，可得： $10x + 20 \times \frac{x}{2} + 10 \times 40\% = (10 + 20 + 10) \times 20\%$ ，解得： $x = 20\%$ ，即甲杯盐水浓度为 20%。

故正确答案为 C。

65、已知比例求比例，考虑赋值法。赋值 B 公司第一季度营业收入为 100，根据题意列表如下：

	一季度	二季度
A	$100 \times (1 - 20\%) = 80$	$80 \times (1 + 5\%) = 84$
B	100	$100 \times (1 - 10\%) = 90$

则

A、B 两家公司第二季度营业收入之比为 $84 : 90 = 14 : 15$

故正确答案为 B。

66、根据题意可知，乙车间每天生产 $12 + 8 = 20$ 台。设乙车间完成全部任务还需 x 天，可得： $10 \times 12 + 20x = 240$ ，解得 $x = 6$ 天，即乙车间完成全部任务还需 6 天。

故正确答案为 D。

67、方法一：设该水果店共批发了 $4x$ 个哈密瓜。根据题意，可得： $4x - 2x - x = 6$ ，解得 $x = 6$ 个。因此，该水果店共批发了 $4 \times 6 = 24$ 个哈密瓜。

方法二：根据题意可知，最后剩下的 6 个哈密瓜占哈密瓜总数的 $\frac{1}{4}$ 。因此，该水果店共批发了 $4 \times 6 = 24$ 个哈密瓜。

故正确答案为 D。

68、该水池底面边长为 x 米。根据题意可知， $1.8x^2 = 45$ ，解得： $x = 5$ 米。则池底的造价为： $5 \times 5 \times 280 = 7000$ 元，4 个池壁的造价为： $4 \times (5 \times 1.8 \times 250) = 9000$ 元。因此，该水池的总造价为 $7000 + 9000 = 16000$ 元。

故正确答案为 C。

69、根据常识可知 4 月有 30 天，4 月 1 号~28 号共 28 天，对应完整的 4 个星期，有 4 个星期二和 4 个星期三。某年 4 月有 5 个星期二和 4 个星期三，则剩余的天里一定有 1 个星期二且没有星期三，则 4 月 30 号一定是星期二。因此当年的劳动节，即 5 月 1 日是星期三。

故正确答案为 A。

70、方法一：设原来的正方形方阵每行每列均有 n 个座位，则撤下三行三列后的方阵每行每列有 $(n - 3)$ 个座位。根据题意可得： $n^2 - (n - 3)^2 = 81$ ，解得： $n = 15$ 。则最开始摆放的座位数为： $15^2 = 225$ 个。

方法二：设原来的正方形方阵每行每列均有 n 个座位，则撤下三行三列后减少的人数可表示为： $3n + 3n - 3 \times 3 = 6n - 9$ ，根据题意，可得： $6n - 9 = 81$ ，解得： $n = 15$ 。则最开始摆放的座位数为： $15^2 = 225$ 个。

故正确答案为 A。

71、元素组成相似，优先考虑样式规律。观察发现，第一组前两个图形求同后得到第三个图形；第二组应用此规律，故？处应选择由前两个图形求同后得到的图形，只有 C 项符合。

故正确答案为 C。

72、本题考查三视图。

正视图是从物体的前面向后面观察得到的视图，根据该立体图，正视图右侧应只有上半部分图形，下方无图形，排除 A、B 项；右视图是从物体的右侧向左侧观察得到的视图，根据该立体图，中间应该有 3 条横线，排除 D 项。

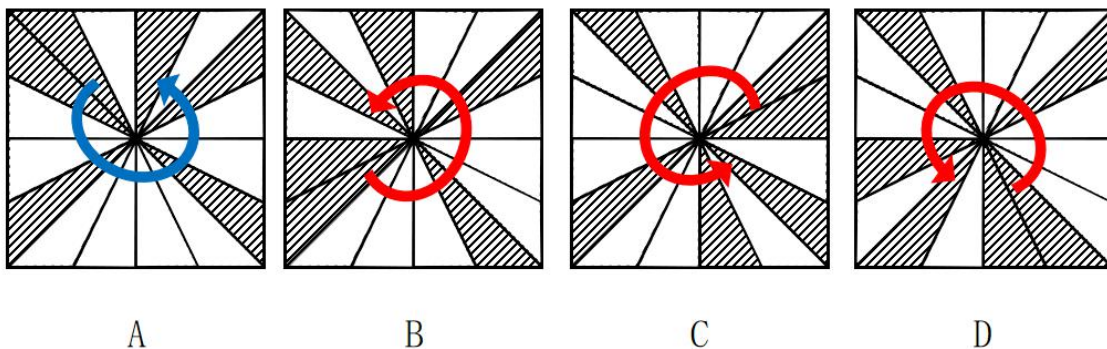
故正确答案为 C。

73、元素组成相同，优先考虑位置规律。观察发现，题干中三角形依次顺时针平移 4 格，圆形依次顺时针平移 3 格，故？处应由前一个图中三角形顺时针平移 4 格，圆形顺时针平移 3 格得到，只有 B 项符合。

故正确答案为 B。

74、元素组成相同，考虑位置规律。如下图所示，如在每个图中均以两个阴影三角形为起点，顺时针连接所有的阴影图形。A 项中时针依次经过 2 个、4 个、2 个、1 个白三角，BCD 项中时针依次经过 3 个、3 个、2 个、1 个白三角，故 BCD 的元素排布顺序相同，A 项与其他三项排布顺序不同。

故正确答案为 A。



75、元素组成不同，优先考虑属性规律。观察发现，第一组图形中均存在两条相互垂直的对称轴，均为轴

对称加中心对称图形；第二组图形中前两幅图均为轴对称加中心对称图形，故？处应选择轴对称加中心对称的图形，只有A项符合。

故正确答案为A。

76、第一步：判断题干词语间逻辑关系。

“仁、义、礼、智、信”出自《孟子·告子上》，是儒家提倡做人的起码道德准则，因此仁、义两者为并列关系。

第二步：判断选项词语间逻辑关系。

A项：“春、夏、秋、冬”是一年的四季，因此二者为并列关系，与题干逻辑关系一致，保留；

B项：“温、良、恭、俭、让”出自《论语·学而》，是做人的道德准则，因此恭、让二者为并列关系，与题干逻辑关系一致，保留；

C项：明、暗二者为反义关系，与题干逻辑关系不一致，排除；

D项：淡、浓二者为反义关系，与题干逻辑关系不一致，排除。

对比A、B两项，仁和义、恭和让均属于传统美德，而春和夏是四季，排除A项。

故正确答案为B。

77、第一步：判断题干词语间逻辑关系。

驾驶汽车，二者为动宾关系。

第二步：判断选项词语间逻辑关系。

A项：聆听音乐，二者为动宾关系，与题干逻辑关系一致，但两词顺序相反，排除；

B项：喝茶、饮水二者为并列关系，与题干逻辑关系不一致，排除；

C项：聚会时喝啤酒，二者为对应关系，与题干逻辑关系不一致，排除；

D项：观赏戏剧，二者为动宾关系，与题干逻辑关系一致，当选。

故正确答案为D。

78、第一步：判断题干词语间逻辑关系。

书面是沟通的一种方式，二者为方式对应关系。

第二步：判断选项词语间逻辑关系。

A项：走路是出行的一种方式，二者为方式对应关系，与题干逻辑关系一致，当选；

B项：飞机和轮船都是交通工具，二者为并列关系，与题干逻辑关系不一致，排除；

C项：烹饪又称为做饭，二者为全同关系，与题干逻辑关系不一致，排除；

D项：通讯需要信号，二者为条件对应关系，与题干逻辑关系不一致，排除。

故正确答案为A。

79、第一步：判断题干词语间逻辑关系。

面粉是制作馒头的原材料，二者为原材料的对应关系；用蒸锅蒸馒头，二者为工具的对应关系。

第二步：判断选项词语间逻辑关系。

A项：画笔蘸取颜料在纸张上作画，三者为配套使用的对应关系，与题干逻辑关系不一致，排除；

B项：棉花是制作布的原材料，二者为原材料的对应关系；用织布机织布，二者为工具的对应关系，与题干逻辑关系一致，当选；

C项：铁是制作菜刀的原材料，二者为原材料的对应关系；菜刀有刀刃，二者为组成关系，与题干逻辑关系不一致，排除；

D项：高粱是制作酒精的原材料，二者为原材料的对应关系；高粱经过发酵制成酒精，二者为原材料与工艺的对对应关系，与题干逻辑关系不一致，排除。

故正确答案为B。

80、第一步：判断题干词语间的逻辑关系。

汉字是字典的组成部分，二者为组成关系。

第二步：判断选项词语间的逻辑关系。

A项：鼠标和键盘为配套使用的对应关系，与题干逻辑关系不一致，排除；

B项：手机具有聊天的功能，二者为功能对应关系，与题干逻辑关系不一致，排除；

C项：音符是乐谱的组成部分，二者为组成关系，与题干逻辑关系一致，当选；

D项：阅读是运用语言文字来获取信息、认识世界、发展思维，并获得审美体验与知识的活动，与写字无明显逻辑关系，与题干逻辑关系不一致，排除。

故正确答案为C。

81、第一步：整理题干信息。

①小陈：一小陈

②小姜：小姜→小曾

③小曾：小姜→小丁

④小丁：小姜且一小曾

第二步：分析题干。

由提问可知，本题为真假推理，先找矛盾关系。②和④为矛盾关系，必有一真一假，所以唯一的一真在②和④中，则①③为假，那么可知：小陈入选、小姜入选且小丁没有入选。

故正确答案为A。

82、第一步：找出题干矛盾。

某地政府大力推广“住在家中，服务在社区”的养老模式，然而这一模式并没有得到广大居民的积极响应。

第二步：逐一分析选项。

A 项：该项说明该地区的传统，但并未解释这一养老模式没有得到响应的原因，无法解释题干现象，当选；

B 项：该项说明宣传推广不到位，因此可能很多居民并不了解这一养老模式，所以没能响应，可以解释题干现象，排除；

C 项：该项说明这一养老模式价格高昂，因此居民可能会因为价格原因而不响应该模式，可以解释题干现象，排除；

D 项：该项说明这一养老模式的质量不高，因此居民可能会因为追求高质量养老而不响应该模式，可以解释题干现象，排除。

本题为选非题，故正确答案为 A。

83、根据（2）和（3）可知，游泳运动员得过金牌，但丙从未拿过第一，则丙不是游泳运动员，又因为丙不是举重运动员，则丙一定是乒乓球运动员。根据（1）可知，甲不会游泳，则甲不是游泳运动员，则甲一定是举重运动员，所以乙是游泳运动员。

故正确答案为 D。

84、第一步：分析题干。

①7 个员工，小张、小唐、小赵和小宋来自同个部门，小林、小贾和小康来自另一个部门

②所有座位朝向相同

③小张所在部门所有员工的座位都不相邻，即小张、小唐、小赵和小宋坐在第 1、3、5、7 位

④小赵在这排椅子的位置中紧挨着第四个员工的右边坐，即小赵坐在第 5 位

⑤小贾坐在小赵的右边，即小贾坐在第 6 位

⑥小张和小林相邻，即张林/林张

⑦小张和小赵中间间隔了不止一人

第二步：根据题干条件分析选项。

题干问可能为真，优先采用代入法，分别代入选项。

代入 A 项：小康坐在小张的左边，根据⑥可知，排序只能为康张林，再由③可知，小张只能坐在第 3 位，此时不符合⑦小张和小赵中间间隔了不止一人，不满足题干条件，排除；

1	2	3	4	5	6	7
	康	张	林	赵	贾	

代入 B 项：小林坐在小张的左边，根据⑥可知，排序只能为林张，再由③可知，小张只能坐在第 3 位，此时不符合⑦小张和小赵中间间隔了不止一人，不满足题干条件，排除；

1	2	3	4	5	6	7
	林	张		赵	贾	

代入 C 项：小唐坐在小张的左边，根据⑥可知，排序只能为唐张林，再由③可知，小张只能坐在第 3 位，此时不符合⑦小张和小赵中间间隔了不止一人，不满足题干条件，排除；

1	2	3	4	5	6	7
	唐	张	林	赵	贾	

代入 D 项：小宋坐在小赵的左边，当 7 位员工排序如下时，即可满足题干条件，故可能为真。

1	2	3	4	5	6	7
张	林		宋	赵	贾	

故正确答案为 D。

85、第一步：分析题干论证方式。

题干的论证结构是：太阳系 处于银河系中，地球 太阳系中的行星，因此，地球 处于银河系中，是 A B，C A’（A ‘包含在 A 中），推出 C B 的推理形式。

第二步：逐一分析选项。

A 项：该项论证结构为：护士 女性，甲 男性，因此，甲 -该医疗小组的护士，是 A B，C -B，推出 C A 的推理形式，与题干推理形式不一致，排除；

B 项：该项论证结构为：糖尿病人 每天糖的摄入量不应超过 50 克，乙 每天摄糖量在 25 克以下，因此，乙 糖尿病人，是 A B，C B，推出 C A 的推理形式，与题干推理形式不一致，排除；

C 项：该项论证结构为：期末考试成绩在 90 分以上的学生 优秀，丙 96 分，因此，丙 优秀，是 A B，C A’（A ‘包含在 A 中），推出 C B 的推理形式，与题干推理形式一致，当选；

D 项：该项论证结构为：所有跳水运动员 游泳，丁 会游泳，因此，丁 跳水运动员，是 A B，C B，推出 C A 的推理形式，与题干推理形式不一致，排除。

故正确答案为 C。

86、第一步：找出论点和论据。

论点：这款耳机的销量会远远超过市面上所有其它同类产品的销量。

论据：降低噪音的效果比市面上所有同类产品都要好。

本题论点说的是该耳机销量超过市面上其他同类产品，论据说的是该耳机降噪效果好，论点论据话题不一致，考虑拆桥。

第二步：逐一分析选项。

A 项：该项说的是这款耳机的耗电量高于其它同类产品，耗电量是否会影响销量不得而知，为不明确项，无法削弱，排除；

B 项：降噪功能不是大部分消费者的主要关注点，说明降噪功能好不能代表销量高，切断论点和论据之间的联系，为拆桥项，可以削弱，当选；

C项：该项说的是这款耳机的价格略高于其它同类产品，价格是否会影响销量不得而知，为不明确项，无法削弱，排除。

故正确答案为B。

87、第一步：翻译题干。

①所有参赛职工→40周岁以下

②有些参赛职工→不会说英语

根据有的A是B等价于有的B是A，由②可得③有些不会说英语→参赛职工，将①③串联可得④有些不会说英语→参赛职工→40周岁以下，即有些不会说英语的是40周岁以下。

第二步：逐一分析选项。

A项：由④有些不会说英语的是40周岁以下，无法得知会说英语的是40周岁以下，两个有的无法推出，该项无法推出，排除；

B项：由④有些不会说英语的是40周岁以下，可知有些40周岁以下的职工不会说英语，可以推出，当选；

C项：由④有些不会说英语的是40周岁以下，无法得知会说英语的是40周岁以上，该项无法推出，排除；

D项：由③有些不会说英语→参赛职工，无法得知有些会说英语的人不参赛，该项无法推出，排除。

故正确答案为B。

88、第一步：找到论点论据。

论点：在该流感高发期，药店和电商平台上的维生素C一度脱销。

论据：维生素C具有抗病毒的作用，因此有专家团队进行了大剂量维生素C治疗某种流感的临床试验，对此，有人认为，大量的服用维生素C可以预防该流感。

论据说明试验中的维生素C具有抗病毒的作用，可以预防该流感，论点说药店和电商平台上的维生素C可以治疗流感，论点论据话题不一致，削弱考虑拆桥。

第二步：逐一分析选项。

A项：该项说明维生素C具有增强人体免疫力的作用，与论点流感是否会导致药店和电商平台上的维生素C一度脱销无关，不能削弱，排除；

B项：该项说明临床实验用的维生素C试剂与市面上购买的维生素C不同，说明不能通过实验中的维生素C具有预防流感的作用得到药店和电商平台上的维生素C可以治疗流感，为拆桥项，当选；

C项：该项说明食物中的维生素C的来源，与论点流感是否会导致药店和电商平台上的维生素C一度脱销无关，不能削弱，排除；

D项：该项说明维生素C对普通人预防感染并不一定有效，为不明确选项，不能削弱，排除。

故正确答案为 B。

89、第一步：找出题干矛盾。

为激发员工的工作积极性、主动性，某企业人力资源部门定期发放各种福利，但是该企业员工的工作积极性和主动性并没有明显的提升。

第二步：逐一分析选项。

A 项：该项说明该企业多久发放一次福利，无法解释发放各种福利企业员工的工作积极性和主动性并没有明显的提升，不能解释题干矛盾，排除；

B 项：该项说的是整个行业不景气，无法解释发放各种福利企业员工的工作积极性和主动性并没有明显的提升，不能解释题干矛盾，排除；

C 项：该项说的企业向所有的员工都发放了福利，无法解释发放各种福利企业员工的工作积极性和主动性并没有明显的提升，不能解释题干矛盾，排除；

D 项：该项说明发放的日用品质量不好，员工可能不满意，可以解释为什么发放各种福利企业员工的工作积极性和主动性并没有明显的提升，可以解释题干矛盾，当选。

故正确答案为 D。

90、第一步：找出论点和论据。

论点：为了缓解焦虑情绪，人们一定会不由自主地想要查看手机，这就解释了现在人们普遍存在的“无手机恐惧症”。

论据：当人们查看完手机再放下之后，肾上腺会分泌皮质醇、少量皮质醇对人体有益，但随着皮质醇升高，人们会变得愈加焦虑。

论据讨论的是查看手机再放下之后会导致焦虑，论点讨论的是为了缓解焦虑必须要看手机，论点和论据的话题不一致，因此只要找到指出通过不看手机会变得焦虑无法推出为了缓解焦虑必须要看手机的选项即可。

第二步：逐一分析选项。

A 项：该项指出假设了查看手机是人们缓解焦虑的唯一方法，即说明如果没有这一假设，则无法推出为了缓解焦虑一定要看手机，可以指出论证缺陷，当选；

B 项：该项指出忽视了“无手机恐惧症”的其他影响因素，但其它因素的具体情况与焦虑是否有关不得而知，为不明确项，排除；

C 项：该项指出手机使用频率相当高，与不由自主地想要查看手机是否会缓解焦虑情绪无关，无法指出论证缺陷，为无关项，排除；

D 项：该项指出忽视了使用手机处理工作的具体情况，与不由自主地想要查看手机是否会缓解焦虑情绪无关，无法指出论证缺陷，为无关项，排除；

故正确答案为 A。

91、定位文字材料可知，2020年L省甜菜产量11.8万吨，蔬菜产量1852.3万吨。则2020年L省蔬菜产量比甜菜产量高约 $1852.3 - 11.8 \approx 1852 - 12 = 1840$ 万吨。

故正确答案为B。

92、根据题干“2016-2020年...年平均产量...”，结合材料时间为2015-2020年，可判定本题为现期平均数问题。定位统计图可知，2016-2020年，每年L省的粮食产量分别为1873.2万吨、2186.6万吨、2315.6万吨、2330.7万吨和2192.4万吨。则2016-2020年，L省粮食的年平均产量为 $\frac{1873.2 + 2186.6 + 2315.6 + 2330.7 + 2192.4}{5} \approx \frac{1870 + 2190 + 2320 + 2330 + 2190}{5} = \frac{10900}{5} = 2180$ 万吨。

故正确答案为C。

93、根据题干“2019年...占...比重...”，结合材料所给时间为2020年，可判定本题为基期比重问题。定位文字材料可知，2020年L省全年水产品产量450.7万吨（B），同比下降6.11%（b）；海水养殖286.3万吨（A），下降7.08%（a）。根据基期比重 $= \frac{A}{B} \times \frac{1+b}{1+a}$ ，可得2019年，L省海水养殖产业产量占全年水产品产量的比重为： $\frac{286.3}{450.7} \times \frac{1-6.11\%}{1-7.08\%} \approx \frac{286.3}{451} \times \frac{0.94}{0.93} \approx 63.5\% \times 1 = 63.5\%$ ，与C项最接近。

故正确答案为C。

94、根据题干“2017-2020年...增速最快...”，可判定本题为一般增长率比较问题。定位统计图可知，2016-2020年L省各年的粮食产量。根据增长率 $= \frac{\text{现期量} - \text{基期量}}{\text{基期量}}$ ，可得2017-2020年，L省粮食产量增速分别为：

$$2017 \text{ 年: } \frac{2186.6 - 1873.2}{1873.2} = \frac{313.4}{1873.2} > 10\%;$$

$$2018 \text{ 年: } \frac{2315.6 - 2186.6}{2186.6} = \frac{129}{2186.6} < 10\%;$$

$$2019 \text{ 年: } \frac{2330.7 - 2315.6}{2315.6} = \frac{15.1}{2315.6} < 10\%;$$

$$2020 \text{ 年: } \frac{2192.4 - 2330.7}{2330.7} < 0.$$

比较可得，2017-2020年，L省粮食年产量增速最快的一年是2017年。

故正确答案为A。

95、A项：定位统计图可知，2015-2020年，每年L省的粮食产量分别为2353.3万吨，1873.2万吨，2186.6万吨，2315.6万吨，2330.7万吨和2192.4万吨。比较可知，产量最高的是2353.3万吨，则2015-2020年，L省粮食产量最高的年份是2015年，错误；

B项：定位文字材料可知，2020年L省淡水捕捞3.9万吨，下降15.22%；淡水养殖79.9万吨，下降3.73%。

根据基期量 $= \frac{\text{现期量}}{1 + \text{增长率}}$ ，可得2019年，L省全年淡水产品产量为

$$\frac{3.9}{1-15.22\%} + \frac{79.9}{1-3.73\%} \approx \frac{3.9}{0.85} + \frac{79.9}{0.96} \approx 4.6 + 83.2 = 89.8 < 100 \text{万吨, 即未超过 100 万吨, 错误;}$$

C 项: 定位文字材料可知, 2020 年 L 省甜菜产量 11.8 万吨, 油料产量 78.13 万吨。则 2020 年, L 省甜菜及油料产量合计为 $11.8 + 78.13 = 89.93 \approx 90$ 万吨, 正确;

D 项: 定位统计图可知, 2015-2020 年, 每年 L 省的粮食产量分别为 2353.3 万吨, 1873.2 万吨, 2186.6 万吨, 2315.6 万吨, 2330.7 万吨和 2192.4 万吨。比较可知, 2016-2020 年, L 省粮食产量同比下降的年份只有 2016 年和 2020 年, 共 2 个, 错误。

故正确答案为 C。

96、根据题干“2020 年第四季度 比 2019 年第四季度增加约 亿元”, 可判定本题为增长量计算问题。定位文字材料可知, 2020 年, 全国规模以上文化及相关产业企业实现营业收入 98514 亿元, 比上年增长 2.2%, 其中, 前三季度实现营业收入 66119 亿元, 同比下降 0.6%。

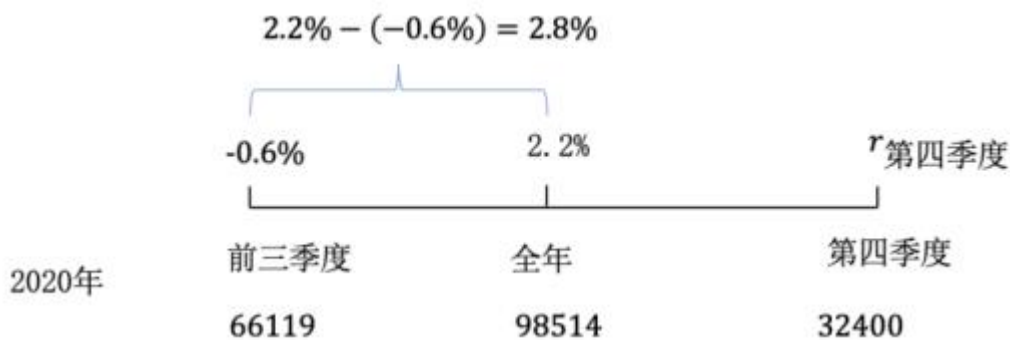
方法一: 根据部分增长量加和等于整体增长量, 则全国规模以上文化及相关产业企业营业收入:

2020 年第四季度的同比增长量 = 2020 年全年同比增长量 - 2020 年前三季度同比增长量。根据 $\text{增长量} = \frac{\text{现期}}{1+r} \times r$, 则

$$\begin{aligned} \text{所求增长量} &= \frac{98514}{1+2.2\%} \times 2.2\% - \frac{66119}{1-0.6\%} \times (-0.6\%) && \approx \frac{98614}{1+\frac{1}{45}} \times \frac{1}{45} + \frac{66119}{1-\frac{1}{167}} \\ &= \frac{98514}{46} + \frac{66119}{166} \approx 2140 + 400 = 2540 \text{ 亿元, 与 A 选项最接近。} \end{aligned}$$

方法二: 结合线段法”距离与量成反比“(一般可用现期量替代基期量), 可得:

$$\begin{aligned} \frac{r_{\text{第四季度}} - 2.2\%}{2.2\% - (-0.6\%)} &= \frac{66119}{98514 - 66119} \approx \frac{2}{1}, \text{ 解得 } r_{\text{第四季度}} = 7.8\%。 \text{ 根据 } \text{增长量} = \frac{\text{现期}}{1+r} \times r, \text{ 则} \\ \text{所求增长量} &= \frac{98514 - 66119}{1+7.8\%} \times 7.8\% \approx \frac{32400}{1+\frac{1}{13}} = \frac{32400}{14} \approx 2300 \text{ 亿元,} \end{aligned}$$



97、根据题干“2020 年, 占 的比重”, 结合材料时间为 2020 年, 可判定本题为现期比重问题。定位文字材料可知, 2020 年, 规模以上文化及相关产业企业实现营业收入 98514 亿元; 定位统计表可知, 2020 年全国规模以上文化及相关产业企业的营业收入及其增速。2020 年, 9 个规模以上文化及相关产业中, 营业收入同比上升的有 6 个, 同比下降的有 3 个, 分别为文化传播渠道、文化娱乐休闲服务、文化

辅助生产和中介服务，对应营业收入为 10428 亿元、1115 亿元、13519 亿元。根据 $\text{比重} = \frac{\text{部分}}{\text{总体}}$ ，则 2020 年文化及相关产业营业收入同比上升的企业，其营业收入的占比 = $1 - \text{同比下降企业收入占比} = 1 - \frac{10428 + 1115 + 13519}{98514} \approx 1 - \frac{10400 + 1100 + 13500}{98500} = 1 - \frac{25000}{98500} \approx 1 - 25\% = 75\%$ ，在 C 项的范围内。

故正确答案为 C。

98、根据题干“2020 年……占……比重”，结合材料时间为 2020 年，可判定本题为现期比重问题。定位表格材料可知，2020 年文化辅助生产和中介服务、文化装备生产、文化消费终端生产营业收入分别为 13519 亿元、5893 亿元、18808 亿元。根据 $\text{比重} = \frac{\text{部分}}{\text{总体}}$ ，总体相同，部分量越大，所占比重越大；则 2020 年，占文化相关领域行业营业收入比重：文化消费终端生产（空白）>文化辅助生产和中介服务（格纹）>文化装备生产（灰色），仅 A 选项符合。

故正确答案为 A。

备注：饼状图读数，要遵循 12 点原则，即以 12 点钟方向为起点，沿着顺时针方向依次阅读取数。

99、根据题干“2020 年……超过……平均值的地区有”，结合材料时间为 2020 年，可判定本题为现期平均数问题。定位表格材料可知，2020 年东部、中部、西部、东北地区全年营业收入分别为 73943 亿元、14656 亿元、9044 亿元、872 亿元；2020 年前三季度东部、中部、西部、东北地区营业收入分别为 50305 亿元、9385 亿元、5865 亿元、564 亿元。则全国 4 个地区，2020 年第四季度营业收入及季度营业收入平均值分别为：

东部：第四季度为 $73943 - 50305 \approx 24000$ 亿元，季度平均值为 $\frac{73943}{4}$ 亿元 < 20000 亿元 < 24000 亿元，符合题意；

中部：第四季度为 $14656 - 9385 \approx 5300$ 亿元，季度平均值 = $\frac{14656}{4} < 4000$ 亿元 < 5300 亿元，符合题意；

西部：第四季度为 $9044 - 5865 \approx 3200$ 亿元，季度平均值 = $\frac{9044}{4} < 3000$ 亿元 < 3200 亿元，符合题意；

东北：第四季度为 $872 - 564 \approx 300$ 亿元，季度平均值 = $\frac{872}{4} \approx 200$ 亿元 < 300 亿元，符合题意。

因此，2020 年，4 个地区第四季度规模以上文化企业营业收入均超过本地区当年季度营业收入平均值。

故正确答案为 D。

100、A 项：定位文字材料可知，2020 年，规模以上文化及相关产业企业实现营业收入 98514 亿元；定位表格材料可知，2020 年内容创作生产营业收入为 23275 亿元。根据 $\text{比重} = \frac{\text{部分}}{\text{总体}}$ ，则 2020 年内容创作生产行业营

业收入占总收入的比重为 $\frac{23275}{98514} = 23\%+ < 25\%$ 。错误；

B项：定位表格材料可知，2020年东部地区全年营业收入为73943亿元，前三季度为50305亿元；定位文字材料可知，2020年全国企业实现营业收入98514亿元，前三季度实现营业收入66119亿元。则2020年第四季度营业收入：东部地区为 $73943 - 50305 = 23638$ 亿元，全国为 $98514 - 66119 = 32395$ 亿元。根据 $\text{比重} = \frac{\text{部分}}{\text{总体}}$ ，故2020年第四季度，东部地区收入占全国总收入的比重 $= \frac{23638}{32395} = 70\%+ < 90\%$ 。错误；

C项：定位表格材料可知，2020年收入最低的两个行业为文化投资运营和休闲娱乐休闲服务，其营业收入分别为451亿元和1115亿元。则这两个行业的平均收入 $= \frac{451 + 1115}{2} = 783$ 亿元 > 600 亿元。错误；

D项：定位表格材料可知，2020年前三季度，9个规模以上文化及相关产业中收入同比增长的行业有新闻信息服务、内容创作生产、创意设计服务、文化投资运营、文化消费终端生产，共5个， $5 > \frac{9}{2}$ ，即超过行业总数（9个）的一半。正确。

故正确答案为D。